

SCHOOL BASED ASSESSMENT 2023

MODEL PAPER

GRADE 7

COMPUTER EDUCATION PART – A (Objective Type)

[Paper A: 48 Marks, Paper B: 52 Marks, Total: 100 Marks]



School : _____
Tehsil : _____ District: _____

Student Name : _____ Section : _____

Roll Number : _____ Date : _____

General Instructions for students :

طلبہ کے لیے عمومی ہدایات:

1) Use mask & keep at least 3 ft. distance from each other.

۱۔ ماسک پہنیں اور آپس میں کم از کم 3 فٹ کا فاصلہ رکھیں۔

2) Read carefully and attempt all questions.

۲۔ غور سے پڑھیں اور تمام سوالات حل کریں۔

3) Encircle the correct option of each of the Multiple Choice Questions (MCQs) as shown in the example given below.

۳۔ ہر کثیر الانتخابی سوال کے صحیح جواب پر دائرہ لگائیں جیسا کہ نیچے دی گئی مثال میں دکھایا گیا ہے۔

Example : Which error occurs when the instructions written in a program do not follow the rules of the programming language?

مثال : کون سی غلطی اس وقت ہوتی ہے جب پروگرام میں لکھی گئی ہدایات پروگرامنگ زبان کے اصولوں پر عمل نہیں کرتی ہیں۔

(a) Syntax Error

سینٹیکس ایرر

(b) Logical Error

لاجیکل ایرر

(c) Run-Time Error

رن ٹائم ایرر

(d) Execution Error

ایگزیکوشن ایرر

4) If more than one options are encircled in a question, no mark will be given.

۴۔ اگر کسی سوال میں ایک سے زیادہ جوابات کے گرد دائرہ لگایا گیا تو کوئی نمبر نہیں دیا جائے گا۔

Total Marks: 48

Part-A (Multiple Choice Questions)

Total Time: 1 Hour

Instructions: Thirty two (32) Multiple Choice Questions (MCQs) are given in this paper. Each question carries 1.5 marks.

ہدایات : اس پیپر میں بتیس (32) کثیر الانتخابی سوالات دیے گئے ہیں۔ ہر سوال کے 1.5 نمبر ہیں۔

Question No.1 : Name the given component, that is connected to the system board.

سوال نمبر 1: دیئے گئے component کا نام بتائیں، جو سسٹم بورڈ سے منسلک ہوتا ہے۔

(a) ROM

روم

(b) RAM


ریم

(c) Processor

پروسیسر

(d) USB

یو۔ ایس۔ بی



Question No.2 : Barcode has a "series of numbers" that is called:

سوال نمبر 2: بارکوڈ "نمبروں کی سیریز" ہے، جسے کہتے ہیں:

(a) Universal Promo Code

یونیورسل پرمو کوڈ

(b) Universal Product Code

یونیورسل پروڈکٹ کوڈ

(c) Universal Part Code

یونیورسل پارٹ کوڈ

(d) Universal Process Code

یونیورسل پروسیس کوڈ

Question No.3 : A device driver is an example of:

سوال نمبر 3: ڈیوائس ڈرائیور کی مثال ہے:

(a) Application Software

اپلیکیشن سافٹ ویئر

(b) Educational Software

ایجوکیشنل سافٹ ویئر

(c) Entertainment Software

انٹرنیٹ سافٹ ویئر

(d) System Software

سسٹم سافٹ ویئر

Question No.4 : The Software which controls and manages the overall functionality of a computer is called:

سوال نمبر 4: وہ سافٹ ویئر جو کمپیوٹر کی تمام فنکشنلیٹی کو کنٹرول اور منظم کرتا ہے اس کو کہتے ہیں:

(a) Application Software

اپلیکیشن سافٹ ویئر

(b) System Software

سسٹم سافٹ ویئر

(c) Utility Programs

یوٹیلٹی پروگرامز

(d) Device Drivers

ڈیوائس ڈرائیورز

Question No.5 : A software that is used to view and manage visual data is known as:

سوال نمبر 5: سافٹ ویئر جو visual data کو دیکھنے اور منظم کرنے کے لیے استعمال کیا جاتا ہے، کہلاتا ہے:

(a) System viewer

سسٹم ویور

(b) File viewer

فائل ویور

(c) Disk viewer

ڈسک ویور

(d) Image viewer

ایمچ ویور

Question No.6 : MS Powerpoint is a type of:

سوال نمبر 6: MS Powerpoint _____ کی قسم ہے۔

(a) System Software

سسٹم سافٹ ویئر

(b) Application Software

اپلیکیشن سافٹ ویئر

(c) Utility Software

یوٹیلٹی سافٹ ویئر

(d) Device Driver Software

ڈیوائس ڈرائیور سافٹ ویئر

Question No.7 : Choose the key used to set the position of the text quickly at specific location.

سوال نمبر 7: مخصوص مقام پر ٹیکسٹ کی پوزیشن فوری طور پر سیٹ کرنے کے لیے استعمال ہونے والی key کا انتخاب کریں۔

(a) Spacebar

(b) Ctrl

(c) Tab

(d) Enter

Question No.8 : Identify the view of the MS Word document as shown in the below image.

سوال نمبر 8: MS Word ڈاکومنٹ کے ویو کی شناخت کریں جیسا کہ نیچے دی گئی تصویر میں دکھایا گیا ہے۔

(a) Web Layout View

ویب لے آؤٹ ویو

(b) Print Preview

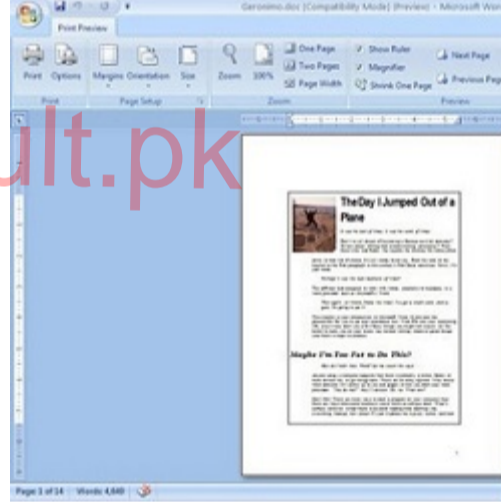
پرنٹ پری ویو

(c) Draft View

ڈرافٹ ویو

(d) Outline View

آؤٹ لائن ویو



Question No.9 : Deleting, inserting and re-writing text in a document is known as:

سوال نمبر 9: کسی ڈاکومنٹ میں سے ٹیکسٹ کو ختم کرنا، داخل کرنا اور اس میں تبدیلی کرنا کہلاتا ہے:

(a) Alignment

الائنمنٹ

(b) Formatting

فارمیٹنگ

(c) Editing

ایڈیٹنگ

(d) Designing

ڈیزائننگ

Question No.10 : The shortcut key used to make a text *ITALIC* is:

سوال نمبر 10: ٹیکسٹ کو *ITALIC* کرنے کے لیے شارٹ کٹ key ہے:

(a) Shift + I

(b) Ctrl + I

(c) Tab + I

(d) Alt + I

Question No.11 : In an MS Word document, how many times Enter key is pressed to discontinue a list?

سوال نمبر 11: MS Word ڈاکومنٹ میں، ایک لسٹ کو ختم کرنے کے لیے Enter key کتنی مرتبہ دبائی جاتی ہے؟

(a) One

ایک

(b) Two

دو

(c) Three

تین

(d) Four

چار

Question No.12 : The alignment used mostly to make the cover page of document, is:

سوال نمبر 12: ڈاکومنٹ کا cover page بنانے کیلئے زیادہ تر استعمال ہونے والی الائنمنٹ ہے:

(a) Center

(b) Left

(c) Right

(d) Justified

Question No.13 : Choose the shortcut key used to print the document in MS Word.

سوال نمبر 13: MS Word میں ڈاکومنٹ کو پرنٹ کرنے کے لیے شارٹ کٹ key کا انتخاب کریں۔

(a) Ctrl + C

(b) Ctrl + F

(c) Ctrl + P

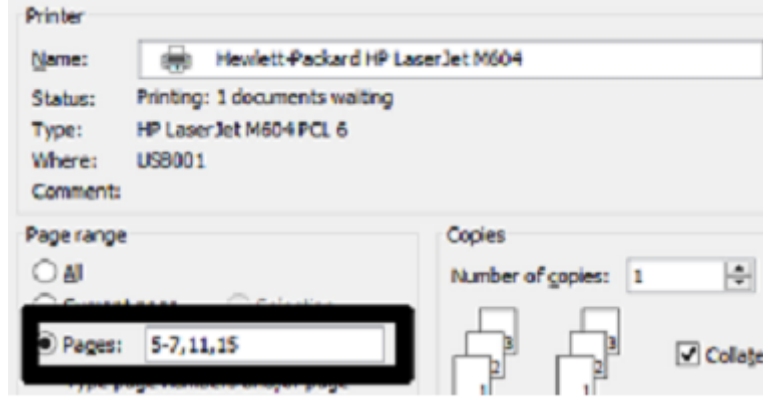
(d) Ctrl + V

Question No.14 :

Choose the total number of pages that will be printed as shown in the print dialog box.

سوال نمبر 14: پرنٹ ڈائیلاگ باکس میں دکھائے گئے صفحات کی کل تعداد منتخب کریں جو پرنٹ ہوں گے۔

- (a) 4
(b) 5
(c) 6
(d) 7



Question No.15 :

Identify the Tab that helps a user to Zoom in/Zoom out the document.

سوال نمبر 15: اس ٹیب کی شناخت کریں جس کی مدد سے یوزر ایک ڈاکومنٹ کو زوم ان یا زوم آؤٹ کر سکتا ہے۔

- (a) Home (b) Review (c) View (d) Page Layout

Question No.16 :

In MS Word 2007, the shortcut key of "Find" command is:

سوال نمبر 16: MS Word 2007 میں "Find" کمانڈ کی شارٹ کٹ key ہے:

- (a) CTRL+B (b) CTRL+C (c) CTRL+F (d) CTRL+Z

Question No.17 :

The key used to delete the character from the left of the cursor is:

سوال نمبر 17: کرسر کے بائیں طرف سے کریکٹر کو ختم کرنے کے لیے استعمال ہونے والی key ہے:

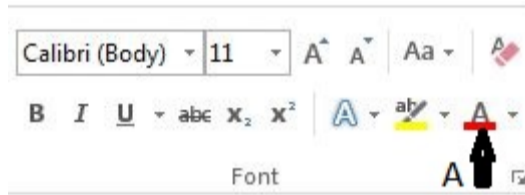
- (a) End (b) Backspace (c) Esc (d) Delete

Question No.18 :

Identify the labelled area "A" from the following image.

سوال نمبر 18: درج ذیل تصویر کے لیبل کئے گئے ایریا "A" کی شناخت کریں۔

- (a) Text highlight color ٹیکسٹ ہائی لائٹ کالر
(b) Font shading color فونٹ شیڈنگ کالر
(c) Font Color فونٹ کالر
(d) Font background color فونٹ بیک گراؤنڈ کالر



Question No.19 :

By default, the gap of Tab Stop from left margin is:

سوال نمبر 19: بائیں مارجن سے ٹیب سٹاپ کا پہلے سے طے شدہ فرق ہوتا ہے:

- (a) 1/4 inch (b) 1/3 inch (c) 1/2 inch (d) 1 inch

Question No.20 :

A user can easily divide a document into more than one part by using:

سوال نمبر 20: ایک یوزر آسانی سے ڈاکومنٹ کو ایک سے زیادہ حصوں میں _____ کو استعمال کرتے ہوئے تقسیم کر سکتا ہے۔

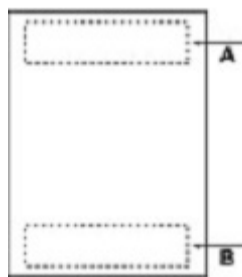
- (a) soft page break سافٹ پیج بریک (b) hard page break ہارڈ پیج بریک
(c) section break سیکشن بریک (d) manual page break میمنول پیج بریک

Question No.21 :

Select the correct name of label B in the image shown below.

سوال نمبر 21: نیچے دکھائی گئی تصویر میں لیبل B کا درست نام منتخب کریں۔

- (a) Header ہیڈر
(b) Section break سیکشن بریک
(c) Page break پیج بریک
(d) Footer فوٹر



Question No.22 :

In MS Word 2007, center alignment of text vertically is mostly used to create:

سوال نمبر 22: MS Word 2007 میں، عمودی طور پر سینٹر ٹیکسٹ الائنمنٹ _____ بنانے کے لیے استعمال کیا جاتا ہے۔

- (a) Table of Content Page ٹیبل آف کونٹینٹ پیج (b) Cover Page کور پیج
(c) Reference Page ریفرنس پیج (d) Introduction Page انٹروڈکشن پیج

Question No.23 :

The number of media elements used to create attractive multimedia presentations are:

سوال نمبر 23: پرکشش ملٹی میڈیا پریزنٹیشن بنانے کے لیے استعمال ہونے والے میڈیا عناصر کی تعداد ہے:

- (a) 2 (b) 4 (c) 5 (d) 7

Question No.24 : "Quaid-e-Azam was born in 25-Dec-1876" is kind of data:

سوال نمبر 24: "Quaid-e-Azam was born in 25-Dec-1876" یہ کس قسم کا ڈیٹا ہے؟

- (a) Text ٹیکسٹ (b) Image امیج (c) Graphic گرافک (d) Numeric نویمیرک

Question No.25 : Identify the tab in which a user can find slide transition.

سوال نمبر 25: اس ٹیب کی شناخت کریں جس میں صارف سلائیڈ ٹرانزیشن تلاش کر سکتا ہے۔

- (a) Home (b) Review (c) Animations (d) Design

Question No.26 : In MS Powerpoint, users can search for beautiful templates of their own choice by using.

سوال نمبر 26: MS Powerpoint میں، یوزرز _____ استعمال کر کے اپنی پسند کے خوبصورت ٹیمپلیٹس تلاش کر سکتے ہیں۔

- (a) Variants ویریئنٹس (b) Theme تھیم (c) Office Website آفس ویب سائٹ (d) Slide layout سلائیڈ لے آؤٹ

Question No.27 : How many parts are there in an e-mail address?

سوال نمبر 27: ایک ای-میل ایڈریس کے کتنے حصے ہوتے ہیں؟

- (a) 1 (b) 2 (c) 3 (d) 4

Question No.28 : The first web page of Hotmail is called:

سوال نمبر 28: Hotmail کا پہلا ویب پیج کہلاتا ہے:

- (a) Home page ہوم پیج (b) Account page اکاؤنٹ پیج (c) Admin page ایڈمن پیج (d) User page یوزر پیج

Question No.29 : Email is delivered by:

سوال نمبر 29: ای-میل کس کے ذریعہ بھیجی جاتی ہے؟

- (a) MMS (b) SMS (c) Fax (d) Computer

Question No.30 : In Hotmail, name the folder from where we can restore the removed e-mails.

سوال نمبر 30: Hotmail میں اس فولڈر کا نام بتائیں جہاں سے ہم ختم کی گئی ای میلز کو ری سٹور کر سکتے ہیں۔

- (a) Inbox (b) Deleted (c) Drafts (d) Sent

Question No.31 : Identify the "A part" of e-mail address as shown below.

سوال نمبر 31: ای-میل ایڈریس کے "A" حصے کی شناخت کریں جیسا کہ ذیل میں دکھایا گیا ہے۔

- (a) service provider سروس پرووائڈر
(b) address ایڈریس
(c) domain ڈومین
(d) username یوزر نیم

Naseer786@gmail.com
A

Question No.32 : User can include files and photos in an e-mail by clicking on:

سوال نمبر 32: یوزر فائلوں اور تصاویر کو ای-میل میں _____ پر کلک کر کے شامل کر سکتا ہے:

- (a) Sent (b) Inbox (c) Attach (d) Draft

Result.pk