



SEF Assisted Schools (SAS)

**Existing School
Support Program (ESSP)**

**SEF Middle and High School
Program (SMHSP)**
Assessment Feb - Mar 2019



**Sindh Education Foundation
Government of Sindh**

Assessment Unit

Subject	Marks	Time
Social Studies	25	45 Minutes
Mathematics	25	45 Minutes
Science	25	45 Minutes
English	25	45 Minutes
Total	100	180 Minutes

INSTRUCTIONS FOR THE STUDENT

شاگرد جي لاءِ هدايتون

Objective Part

معروضي حصو

<ul style="list-style-type: none"> The assessment paper is divided into four parts/subjects. Each part/subject contains objective part and subjective part. 	<ul style="list-style-type: none"> پيپر کي چئن حصن/مضمونن ۾ ورهايو ويو آهي. هر هڪ حصو/مضمون معروضي ۽ موضوعي حصي تي مشتمل آهي.
<ul style="list-style-type: none"> All questions are compulsory. 	<ul style="list-style-type: none"> سڀ سوال لازمي آهن.
<ul style="list-style-type: none"> Each MCQ carry 1 mark. 	<ul style="list-style-type: none"> سڀئي سوالن تي هڪ جيتريون مارڪون رکيل آهن.
<ul style="list-style-type: none"> Fill only one circle for each question. If more than one circle is filled in for a single question, the answer for that question will be declared invalid. 	<ul style="list-style-type: none"> هر هڪ سوال جي جواب لاءِ فقط هڪ گولڙي کي ڀريو. جيڪڏهن هڪ سوال جي جواب لاءِ هڪ کان وڌيڪ گولڙن کي ڀريو ويو ته ان جواب کي غلط تصور ڪيو ويندو.
<ul style="list-style-type: none"> If you need to change an answer, first erase the originally filled circle thoroughly, and then fill the circle against alternative option. 	<ul style="list-style-type: none"> جيڪڏهن توهان ڪنهن به سوال جي ڏنل جواب کي تبديل ڪرڻ چاهيو ته پهريان کان ڀريل گولڙي کي چڱيءَ طرح ڊاهيو ۽ پوءِ ٻئي گولڙي کي ڀريو.
<ul style="list-style-type: none"> Fill correct option according to the following example. 	<ul style="list-style-type: none"> جواب کي هيٺ ڏنل مثال مطابق چڱيءَ ريت ڀريو.
<p style="text-align: center;"> <input type="radio"/> A <input checked="" type="radio"/> B <input type="radio"/> C <input type="radio"/> D </p>	
<ul style="list-style-type: none"> Pencil should be used to fill the answers. 	<ul style="list-style-type: none"> جوابن واري گولڙي کي پيرڻ لاءِ پينسل جو استعمال ڪريو.
<ul style="list-style-type: none"> Finish each part in the given time as mentioned in the paper. 	<ul style="list-style-type: none"> پيپر ۾ ڏنل هر هڪ حصي کي ڏنل وقت مطابق حل ڪريو.
<ul style="list-style-type: none"> Use the given blank page for mathematics rough work. 	<ul style="list-style-type: none"> رياضيءَ جو رڻ ڪم ڪرڻ لاءِ ڏنل خالي صفحو استعمال ڪريو.

INSTRUCTIONS FOR THE STUDENT

شاگرد جي لاءِ هدايتون

Subjective Part

موضوعي حصو

▪ All questions are compulsory.	▪ سڀ سوال لازمي آهن.
▪ Marks of each question in subjective paper are given at the end of the question.	▪ موضوعي حصي ۾ هر هڪ سوال جي آخر ۾ ان جون مارڪون ڏنل آهن.
▪ Pencil should be used to write the answers.	▪ جواب لکڻ لاءِ پينسل جو استعمال ڪريو.
▪ Avoid over writing or untidy work.	▪ بتي لکڻي ۽ ڊاهه ڊوهه واري ڪم کان پاسو ڪريو.
▪ Use the given blank page for mathematics rough work.	▪ رياضيءَ جو رڳو ڪم ڪرڻ لاءِ ڏنل خالي صفحو استعمال ڪريو.

MCQ Practice

1. Name of our country is

1. اسانجي ملڪ جونالو آهي

Kenya.

Ⓐ

ڪينيا.

Pakistan.

Ⓑ

پاڪستان.

Indonesia.

Ⓒ

انڊونيشيا.

Malaysia.

Ⓓ

ملائيشيا.

2. Add.

2. جوڙ ڪريو.

$$2 + 2 = \underline{\hspace{2cm}}.$$

2

Ⓐ

4

Ⓑ

6

Ⓒ

8

Ⓓ

Social Studies

1. 1. گوبي، عربي ۽ ٿرايشيا جا وڏي ۾ وڏا بيابان آهن، جن ۾ هڪجهڙائي آهي
1. Gobi, Arabian and Thar are three major deserts of Asia which have similar
- animals. (A) جانور.
- vegetation. (B) نباتات.
- wind direction. (C) هوا جو رخ.
- distance from equator. (D) خط استوا کان فاصلو.
2. 2. ”بين الثقافتي سمجهه“ مان مراد آهي
2. The term ‘intercultural understanding’ refers to
- differences between cultures. (A) ثقافتن وچ ۾ فرق.
- clashes of cultures. (B) ثقافتن ۾ تڪرار.
- one global culture. (C) هڪ عالمي ثقافت.
- cultural harmony. (D) ثقافتي هم آهنگي.

3. The Arabian countries have started obtaining fresh water from sea by using the technique of
3. عرب ملڪَ سمنڊ مان پيئڻ جو پاڻي حاصل ڪرڻ لاءِ جنهن ٽيڪنيڪ جو استعمال ڪرڻ جي شروعات ڪئي اها آهي

distillation.	Ⓐ	چڪائڻ جو عمل.
evaporation.	Ⓑ	بخارجڻ جو عمل.
condensation.	Ⓒ	تڪثيف جو عمل.
desalinization.	Ⓓ	لوڻيان گهٽائيندڙ ٻوٽن جو استعمال.

4. When rock particles carried by water, ice or wind are dropped in another location is called
4. جڏهن جبل جا ذرا پاڻي، برف يا هوا کڻي ڪنهن ٻيءَ جاءِ تي گڏ ڪن، ان کي چئبو آهي

erosion.	Ⓐ	کاڌ.
deposition.	Ⓑ	لٽ.
weathering.	Ⓒ	موسمي اثر.
transportation.	Ⓓ	باربرداري.

5. A volunteer is a person who works for the betterment of his/her society on the will of his/her
5. هڪ رضاڪار اهو فرد آهي جيڪو پنهنجي معاشري جي بهتري لاءِ ڪم ڪري ٿو

- government. (A) گورنمينٽ جي مرضيءَ سان.
- community. (B) علائقي واسين جي مرضيءَ سان.
- home. (C) گهروارن جي مرضيءَ سان.
- self. (D) ذاتي مرضيءَ سان.

6. The rainforests in Asia are found in the South and South-East Asia near the
6. ايشيا ۾ بارشي ٻيلا ڏکڻ ۽ ڏکڻ اوڀر ايشيا ۾ جنهن جي ويجهو ملن ٿا اهو آهي

- equator. (A) خط استوا.
- polar region. (B) قطبي خطو.
- sub-tropical region. (C) استوائِي پٽيءَ جي ويجهو خطا.
- tropic of Capricorn. (D) جديءَ وارو گهيرو.

7. The rights of minorities in Pakistan are guaranteed by the

7. پاڪستان ۾ اقليتن جي حقن جي ضمانت ڏنل آهي

moral values.

Ⓐ

اخلاقي قدرن ۾.

constitution.

Ⓑ

آئين ۾.

customs.

Ⓒ

روايتن ۾.

culture.

Ⓓ

ثقافت ۾.

8. The political rights are mainly associated with the

8. سياسي حق خاص طور تي جنهن سان لاڳاپيل هوندا آهن، اهو آهي

liberty and life of people.

Ⓐ

ماڻهن جي آزادي ۽ زندگيءَ جو حق.

acquisition of property.

Ⓑ

جائداد خريدڻ جو حق.

freedom of association.

Ⓒ

تنظيم سازيءَ جو حق.

trade union rights.

Ⓓ

ڪاروباري يونين ٺاهڻ جو حق.

9. The article 25-A of the constitution of Pakistan guarantees that all children aged between 5 to 16 have right to the
9. پاڪستان جي آئين جو آرٽيڪل 25 A اها ضمانت ڏئي ٿو ته 5 کان 16 سالن جي عمر جي ٻارن کي حق آهي

speech.	Ⓐ	ڳالهائڻ جو.
education.	Ⓑ	تعليم جو.
movement.	Ⓒ	تحرك جو.
association.	Ⓓ	تنظيم سازي جو.

10. Organizations or group of people that work for the betterment of local communities outside the government control, is called
10. اهي تنظيمون يا ماڻهن جا ٽولا جيڪي گورنمينٽ جي ڪنٽرول کان ٻاهر رهي مقامي آبادين جي پلائيءَ جي لاءِ ڪم ڪن، انهن کي چئبو آهي

civil society.	Ⓐ	سول سوسائٽي.
corporate sector.	Ⓑ	ڪارپوريٽ سيڪٽر.
profit organization.	Ⓒ	منافع بخش تنظيم.
education department.	Ⓓ	تعليم کاتو.

- 11. انساني حقن وارين تنظيمن کي انساني حقن جي لتاڙ بابت ٻڌائڻ/ريپورٽ ڪرڻ جي اهميت جا ڪي به ٽي سبب لکو.**

(Marks 03)

12. Read about the life-style of two coastal regions of Asia below, and write **any three** differences between these areas.

12. ايشيا جي ٻن سامونڊي پٽيءَ وارن علائقن جي رهڻي
ڪهڻيءَ بابت ڏنل معلومات کي پڙهو. ٻنهي علائقن
وچ ۾ ڪي به ٽي فرق لکو.

(Marks 03)

THE COAST OF BANGLADESH

Due to Geography it faces cyclones affected by the climate change. The climate change has led to ultimately rainfall, hotter summers and irregular monsoons. The flash floods cause damage to crops resulting in financial crisis for farmers and people living in coastal areas.

بنگلاديش جي ساحلي پٽي

پنهنجي جاگرافيءَ جي ڪري ۽ موسمي تبديليءَ جي ڪري
پيدا ٿيندڙ سامونڊي طوفانن کي منهن ڏيندو رهي ٿو.
موسمي تبديلي، اڻ منڊائتي مينهن، گرم اونهارن ۽ بي
قاعدي چوماسن جو نتيجو آهي. اوچتو ڏوڪي ايندڙ ٻوڏون
ڀوڪ کي تباهه ڪندي آبادگارن ۽ ساحلي پٽين تي رهندڙ
ماڻهن کي مالي نقصان رسائين ٿيون.

THE COAST OF JAPAN

It has cities with skyscrapers, subways, underground plazas etc. However, there is another side of Japan having in villages which are not completely rural. The villages near urban settlements provide opportunities to industrial workers. Problems like environmental pollution, constant menace, earthquakes and floods are also faced by Japan.

جاپان جي ساحلي پٽي

ان ۾ اپ ڪيچندڙ عمارتن، آبي رستن ۽ زمين هيٺ پلازائن
وغيره سان سينگاريل شهر آهن. تنهن هوندي به، جاپان جو
هڪ ٻيو پاسو آهي ڳوٺ آهن، جيڪي پوريءَ طرح بهراڙي
ناهن، هڪڙا شهري آبادين جي ويجهو موجود آهن، جيڪي
گراهڪن ۽ صنعتي پورهيتن کي خدمتون آڇيندا آهن.
جاپان ماحولي گدلاڻ، لڳاتار آفتن جي خطري، زلزلن ۽ ٻوڏن
جهڙن مسئلن ۾ گهيريل آهي.

1. _____

2. _____

3. _____

13. The government and rule of Chandargupta is said to be the pioneer of administration in India. Describe the methods he used to control administration in his empire.

13. هندوستان ۾ چندرگپتا جي حڪومت ۽ حڪمراني
 کي حڪومت سازي جي ابتدا چيو وڃي ٿو. ان جي
 شهنشاهيت ۾ حڪومت هلائڻ واري طبقن کي بيان
 ڪريو.

(Marks 03)

[illegible]

14. The Islamic world was much advanced than the Western world in the Medieval Ages. Discuss the influence of Islamic civilization on the West in the following areas.

14. وچئين دور ۾ اسلامي دنيا الهندي يورپ کان تمام گهڻي ترقي يافته هئي. الهندي دنيا جي تهذيب تي اسلامي تهذيب جي اثرن کي بيان ڪريو.

(Marks 03)

- Trade

واپار

- Medicine

طب

- Architecture

فن تعمير

15. Every country of the world has a unique constitution. Some are written and some un-written. In your opinion what are the strengths of an unwritten constitution.

15. هن دنيا جي هر ملڪ وٽ هڪ منفرد آئين موجود آهي. ڪجهه آئين لکت ۾ آهن ته ڪجهه اڻ لکيل. توهان جي نظر ۾ اڻ لکيل آئين جون ڪهڙيون خاصيتون آهن.

(Marks 03)

[illegible]

“Rough Work”

“Rough Work”

Mathematics

16. If $P = \{a, b, c\}$ and $Q = \{c\}$ then جيڪڏهن $P = \{a, b, c\}$ ۽ $Q = \{c\}$ ته پوءِ

$$P - Q = \underline{\hspace{2cm}}.$$

$\{a\}$ (A)

$\{b\}$ (B)

$\{a, b\}$ (C)

$\{b, c\}$ (D)

17. Identify the tabular form of the following set which is given in set-builder form. هيٺ ڏنل علامتي سيٽ جي جدولِي طريقي ۾ سڃاڻپ ڪريو.

$$A = \{y/y \in O \wedge 3 \leq y \leq 7\}$$

$\{3\}$ (A)

$\{3, 5, 7\}$ (B)

$\{3, 5, 6, 7\}$ (C)

$\{3, 4, 5, 6, 7\}$ (D)

18. Identify the following rational number as decimal.

18. هيٺ ڏنل ناطق عدد جي ڏهاڙي اٽپور ۾ سڃاڻپ ڪريو.

$$\frac{2}{5}$$

0.3

Ⓐ

0.4

Ⓑ

0.7

Ⓒ

0.8

Ⓓ

19. Identify the answer of the following exponent.

19. هيٺ ڏنل سگهه نما/قوت نما جي جواب جي سڃاڻپ ڪريو.

$$2^3 = \underline{\hspace{2cm}}.$$

2

Ⓐ

5

Ⓑ

7

Ⓒ

8

Ⓓ

20. A uniform store uses 30% profit rate on the cost price. The cost of a school uniform that is sold for Rs 520 would be

20. هڪ يونيفارم واري دڪان تي خريدي قيمت تي 30% منافعو ورتو وڃي ٿو. 520 روپين ۾ وڪرو ٿيل يونيفارم جي خريدي قيمت ٿيندي



Rs 330

(A)

Rs 380

(B)

Rs 400

(C)

Rs 440

(D)

21. $\frac{3}{5}$ is a

21. $\frac{3}{5}$ آهي هڪ

natural number.

Ⓐ

قدرتي عدد.

rational number.

Ⓑ

ناطق عدد.

prime number.

Ⓒ

مفرد عدد.

whole number.

Ⓓ

پورو عدد.

22. The multiplicative inverse of $\frac{2}{3}$ is

22. $\frac{2}{3}$ جو ضربی ابتر آهي

$\frac{1}{3}$

Ⓐ

$\frac{3}{2}$

Ⓑ

$\frac{3}{4}$

Ⓒ

$\frac{5}{4}$

Ⓓ

23. The square root of the following decimal number would be

23. هيٺ ڏنل ڏهاڙي عدد جو ٻيو مول ٿيندو

$$\sqrt{1.21} = \underline{\hspace{2cm}}.$$

1.1 (A)

1.3 (B)

1.5 (C)

1.8 (D)

24. Identify the product of the following factors.

24. هيٺ ڏنل جزن جي ضرب جي سڃاڻپ ڪريو.

$$(x + a)(x + a) = \underline{\hspace{2cm}}.$$

$x^2 - a^2$ (A)

$x^2 + a^2$ (B)

$x^2 + 2ax + a^2$ (C)

$x^2 - 2ax - a^2$ (D)

25. The sum of two consecutive numbers is 9. The numbers would be

25. ٻن لاڳيتن عددين جو جوڙو آهي 9. اهي عدد آهن

2 and 3

Ⓐ

3 ۽ 2

3 and 4

Ⓑ

4 ۽ 3

4 and 5

Ⓒ

5 ۽ 4

5 and 6

Ⓓ

6 ۽ 5

“Rough Work”

26. If $U = \{1, 2, 3, 4, 5\}$ and
 $P = \{2, 3\}$. Verify the following.
Show steps.

26. جيڪڏهن $U = \{1, 2, 3, 4, 5\}$ ۽

$P = \{2, 3\}$ ته هيٺ ڏنل جي تصديق ڪريو. مرحلا

ڏيکاريو

(Marks 04)

$$P \cup P' = U$$

27. If Rs 42,000 is paid as a tax on a property at the rate of 6%, then find the worth of the property. Show steps.

27. جيڪڏهن هڪ جائداد جي قيمت جو 6% جي حساب سان 42000 روپيا ٽيڪس ادا ڪئي وئي آهي، ته ان جائداد جي ڪل قيمت معلوم ڪريو. مرحلا ڏيکارو.

(Marks 04)

28. The price of 2 kilogram watermelons is Rs 180. Find the price of 4 kilogram watermelons. Show steps.

28. 2 ڪلوگرام هندائڻ/چانهين جي قيمت 180 روپيا آهي. 4 ڪلوگرام هندائڻ/چانهين جي قيمت معلوم ڪريو. مرحلا ڏيکاريو.

(Marks 04)



29. Factorize the following expression
and show steps.

29. هيٺ ڏنل اظهارن جا جزا لهو ۽ مرحلا ڏيکاريو.

(Marks 03)


$$2x^2 + 12xy + 18y^2$$

Science

30. The primary consumer in the following food chain is

30. هيٺ ڏنل کاڌي جي زنجير ۾ شروعاتي واپرائيندڙ آهي

Food chain



maize

locust

lizard

snake

maize.

Ⓐ

مڪئي/سنگ.

locust.

Ⓑ

ٽڏ.

lizard.

Ⓒ

چچي/ڪرڙي.

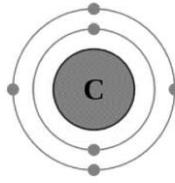
snake.

Ⓓ

نانگ.

31. Find the total number of electrons in carbon atom as shown below.

31. هيٺ ڏنل ڪاربان جي ائٽم ۾ موجود اليڪٽرانن جو
ڪل تعداد معلوم ڪريو.



2

(A)

3

(B)

4

(C)

6

(D)

32. One of the following is **not** the mode of heat transfer.

32. هيٺين مان هڪ گرمي جي منتقل ڪرڻ جو طريقو نه آهي.

Radiation

Ⓐ

تابڪاري

Conduction

Ⓑ

پسراڻ

Convection

Ⓒ

گرميءَ جي وهڪ

Temperature

Ⓓ

گرمي پد

33. The number of Hydrogen atoms present in methane compound is/are

33. ميٿين جي مرڪب ۾ موجود هائيڊروجن جي انگن جو تعداد آهي

1

Ⓐ

2

Ⓑ

3

Ⓒ

4

Ⓓ

34. Polar bears are inhabitants of biome, which is
34. ٻرفاني رڇ جنهن حياتياتي ماحول جي رهائشي آهي،
اهو آهي

forest. (A) ٻيلو.

desert. (B) بيابان.

tundra. (C) تنڊرا.

grassland. (D) چراگاه.

35. The winter sleep by animals to save their energy is called
35. جانورن پاران توانائي بچائڻ لاءِ سياري ۾ ڪيل ننڊ
ڪي چئبو آهي

estivation. (A) ايسٽيويشن.

migration. (B) مائگريشن.

hibernation. (C) هائيبرنيشن.

camouflage. (D) ڪيموفلاج.

36. Saliva is present in

36. ٿڱَ موجود هوندي آهي

mouth.

Ⓐ

وات ۾.

stomach.

Ⓑ

معدِي ۾.

large intestine.

Ⓒ

وڏي آندِي ۾.

small intestine.

Ⓓ

ننڍي آندِي ۾.

37. Complete the order by filling in the missing part

37. هيٺ ڏنل ترتيب مان گهر ٿيل حصي جي سڃاڻپ
ڪندي ترتيب مڪمل ڪريو.

Mouth → _____ → stomach → small intestine
وات ← _____ ← معدو ← ننڍو آندو

large intestine

Ⓐ

وڏو آندو

oesophagus

Ⓑ

کاڌي جي نالي

rectum

Ⓒ

ريڪٽم

anus

Ⓓ

مقعد

38. The right and left side of the human heart is separated from each other by
38. انساني دل جو ساڄو ۽ کاڀو پاسو جنهن ذريعي هڪ ٻئي کان الڳ ٿيل آهي، اهو آهي

atria.	Ⓐ	ايٽريا.
septum.	Ⓑ	سيپٽم.
ventria.	Ⓒ	وينٽريا.
capillary.	Ⓓ	ڪيپيلري.


39. In cross pollination, the pollen grains are transferred from anther of one flower to the other flowers'
39. ڪراس پالينيشن ۾ پولن گرينس/نرداڻا هڪ گل جي اينٿر کان ٻئي گل جي جنهن حصي تائين منتقل ٿيندا آهن، اهو آهي

style.	Ⓐ	اسٽائل.
sepal.	Ⓑ	سيپل.
stigma.	Ⓒ	اسٽگما.
pedicel.	Ⓓ	پيڊيسيل.

40. Explain the process of filtration
with the help of diagram.

40. شڪل جي مدد سان ڇاڻڻ جي عمل جي وضاحت
ڪريو.

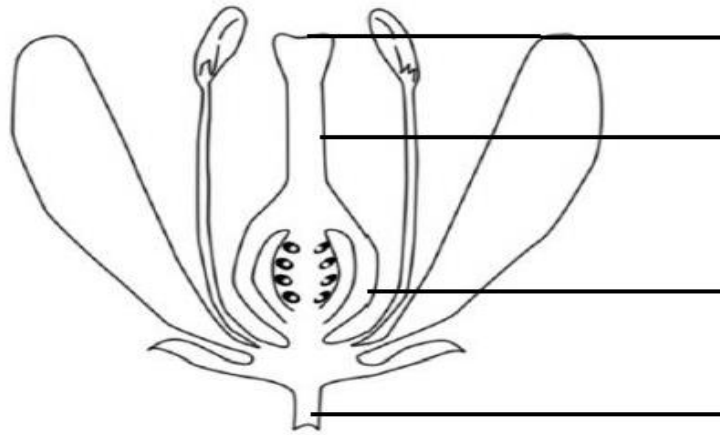
(Marks 04)



41. Label the following diagram.

41. هيٺ ڏنل شڪل تي نالا لکو.

(Marks 04)



42. Name **any three** Biotic Components

42. ڪن به ٽن حياتياتي عنصرن جا نالا لکو.

(Marks 03)

- i) _____
- ii) _____
- iii) _____

43. Explain chemical changes with the help of two examples.

43. ڪيميائي تبديليءَ جي وضاحت ڪريو. ڪي به ٻه مثال ڏيو.

(Marks 04)

This image shows a full page of white paper with horizontal blue ruling lines. The lines are evenly spaced and run across the width of the page, providing a template for writing or drawing. There are no margins, text, or other markings on the page.

English

44. Add the appropriate Possessive Pronoun in the following sentence.

This dress belongs to her. This dress is _____

- | | |
|-------|---|
| my | Ⓐ |
| hers | Ⓑ |
| mine | Ⓒ |
| yours | Ⓓ |

45. Which of the following is the correct spelling?

- | | |
|-----------|---|
| axellent | Ⓐ |
| exellent | Ⓑ |
| excellent | Ⓒ |
| excillant | Ⓓ |

46. Read the following stanza and identify the meaning of the underlined word.

You talk of wondrous things you see
You say the sun shines bright
I feel him warm, but how can he
Or make it day or night?

- | | |
|-------|---|
| hot | Ⓐ |
| cold | Ⓑ |
| nice | Ⓒ |
| worst | Ⓓ |

47. The Present Tense of the given word is

Lost

- | | |
|-------|---|
| lose | Ⓐ |
| loss | Ⓑ |
| lease | Ⓒ |
| loose | Ⓓ |

48. Select the appropriate article for the following sentence.

Have you ever seen _____ elephant up close?

- | | |
|-----|---|
| a | Ⓐ |
| an | Ⓑ |
| up | Ⓒ |
| the | Ⓓ |

49. Add the proper linking word in the following sentence.

I like Science ____ it is interesting.

- | | |
|---------|---|
| if | Ⓐ |
| but | Ⓑ |
| and | Ⓒ |
| because | Ⓓ |

50. Add suitable adjective in the following sentence.

We should be _____ while crossing road.

harmful (A)

hopeful (B)

peaceful (C)

careful (D)

51. The appropriate countable noun for the given sentence is

I need _____ bread.

a slice of (A)

a glass of (B)

a sack of (C)

a pinch of (D)

52. Identify Reflexive Pronoun in the following sentence.

I made this tea myself.

- | | |
|--------|---|
| I | Ⓐ |
| this | Ⓑ |
| made | Ⓒ |
| myself | Ⓓ |

53. Can and can't shows the ability/inability to do something. Choose the appropriate option for the given sentence.

She knows how to drive. She _____ drive.

- | | |
|-------|---|
| can | Ⓐ |
| can't | Ⓑ |
| could | Ⓒ |
| would | Ⓓ |

54. Write down **any three** rhyming words for the underlined word in the following sentence.

(Marks 03)

She has a habit of reading books.

i) _____

ii) _____

iii) _____

55. Use the following words to make sentences in Present Continuous Tense.

(Marks 02)

i) **Peaceful:** _____

ii) **Amazing:** _____

56. Write any three countable nouns.

(Marks 03)

i)

ii)

iii)

57. Complete the following conditional sentences.

(Marks 02)

i) If my sister comes today, _____

ii) If I reach school early, _____

58. Write an application to your Head Teacher to arrange a science exhibition in your school.

(Marks 05)

[illegible]