



**SEF Assisted Schools (SAS)**

**Existing School  
Support Program (ESSP)**

**SEF Middle and High School  
Program (SMHSP)**  
Assessment Feb - Mar 2019



**Sindh Education Foundation  
Government of Sindh**

**Assessment Unit**

Subject	Marks	Time
Social Studies	25	45 Minutes
Mathematics	25	45 Minutes
Science	25	45 Minutes
English	25	45 Minutes
<b>Total</b>	<b>100</b>	<b>180 Minutes</b>

## INSTRUCTIONS FOR THE STUDENT

طلباء کے لئے ہدایات

## Objective Part

معروضی حصہ

<ul style="list-style-type: none"> <li>The assessment paper is divided into four parts/subjects. Each part/subject contains objective part and subjective part.</li> </ul>	<ul style="list-style-type: none"> <li>امتحانی پرچے کو چار حصوں میں تقسیم کیا گیا ہے۔ ہر حصہ / مضمون معروضی اور موضوعی حصے پر مشتمل ہے۔</li> </ul>
<ul style="list-style-type: none"> <li>All questions are compulsory.</li> </ul>	<ul style="list-style-type: none"> <li>تمام سوالات لازمی ہیں۔</li> </ul>
<ul style="list-style-type: none"> <li>Each MCQ carry 1 mark.</li> </ul>	<ul style="list-style-type: none"> <li>ہر معروضی سوال کا ایک نمبر ہے۔</li> </ul>
<ul style="list-style-type: none"> <li>Fill only one circle for each question. If more than one circle is filled in for a single question, the answer for that question will be declared invalid.</li> </ul>	<ul style="list-style-type: none"> <li>ایک سوال کے لیے صرف ایک ہی دائرے کو بھریں۔ اگر ایک سے زیادہ دائرے بھرے جائیں گے تو جواب غلط تصور کیا جائے گا۔</li> </ul>
<ul style="list-style-type: none"> <li>If you need to change an answer, first erase the originally filled circle thoroughly, and then fill the circle against alternative option.</li> </ul>	<ul style="list-style-type: none"> <li>اگر آپ جواب بدلنا چاہتے ہیں تو پہلے اچھی طرح سے دائرے کو مٹائیں اور دوسرے استعارے کو بھریں۔</li> </ul>
<ul style="list-style-type: none"> <li>Fill correct option according to the following example.</li> </ul>	<ul style="list-style-type: none"> <li>صحیح جواب کی دی گئی مثال کے مطابق اچھی طرح سے بھریں۔</li> </ul>
<p style="text-align: center;"> <input type="radio"/> A  <input checked="" type="radio"/> B  <input type="radio"/> C  <input type="radio"/> D </p>	
<ul style="list-style-type: none"> <li>Pencil should be used to fill the answers.</li> </ul>	<ul style="list-style-type: none"> <li>دائرے کو بھرنے کے لئے پنسل کا استعمال کریں۔</li> </ul>
<ul style="list-style-type: none"> <li>Finish each part in the given time as mentioned in the paper.</li> </ul>	<ul style="list-style-type: none"> <li>ہر حصے کو دیئے گئے وقت کے مطابق حل کریں۔</li> </ul>
<ul style="list-style-type: none"> <li>Use the given blank page for mathematics rough work.</li> </ul>	<ul style="list-style-type: none"> <li>دیئے گئے خالی صفحے کو حساب کے رف کام کے لئے استعمال کریں۔</li> </ul>

## INSTRUCTIONS FOR THE STUDENT

طلباء کے لئے ہدایات

### Subjective Part

موضوعی حصہ

▪ All questions are compulsory.	▪ تمام سوالات لازمی ہیں۔
▪ Marks of each question in subjective paper are given at the end of the question.	▪ موضوعی حصے میں ہر سوال کے آخر میں اس کے مارکس درج ہیں۔
▪ Pencil should be used to write the answers.	▪ جواب لکھنے کے لئے پنسل کا استعمال کریں۔
▪ Avoid over writing or untidy work.	▪ خراب اور گندی لکھائی سے پرہیز کریں۔
▪ Use the given blank page for mathematics rough work.	▪ دیئے گئے خالی صفحے کو حساب کے رف کام کے لئے استعمال کریں۔

### MCQ Practice

1. Name of our country is

1. ہمارے ملک کا نام ہے

Kenya.

(A)

کینیا۔

Pakistan.

(B)

پاکستان۔

Indonesia.

(C)

انڈونیشیا۔

Malaysia.

(D)

ملائیشیا۔

2. Add.

2. جمع کریں۔

$$2 + 2 = \underline{\hspace{2cm}}.$$

2

(A)

4

(B)

6

(C)

8

(D)

## Social Studies

1. The rights of minorities in Pakistan are guaranteed by the

1. پاکستان میں اقلیتوں کے حقوق کی ضمانت دی گئی ہے

moral values.

Ⓐ

اخلاقی اقدار میں۔

constitution.

Ⓑ

آئین میں۔

customs.

Ⓒ

رواجوں میں۔

culture.

Ⓓ

ثقافت میں۔

2. The political rights are mainly associated with the

2. سیاسی حقوق عام طور پر جڑے ہوتے ہیں

liberty and life of people.

Ⓐ

لوگوں کی آزادی اور زندگی سے۔

acquisition of property.

Ⓑ

جائیداد کے حصول سے۔

freedom of association.

Ⓒ

تنظیم سازی کے حق سے۔

trade union rights.

Ⓓ

کاروباری تنظیم کے حقوق سے۔

3. The article 25-A of the constitution of Pakistan guarantees that all the children aged between 5 to 16 have right to
3. پاکستان کے آئین کا آرٹیکل 25-A ضمانت دیتا ہے کہ 5 سے 16 سال کی عمر کے تمام بچوں کو حق حاصل ہوگا

speech.	(A)	بولنے کا۔
education.	(B)	تعلیم کا۔
movement.	(C)	تحریک کا۔
association.	(D)	تنظیم سازی کا۔

4. Organizations or group of people that work for the betterment of local communities outside the government control, is called
4. وہ ادارے، تنظیمیں یا افراد جو حکومتی کنٹرول کے بغیر کمیونٹی کی فلاح و بہبود کے لئے کام کرتے ہیں، کہلاتے ہیں

civil society.	(A)	سول سوسائٹی۔
corporate sector.	(B)	کارپوریٹ سیکٹر۔
profit organization.	(C)	منافع بخش تنظیم۔
education department.	(D)	محکمہ تعلیم۔

5. A volunteer is a person who works for the betterment of his/her society on the will of his/her

5. رضا کار وہ افراد ہوتے ہیں جو معاشرے کی بہتری کے لئے کام کرتے ہیں

government.

Ⓐ

گورنمنٹ کی مرضی سے۔

community.

Ⓑ

کمیونٹی کی مرضی سے۔

home.

Ⓒ

گھر والوں کی مرضی سے۔

self.

Ⓓ

اپنی مرضی سے۔

6. The rainforests in Asia are found in the South and South-East Asia.

6. ایشیا میں برساتی جنگلات اس کے جنوب اور جنوب مشرق میں پائے جاتے ہیں۔

The reason, they are grown near to equator is that, this area receives more rain and

جس وجہ سے یہ خط استوا کے پاس اگتے ہیں وہ یہ ہے کہ یہ علاقہ وصول کرتا ہے زیادہ بارش اور

heat.

Ⓐ

گرمی۔

dry air.

Ⓑ

خشک ہوا۔

sea water.

Ⓒ

سمندر کا پانی۔

sunshine.

Ⓓ

سورج کی روشنی۔



7. Gobi, Arabian and Thar are three major deserts of Asia which have similar
7. گوبی، عربین اور تھراشیا کے تین اہم صحرا ہیں ان میں جو یکسانیت ہے وہ ہے

- distance from equator. (A) خط استوا سے فاصلہ۔
- wind direction. (B) ہوا کا رخ۔
- temperatures. (C) درجہ حرارت۔
- animals. (D) جانور۔

8. The terms 'Intercultural understanding' refer to
8. "بین الثقافتی تفہیم" سے مراد ہے

- differences between cultures. (A) ثقافتوں کے مابین فرق۔
- clashes of cultures. (B) ثقافتی تصادم۔
- one global culture. (C) ایک عالمی ثقافت۔
- cultural harmony. (D) ثقافتی ہم آہنگی۔

9. The Arabian countries have started obtaining fresh water from sea by using the technique of

9. عرب ممالک نے تازہ پانی حاصل کرنے کے لئے جس تکنیک کا استعمال شروع کیا، وہ ہے

distillation.

Ⓐ

ڈسٹیلیشن۔

evaporation.

Ⓑ

ایواپوریشن۔

condensation.

Ⓒ

کنڈینسیشن۔

desalinization.

Ⓓ

ڈی سلینیشن۔

10. The process of breaking down the silt and rock particles from the hills and mountains is called

10. وہ عمل جس میں مٹی کے ذرے پہاڑوں سے ٹوٹ کے گرتے ہیں، کہلاتا ہے

erosion.

Ⓐ

کٹاؤ۔

deposition.

Ⓑ

ذخیرہ۔

weathering.

Ⓒ

موسمی اثرات۔

transportation.

Ⓓ

نقل و حمل۔

- 11.** The government and rule of Chandargupta is said to be the pioneer of administration in India. Describe the methods he used to control administration in his empire.

**11.** چندر گپتا کا دور حکومت ہندوستان میں انتظامی دور کی ابتداء مانا جاتا ہے۔ اپنے دور میں انتظامی امور کو چلانے کے لئے جو طریقہ اس نے اپنایا ان کو بیان کریں۔

**(Marks 03)**

[illegible]

12. The Islamic world was much advanced than the Western world in the Medieval Ages. Discuss the influence of Islamic civilization on the West in following areas.

12. قرون وسطیٰ میں اسلامی دنیا مغربی دنیا سے کہیں زیادہ ترقی یافتہ تھی۔ دیئے گئے پیرائے میں اسلامی تہذیب کے مغرب پر اثرات بیان کریں۔

(Marks 03)

• Trade

تجارت

---

---

---

• Medicine

طب

---

---

---

• Architecture

فن تعمیر

---

---

13. دنیا کے ہر ملک کا اپنا ایک منفرد آئین ہوتا ہے۔ ان میں سے کچھ تحریر شدہ اور کچھ غیر تحریر شدہ ہوتے ہیں۔ آپ کے خیال میں تحریر شدہ آئین میں کیا خصوصیات ہوتی ہیں۔

[illegible]

**(Marks 03)**

15. Read about the life-style of two coastal regions of Asia below, and write differences between these areas.

15. دیئے گئے پیرا گراف میں ایشیا کے دو ساحلی علاقوں کا رہن سہن بیان ہے۔ ان دونوں کے بیچ کوئی فرق تحریر کریں۔

(Marks 03)

#### THE COAST OF BANGLADESH

Due to Geography it faces cyclones affected by the climate change. The climate change has led to ultimately rainfall, hotter summers and irregular monsoons. The flash floods cause damage to crops resulting in financial crisis for farmers and people living in coastal areas.

#### بنگلادیش کی ساحلی پٹی

اپنے جغرافیہ کی وجہ سے یہ ملک آب و ہوا کی تبدیلی سے نقصانہ خطرات جیسے سائیکلون کا سامنا کرتا ہے۔ آب و ہوا کی تبدیلی کی وجہ سے بلا وقت برسات، موسم گرما زیادہ گرم اور غیر باقاعدہ مون سون آتے ہیں۔ شدید سیلاب زرعی فصلوں کی تباہی کا باعث بنتے ہیں جس کی وجہ سے ساحلی علاقوں کے کسانوں کو مالیاتی بحران کا سامنا کرنا پڑتا ہے۔

#### THE COAST OF JAPAN

It has cities with skyscrapers, subways, underground plazas etc. However, there is another side of Japan having in villages which are not completely rural. The villages near urban settlements provide opportunities to industrial workers. Problems like environmental pollution, constant menace, earthquakes and floods are also faced by Japan.

#### جاپان کی ساحلی پٹی

اس کے شہروں میں آسمان کو چھوتی ہوئی عمارات، زیر زمین آمدورفت کی سہولیات، زیر زمین پلازا وغیرہ ہیں۔ بہر حال، جاپان کا ایک دوسرا رخ بھی ہے، جس میں گاؤں ہیں جو مکمل طور پر دیہاتی نہیں ہیں۔ وہ لوگ جو شہری آبادیوں کے نزدیک رہتے ہیں ان کو آمدورفت اور صنعتی ملازمت کے مواقع فراہم ہیں۔ ماحولیاتی آلودگی، باقاعدہ خوف کا ماحول، زلزلے اور سیلاب ایسے مسائل ہیں جن کا سامنا جاپان بھی کرتا ہے۔

1. \_\_\_\_\_  
\_\_\_\_\_
2. \_\_\_\_\_  
\_\_\_\_\_
3. \_\_\_\_\_  
\_\_\_\_\_

**“Rough Work”**



**“Rough Work”**

### Mathematics

16. If  $P = \{x, y, z\}$  and  $Q = \{y, t\}$  then اگر  $P = \{x, y, z\}$  اور  $Q = \{y, t\}$  تو ہوگا 16.

$$P - Q = \underline{\hspace{2cm}}.$$

$\{x, y\}$

Ⓐ

$\{x, t\}$

Ⓑ

$\{y, t\}$

Ⓒ

$\{x, z\}$

Ⓓ

17. Identify the tabular form of the following set which is given in set-builder form.

17. دیئے گئے علامتی سیٹ کی جدولی شکل میں نشاندہی کریں۔

$$A = \{y/y \in E \wedge 4 \leq y \leq 8\}$$

$\{6\}$

Ⓐ

$\{4, 6, 8\}$

Ⓑ

$\{4, 5, 6, 7\}$

Ⓒ

$\{4, 5, 6, 7, 8\}$

Ⓓ

18.  $\frac{4}{5}$  is a

18.  $\frac{4}{5}$  ہے ایک

prime number.

Ⓐ

مفرد عدد۔

whole number.

Ⓑ

مکمل عدد۔

natural number.

Ⓒ

قدرتی عدد۔

rational number.

Ⓓ

ناطق عدد۔

19. The multiplicative inverse of  $\frac{4}{5}$  is

19.  $\frac{4}{5}$  کا ضربی معکوس ہے

$\frac{1}{4}$   
 $\frac{1}{5}$   
 $\frac{3}{4}$   
 $\frac{5}{4}$

Ⓐ

Ⓑ

Ⓒ

Ⓓ

20. Identify the following rational number as decimal.

20. دیئے گئے ناطق عدد کی اعشاری عدد میں نشاندہی کریں۔

$$\frac{4}{5}$$

0.2

(A)

0.3

(B)

0.7

(C)

0.8

(D)

21. Identify the answer of the following exponent.

21. دیئے گئے قوت نما کے جواب کی نشاندہی کریں۔

$$3^2 = \underline{\hspace{2cm}}.$$

2

(A)

5

(B)

7

(C)

9

(D)

22. A uniform store uses 20% profit rate on the cost price. The cost of a school uniform that is sold for Rs 480 would be

22. ایک یونیفارم کی دکان میں قیمت خرید پر 20% شرح منافع وصول کیا جا رہا ہے۔ اگر ایک یونیفارم 480 روپے میں فروخت کیا گیا تو اس کی قیمت خرید ہوگی



Rs 350

(A)

Rs 380

(B)

Rs 400

(C)

Rs 440

(D)

23. The square root of the following decimal number would be

23. دیئے گئے اعشاری عدد کا جذر المربع ہوگا

$$\sqrt{1.69} = \underline{\hspace{2cm}}.$$

0.7

Ⓐ

1.3

Ⓑ

1.5

Ⓒ

1.8

Ⓓ

24. Identify the product of the following factors.

24. دیئے گئے تجزیوں کے حاصل ضرب کی نشاندہی کریں۔

$$(x + a)(x + a) = \underline{\hspace{2cm}}.$$

$$x^2 - a^2$$

Ⓐ

$$x^2 + a^2$$

Ⓑ

$$x^2 + 2ax + a^2$$

Ⓒ

$$x^2 - 2ax - a^2$$

Ⓓ

25. The sum of two consecutive numbers is 7. The numbers would be

25. دو لگاتار نمبروں کا جمع ہے 7۔ یہ اعداد ہوں گے

2 and 3

Ⓐ

2 اور 3

3 and 4

Ⓑ

3 اور 4

4 and 5

Ⓒ

4 اور 5

5 and 6

Ⓓ

5 اور 6

**“Rough Work”**



26. If  $U = \{a, b, c, d, e\}$  and  
 $A = \{a, c, e\}$ . Verify the following.  
Show steps.

26. اگر  $U = \{a, b, c, d, e\}$  اور  
 $A = \{a, c, e\}$  تو دیئے گئے کو ثابت کریں۔ مراحل  
دکھائیں۔

(Marks 04)

$$A \cup A' = U$$

---

---

---

---

---

---

---

---

---

---

27. The price of 2 kilogram watermelons is Rs 150. Find the price of 6 kilogram watermelons. Show steps.

27. 2 کلو گرام تربوزوں کی قیمت ہے 150 روپے۔ 6 کلو گرام تربوزوں کی قیمت معلوم کریں۔ مراحل دکھائیں۔

(Marks 04)



---

---

---

---

---

---

---

---

---

---

28. If Rs 42,000 is paid as a tax on a property at the rate of 6%, then find the worth of the property. Show steps.

28. اگر 6% کے حساب سے 42000 روپے جائیداد کے ٹیکس کی مد میں ادا کئے جاتے ہیں تو اس جائیداد کی کل قیمت معلوم کریں۔ مراحل دکھائیں۔

(Marks 04)

---

---

---

---

---

---

---

---

---

---

29. Factorize the following expression  
and show steps.

29. دیئے گئے اظہاریے کی تجزی کریں اور مراحل دکھائیں۔

(Marks 03)

$$2x^2 + 12xy + 18y^2$$

---

---

---

---

---

---

---

---

---

---

## Science

30. Gastric juice is present in

30. گیسٹرک جوس موجود ہوتا ہے

mouth.

(A)

منہ میں۔

stomach.

(B)

معدے میں۔

large intestine.

(C)

بڑی آنت میں۔

small intestine.

(D)

چھوٹی آنت میں۔

31. Complete the order by filling in the missing part

31. دی گئی ترتیب کو مکشده جزو ڈال کر مکمل کریں۔

Mouth → \_\_\_\_\_ → stomach → small intestine

منہ ← معدہ ← چھوٹی آنت۔

large intestine

(A)

بڑی آنت۔

oesophagus

(B)

ایسوفیجس۔

rectum

(C)

ریکٹم۔

anus

(D)

انس۔

32. The right and left side of the human heart is separated from each other by

32. انسانی دل کی سیدھی اور الٹی اطراف جس ذریعے سے ایک دوسرے سے الگ ہوتی ہیں وہ ہے

atria.

(A)

ایٹریا۔

septum.

(B)

سیپٹم۔

ventria.

(C)

وینٹریا۔

capillary.

(D)

کیپلری۔

33. In cross pollination, the pollen grains are transferred from anther of one flower to the other flowers'

33. عرضی زیرگی میں پھول کے پولن دانے منتقل ہوتے ہیں ایک پھول کے بہ منتہر سے دوسرے پھول کے

style.

(A)

اسٹائل پر۔

sepal.

(B)

سیپل پر۔

stigma.

(C)

اسٹگما پر۔

pedicel.

(D)

پیڈسل پر۔

34. Arctic foxes are inhabitants of biome, which is

34. برفانی لومڑی جس حیاتیاتی خطے میں رہائش پذیر ہوتی ہے، وہ ہے

forest.

(A)

جنگل۔

desert.

(B)

صحرا۔

tundra.

(C)

تندرا۔

grassland.

(D)

چراگاہ۔

35. The winter sleep by animals to save their energy is called

35. سردیوں کی نیند جس میں جانور اپنی توانائی بچانے کے لیے لمبے عرصے تک سوتے ہیں، کہلاتی ہے

estivation.

(A)

ایسٹیویشن۔

migration.

(B)

مانگریشن۔

hibernation.

(C)

ہائبرنیشن۔

camouflage.


(D)

کیموفلاج۔

**36.** The herbivore in the following food chain is

36. دی گئی غذائی زنجیر میں سبزہ خور ہے

## Food chain



maize

locust

lizard

snake

maize.

مکتبی۔

locust.

®

طرا

lizard.

©

چھپکی۔

snake.

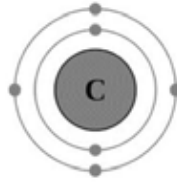
®

## سانپ



37. Find the total number of electrons in carbon atom as shown below.

37. دیئے گئے کاربن کے ایٹم میں الیکٹران کی کل تعداد معلوم کریں۔



2

(A)

3

(B)

4

(C)

6

(D)

38. One of the following is **not** the mode of heat transfer.

38. مندرجہ ذیل میں سے کوئی ایک حرارت کی نقل و حمل کا طریقہ نہیں ہے۔

Radiation

Ⓐ

اشعاع حرارت۔

Conduction

Ⓑ

ایصال حرارت۔

Convection

Ⓒ

ترسیل حرارت۔

Temperature

Ⓓ

درجہ حرارت۔

39. The number of Nitrogen atom present in ammonia compound is/are

39. امونیا کے مرکب میں موجود نائٹروجن ایٹم کی تعداد ہے

1

Ⓐ

2

Ⓑ

3

Ⓒ

4

Ⓓ

**40. Explain chemical changes with the help of two examples.**

**40. دو مثالوں کی مدد سے کیمیائی تبدیلی کو بیان کریں۔**

**(Marks 04)**

41. Suggest **any four** ways to reduce the wastage of water in daily life.

41. پانی کے زیاں کو روکنے کے لئے کوئی چار تجاویز تحریر کریں۔

(Marks 04)

- i) \_\_\_\_\_  
\_\_\_\_\_
- ii) \_\_\_\_\_  
\_\_\_\_\_
- iii) \_\_\_\_\_  
\_\_\_\_\_
- iv) \_\_\_\_\_  
\_\_\_\_\_

42. Name **any three** Biotic Components

42. کسی بھی تین حیاتیاتی اجزاء کے نام تحریر کریں۔

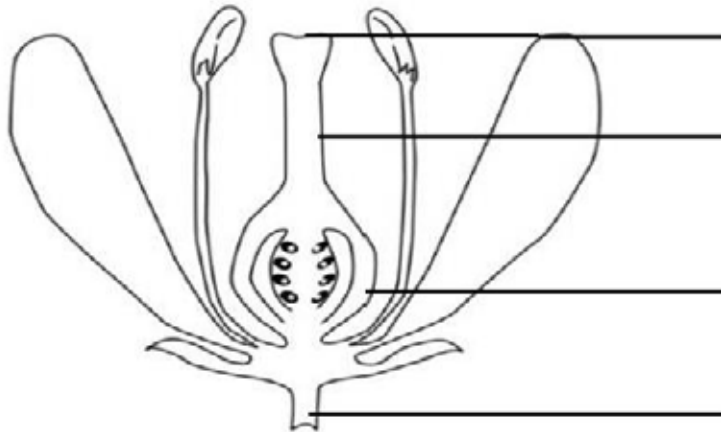
(Marks 03)

- i) \_\_\_\_\_
- ii) \_\_\_\_\_
- iii) \_\_\_\_\_

43. Label the following diagram.

43. دیئے گئے پودے کے مختلف حصوں کو لیبل کریں۔

(Marks 04)



### English

44. Add the appropriate Possessive Pronoun in the following sentence.

This room belongs to you. This room is \_\_\_\_\_

- |       |   |
|-------|---|
| My    | Ⓐ |
| hers  | Ⓑ |
| mine  | Ⓒ |
| yours | Ⓓ |

45. Identify Reflexive Pronoun in the following sentence.

I made this tea myself.

- |        |   |
|--------|---|
| I      | Ⓐ |
| this   | Ⓑ |
| made   | Ⓒ |
| myself | Ⓓ |

46. Read the following stanza and identify the meaning of the underlined word.

You talk of wondrous things you see  
You say the sun shines bright  
I feel him warm, but how can he  
Or make it day or night?

- |          |   |
|----------|---|
| boring   | Ⓐ |
| normal   | Ⓑ |
| amazing  | Ⓒ |
| expected | Ⓓ |

47. Which of the following is the correct spelling?

- |           |   |
|-----------|---|
| awariness | Ⓐ |
| awareness | Ⓑ |
| awereness | Ⓒ |
| awarenees | Ⓓ |

48. Add the proper linking word in the following sentence.

I like Mathematics\_\_\_\_\_ English.

if

Ⓐ

but

Ⓑ

and

Ⓒ

because

Ⓓ

49. Add suitable adjective in the following sentence.

We should be \_\_\_\_\_ while crossing road.

harmful

Ⓐ

hopeful

Ⓑ

peaceful

Ⓒ

careful

Ⓓ



50. The appropriate countable noun for the given sentence is

I need \_\_\_\_\_ water.

a slice of

Ⓐ

a glass of

Ⓑ

a sack of

Ⓒ

a pinch of

Ⓓ

51. The Present Tense of the given word is

**Lost**

lose

Ⓐ

loss

Ⓑ

lease

Ⓒ

loose

Ⓓ

52. Select the appropriate article for the following sentence.

Have you ever seen \_\_\_\_\_ elephant up close?

a ☐ (A)

an ☐ (B)

up ☐ (C)

the ☐ (D)

53. Can and can't shows the ability/inability to do something. Choose the appropriate option for the given sentence.

She knows how to drive. She \_\_\_\_\_ drive.

can ☐ (A)

can't ☐ (B)

could ☐ (C)

would ☐ (D)

**54. Write any three countable nouns.**

**(Marks 03)**

i)

ii)

iii)

**55. Complete the following conditional sentences.**

**(Marks 02)**

i) If school is off today, \_\_\_\_\_

ii) If I reach home early, \_\_\_\_\_

**56.** Write down **any three** rhyming words for the underlined word in the following sentence.

**(Marks 03)**

We enjoy to play cricket at night.

i) \_\_\_\_\_

ii) \_\_\_\_\_

iii) \_\_\_\_\_

**57.** Use the following words to make sentences in Present Continuous Tense.

**(Marks 02)**

i) **Pollution:** \_\_\_\_\_

ii) **Feeling:** \_\_\_\_\_

**58.** Write a letter to your friend about the experience of science exhibition in your school.

**(Marks 05)**

[illegible]