



Promoting Private Schooling in Rural Sindh (PPRS)

Assessment Feb - Mar 2019



Sindh Education Foundation
Government of Sindh

Assessment Unit


Subject	Marks	Time
Sindhi	25	40 Minutes
Mathematics	25	50 Minutes
Science	25	45 Minutes
English	25	45 Minutes
Total	100	180 Minutes

INSTRUCTIONS FOR THE STUDENT

شاگرد جي لاءِ هدايتون

Objective Part

معروضي حصو

<ul style="list-style-type: none"> The assessment paper is divided into four parts/subjects. Each part/subject contains objective part and subjective part. 	<ul style="list-style-type: none"> پيپر کي چئن حصن/مضمونن ۾ ورهايو ويو آهي. هر هڪ حصو/مضمون معروضي ۽ موضوعي حصي تي مشتمل آهي.
<ul style="list-style-type: none"> All questions are compulsory. 	<ul style="list-style-type: none"> سڀ سوال لازمي آهن.
<ul style="list-style-type: none"> Each MCQ carry 1 mark. 	<ul style="list-style-type: none"> سڀئي سوالن تي هڪ جيتريون مارڪون رکيل آهن.
<ul style="list-style-type: none"> Fill only one circle for each question. If more than one circle is filled in for a single question, the answer for that question will be declared invalid. 	<ul style="list-style-type: none"> هر هڪ سوال جي جواب لاءِ فقط هڪ گولڙي کي ڀريو. جيڪڏهن هڪ سوال جي جواب لاءِ هڪ کان وڌيڪ گولڙن کي ڀريو ويو ته ان جواب کي غلط تصور ڪيو ويندو.
<ul style="list-style-type: none"> If you need to change an answer, first erase the originally filled circle thoroughly, and then fill the circle against alternative option. 	<ul style="list-style-type: none"> جيڪڏهن توهان ڪنهن به سوال جي ڏنل جواب کي تبديل ڪرڻ چاهيو ته پهريان کان پريل گولڙي کي چڱيءَ طرح ڊاهيو ۽ پوءِ ٻئي گولڙي کي ڀريو.
<ul style="list-style-type: none"> Fill correct option according to the following example. 	<ul style="list-style-type: none"> جواب کي هيٺ ڏنل مثال مطابق چڱيءَ ريت ڀريو.
<div style="text-align: center;">  </div>	
<ul style="list-style-type: none"> Pencil should be used to fill the answers. 	<ul style="list-style-type: none"> جوابن واري گولڙي کي پرن لاءِ پينسل جو استعمال ڪريو.
<ul style="list-style-type: none"> Finish each part in the given time as mentioned in the paper. 	<ul style="list-style-type: none"> پيپر ۾ ڏنل هر هڪ حصي کي ڏنل وقت مطابق حل ڪريو.
<ul style="list-style-type: none"> Use the given blank page for mathematics rough work. 	<ul style="list-style-type: none"> رياضيءَ جو رڳو ڪم ڪرڻ لاءِ ڏنل خالي صفحو استعمال ڪريو.

INSTRUCTIONS FOR THE STUDENT

شاگرد جي لاءِ هدايتون

Subjective Part

موضوعي حصو

▪ All questions are compulsory.	▪ سڀ سوال لازمي آهن.
▪ Marks of each question in subjective paper are given at the end of the question.	▪ موضوعي حصي ۾ هر هڪ سوال جي آخر ۾ ان جون مارڪون ڏنل آهن.
▪ Pencil should be used to write the answers.	▪ جواب لکڻ لاءِ پينسل جو استعمال ڪريو.
▪ Avoid over writing or untidy work.	▪ ٻڻي لکڻي ۽ ڊاهه ڊوهه واري ڪم کان پاسو ڪريو.
▪ Use the given blank page for mathematics rough work.	▪ رياضيءَ جو رڻ ڪم ڪرڻ لاءِ ڏنل خالي صفحو استعمال ڪريو.

MCQ Practice

1. Name of our country is

1. اسانجي ملڪ جونالو آهي

Kenya.

Ⓐ

ڪينيا.

Pakistan.

Ⓑ

پاڪستان.

Malaysia.

Ⓒ

ملائيشيا.

Indonesia.

Ⓓ

انڊونيشيا.

2. Add.

2. جوڙ ڪريو.

$$2 + 2 = \underline{\hspace{2cm}}.$$

4

Ⓐ

5

Ⓑ

6

Ⓒ

7

Ⓓ

سنڌي

1. هيٺ ڏنل لفظ جي معنيٰ ڪهڙي آهي؟

ابتدائي

- | | |
|---------|---|
| اُڙڏو | Ⓐ |
| شروعاتي | Ⓑ |
| بهادري | Ⓒ |
| سازش | Ⓓ |

2. صحيح لفظ چونڊيندي بيت مڪمل ڪريو.

ڪنهن پُڄ پڄاڻيو، ڪنهن ڍٽ مٿاهين ڍار، ڪنهن اچي عمر ڪوٽ تان، وسايا _____

- | | |
|--------|---|
| گرنار | Ⓐ |
| قنڌار | Ⓑ |
| ولھارَ | Ⓒ |
| ڍار | Ⓓ |

3. هيٺ ڏنل جملن مان زمان حال وارو جملو ڪهڙو آهي؟

- Ⓐ احمد گهر جو سامان وٺي آيو هو.
- Ⓑ مان سپاڻي ڪاليج ويندس.
- Ⓒ سڪينه ماني پچائي ٿي.
- Ⓓ عاليه ڪم ڪيو.

4. اهڙا لفظ جيڪي سوال پڇڻ جي ڪم اچن، انهن کي ضمير استفهام چئبو آهي. هيٺ ڏنل جملن مان ضمير استفهام وارو جملو ڪهڙو آهي؟

- Ⓐ مان اچان ٿي.
- Ⓑ عابد لکي ٿو.
- Ⓒ اڪبر نند پيو آهي.
- Ⓓ اهو ڪير آهي؟

5. هيٺ ڏنل وصفن مان ”حرف جر“ جي وصف ٿيندي، اهو لفظ جيڪو

- Ⓐ اسم جي بدران ڪم اچي.
- Ⓑ ڪنهن به نالي طور ڪم اچي.
- Ⓒ اسم يا ضمير جي پٺيان اچي.
- Ⓓ اسم جو گڻ، اوگڻ، مقدار ڏيکاري.

6. جيڪڏهن ڪنهن ماڻهوءَ کي ڏک لڳڻ جي حالت ۾ رت وهندو هجي ته ڏک واري جاءِ تي

- Ⓐ لوڻ لڳائي ڇڏجي.
- Ⓑ مٽي لڳائي ڇڏجي.
- Ⓒ ميرو ڪپڙو رکي ڇڏجي.
- Ⓓ زور سان صاف سٿري پٽي ٻڌجي.

7. ورهاڱي کانپوءِ قائداعظم مئي 1948ع ۾ ڪهڙي بئنڪ ٺاهڻ لاءِ جدوجهد ڪئي؟

- Ⓐ يونائيٽيڊ بئنڪ
- Ⓑ اسٽيٽ بئنڪ
- Ⓒ حبيب بئنڪ
- Ⓓ سنڌ بئنڪ

8. شعر جي ڪنهن مصرع ۾ ساڳئي يا هڪجهڙي اکر سان شروع ٿيندڙ ڪيترائي لفظ اچن ته ان کي تجنيس حرفي چئبو آهي. هيٺ ڏنل مصرعن مان تجنيس حرفي وارو مصرع ڪهڙو آهي؟

- Ⓐ خاموشيءَ ۾ ساڙ وڃن ٿا،
- Ⓑ وڏايو ايئن شان، عزت وطن جي.
- Ⓒ وطن جي ڪريو خوب ساراهه هرهنڌ،
- Ⓓ مَهڙ مڙني مُرسلن، محبوب، مشفق، مهربان،

9. اهڙا لفظ جيڪي سڌ ڪرڻ يا ڊل جي حالت ۽ ڪيفيت جهڙوڪ: ڏک، خوشي، افسوس يا عجب لاءِ ڪم اچن، تن کي حرف ٻڌا چئبو آهي. هيٺ ڏنل جملن مان حرف ٻڌا وارو جملو ڪهڙو آهي؟

- (A) احمد نه ٿو اچي.
- (B) هل ته گهمڻ هلون.
- (C) ڇا توهان ڳوٺ ٿا وڃو؟
- (D) افسوس! منهنجي پين گم ٿي وئي.

10. امام ابو حنيفه ڪٿي ڄائو؟

- (A) بغداد
- (B) ڪوفي
- (C) ايران
- (D) مصر

11. هيٺ ڏنل جملا غور سان پڙهو. جملن ۾ جنهن لفظ جي هيٺيان ليگ () ڏنل آهي ان لفظ جو ضد خال ۾ لکو. 03 مارڪون

الف. انسان کي سدائين سچ ڳالهائڻ گهرجي _____ ڪڏهن به نه ڳالهائجي.

ب. خالي گلاس هميشه اُبتو رکجي _____ نه رکجي.

ج. آسمان تي سج ڏينهن جي وقت هوندو آهي ۽ چنڊ جي وقت هوندو آهي.

12. اهو لفظ جيڪو جملي ۾ ٻن لفظن، جملي جي ٻن ڀاڱن يا ٻن جملن کي ڳنڍي هڪ ڪري ان کي حرف جملو چئبو آهي. هيٺ ڏنل جملن مان حرف جملو چونڊي لکو. 03 مارڪون

الف. تحرير ۽ عليزه سهيليون آهن.

ب. اڄ مون کي مٿي ۾ سور هيوتنهٺڪري توهان ڏي اچي نه سگهيس.

ج. ڪالهه مان توهان ڏي اچان هان پر مون کي بخار ٿي پيو.

13. هيٺ ڏنل ڪهاڻي پڙهو ۽ پڇيل سوالن جا جواب ڏيو. 04 مارڪون

هڪ ڏينهن وٽائي فقير کي پنهنجي ماءُ چيو ته وٽايا پائڻ لاءِ ڪو چڱو ڪپڙو ڪونهي، پئسي جي گهرج آهي ڪجهه ڪري ڪا پورٽ ڪر. وٽائي فقير رب پاڪ کي سوال ڪيو. جواب مليس ته اهو پير جو وڻ ڏوڻ. وٽائي پير کي جو ڏوڻيو ته پڻ پٽ تي ڪرندا رپيا ٿيندا ويا. جڻ رپين جو مينهن وسي پيو. انهن مان وٽائي هڪ رپيو کڻي ماءُ کي ڏنو ۽ چيائينس ته هي وڻ ۽ وڃي ڪپڙا وٺ. ماءُ چيس هيٺ ڪوڙ رپيا پيا آهن تون رڳو هڪڙو رپيو کنيو آهي؟ وٽائي جواب ڏنس ته لالچ نه ڪر جيترا ڪم ۾ اٿئي اهي وڻ جي اچي ويس ريچڪ ته رپئي جي لاءِ به سڪائيندو.

الف. وٽائي فقير کي پنهنجي ماءُ ڇا چيو؟

ب. وٽائي فقير ڇا جي وڻ کي ڏوڻيو؟

ج. هن ڪهاڻيءَ مان ڪي به ٻه اسم چونڊي لکو؟

د. هن ڪهاڻيءَ مان اسان کي ڪهڙو سبق ملي ٿو؟

وڏن جو احترام

محنت ۾ عظمت

[illegible]

Rough Work

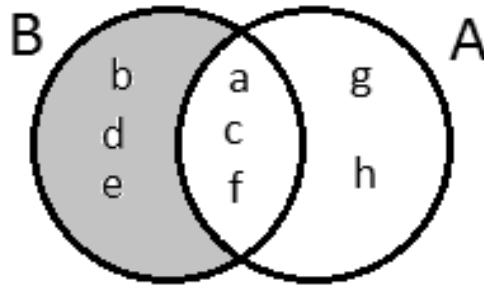
Rough Work

Rough Work

Mathematics

15. Identify the operation shown between two sets A and B through the given Venn diagram.

15. هيٺ ڏنل وين ڊاياگرام ۾ سيٽ A ۽ B وچ ۾ ٿيندڙ عمل جي سڃاڻپ ڪريو.



- $B - A$ (A)
 $A - B$ (B)
 $A \cap B$ (C)
 $A \cup B$ (D)

16. The set of Whole numbers from the following is

16. هيٺ ڏنل سيٽن مان سڄن عددين وارو سيٽ آهي

- $W = \{0, 1, 2, 3, 4, \dots\}$ (A)
 $W = \{1, 3, 5, 7, 9, \dots\}$ (B)
 $W = \{2, 3, 5, 7, 11, \dots\}$ (C)
 $W = \{2, 4, 6, 8, 10, \dots\}$ (D)

17. Identify the value of the given exponent.

17. هيٺ ڏنل قوت نما / سگهه جي ملهه جي سڃاڻپ ڪريو.

$$(3^2)^2 = \underline{\hspace{2cm}}$$

16

Ⓐ

24

Ⓑ

36

Ⓒ

81

Ⓓ

18. The square root of the following is

18. هيٺ ڏنل جو ٻيو مول آهي

$$\sqrt{1.21} = \underline{\hspace{2cm}}$$

0.3

Ⓐ

0.9

Ⓑ

1.1

Ⓒ

1.3

Ⓓ

19. Identify the rational number lies between $\frac{1}{2}$ and $\frac{1}{3}$.

19. هيٺ ڏنل نمبرن $\frac{1}{2}$ ۽ $\frac{1}{3}$ جي وچ ۾ ناطق عدد جي سڃاڻپ ڪريو.

$$\frac{1}{6}$$
$$\frac{1}{8}$$
$$\frac{3}{4}$$
$$\frac{5}{12}$$

Ⓐ

Ⓑ

Ⓒ

Ⓓ

20. The round off 5.556 upto 2 decimal places is

20. 5.556 جو ڏهائي جي ٻن درجن تائين مخصوص ٿيندو

$$5.556 \approx \underline{\hspace{2cm}}$$

5.50

Ⓐ

5.55

Ⓑ

5.56

Ⓒ

5.58

Ⓓ

21. The continued ratio of the following is

21. هيٺ ڏنل جي مسلسل نسبت آهي

$$P : Q = 1 : 4 \text{ and } Q : R = 1 : 3$$

$$P : Q : R = 1 : 5 : 10$$

(A)

$$P : Q : R = 1 : 4 : 12$$

(B)

$$P : Q : R = 2 : 3 : 14$$

(C)

$$P : Q : R = 2 : 5 : 12$$

(D)

22. Identify the given speed into metres/second.

22. هيٺ ڏنل رفتار جي ميٽر في سيڪنڊ ۾ سڃاڻپ ڪريو

18 kilometres/hour

18 ڪلوميٽر في ڪلاڪ

2 metres/second

(A)

2 ميٽر في سيڪنڊ

3 metres/second

(B)

3 ميٽر في سيڪنڊ

5 metres/second

(C)

5 ميٽر في سيڪنڊ

8 metres/second

(D)

8 ميٽر في سيڪنڊ

23. The weight of two boxes is 5 kilograms. The weight of 6 such boxes in kilograms would be

23. ٻن ڊٻن جو وزن 5 ڪلوگرام آهي. اهڙن 6 ڊٻن جو ڪل وزن ڪلوگرامن ۾ ٿيندو

12

(A)

15

(B)

18

(C)

20

(D)

24. If a number increased by 7 is equal to 15, then the number would be

24. جيڪڏهن هڪ عدد ۾ 7 وڌائڻ سان اهو برابر ٿيندو 15 جي، ته اهو عدد ٿيندو

5

(A)

6

(B)

8

(C)

9

(D)

25. If $A = \{a, b, c\}$, $B = \{a, c, e\}$, and $C = \{b, e, g\}$, then find $A \cup (B \cap C)$. Show steps.

25. جيڪڏهن $A = \{a, b, c\}$ ، $B = \{a, c, e\}$ ۽ $C = \{b, e, g\}$ ته $A \cup (B \cap C)$ لھو. مرحلا ڏيکاريو.

(04 Marks)

[illegible]

26. Divide 100 sweets among X, Y and Z in the following ratios. Show steps.

26. 100 تافيون / کٹمنڑا X, Y, Z ۾ هيٺ ڏنل نسبت تحت ورهايو. مرحلا ڏيکاريو.

(04 Marks)

2 : 1 : 2



27. Simplify the following and show steps.

27. هيٺ ڏنل کي سادي صورت ۾ آڻيو ۽ مرحلا ڏيکاريو.

(04 Marks)

$$\frac{5}{2} \times \frac{1}{6} \div \frac{5}{12}$$

28. An iron is sold for Rs 2,500 including the markup of Rs 500. Find the markup rate. Show steps.

28. هڪ استري 500 جي مارڪ اپ سان 2,500 ۾ وڪرو ڪئي وئي آهي. مارڪ اپ ريت معلوم ڪريو. مرحلا ڏيکارو.

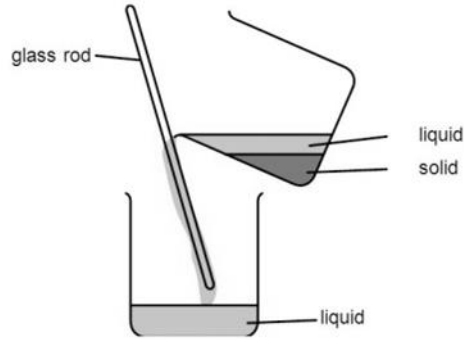
(03 Marks)



Science

29. The given picture showing a method to clean water it is called

29. هيٺ ڏنل تصوير پاڻي کي صاف ڪرڻ جو طريقو ڏيکاري رهي آهي، ان طريقي کي چئبو آهي



boiling.

(A)

اوبارڻ.

filtration.

(B)

ڇاڻڻ.

decanting.

(C)

آٺرائڻ.

chlorination.

(D)

ڪلورين اندازي.

30. The **biotic** factor from the following is

30. هيٺ ڏنل مان حياتياتي جزو آهي

soil.

(A)

مٽي.

plants.

(B)

پوٽا.

sunlight.

(C)

سج جي روشني.

temperature.

(D)

گرمي پد.

31. Identify the physical change from the following.

31. هيٺ ڏنل مان طبعي تبديلي جي سڃاڻپ ڪريو.

Burning of wood

(A)

ڪاٺ جو سڙڻ

Cooking of food

(B)

کاڌي جو پيڇڻ/رڌجڻ

Rusting of Iron

(C)

لوھ جو ڪٽجڻ

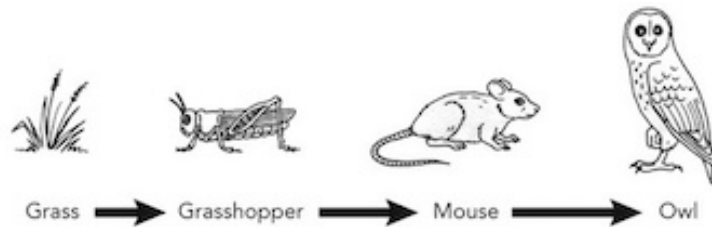
Freezing of water

(D)

پاڻي جو ڄمڻ

32. Identify the primary consumer in the following food chain.

32. هيٺ ڏنل کاڌي جي زنجير ۾ شروعاتي واپرائيندڙ جي سڃاڻپ ڪريو.



grasshopper

(A)

گاهه جو ٽڏو

mouse

(B)

ڪوئو

grass

(C)

گاهه

owl

(D)

چٻرو

33. The mineral element that is required for growth of flower and fruit in plants is

33. ٻوٽن ۾ نوان تانڊورا/ اوڃا ٺاهڻ لاءِ جيڪو معدنيات گهريل هوندو آهي، اهو آهي

- | | | |
|-------------|-----|-----------|
| nitrogen. | (A) | نائٽروجن. |
| potassium. | (B) | پوٽاشيم. |
| phosphorus. | (C) | فاسفورس. |
| magnesium. | (D) | مئگنيشيم. |

34. In a human body bile juice is present in the

34. انساني جسم ۾ بائيل جوس موجود هونديون آهن

- | | | |
|------------------|-----|--------------|
| liver. | (A) | جيري ۾. |
| mouth. | (B) | وات ۾. |
| stomach. | (C) | معي ۾. |
| small intestine. | (D) | ننڍي آندي ۾. |

35. Complete the following equation for the process of respiration.

35. ساھ ڪڍڻ واري عمل تحت هيٺ ڏنل مساوات مڪمل ڪريو.

Oxygen + _____ → Carbon dioxide + water + energy

- | | | |
|----------------|-----|---------------------|
| glucose | (A) | گلوڪوز |
| nitrogen | (B) | نائٽروجن |
| hydrogen | (C) | هائيڊروجن |
| carbon dioxide | (D) | ڪاربان ڊاءِ آڪسائيڊ |

36. Which of the following is **not** a blood vessel?

36. هيٺ ڏنل مان ڪهڙي رت جي نالي نه آهي؟

Vein

Ⓐ

نَس

Nerve

Ⓑ

تنت

Artery

Ⓒ

شريان

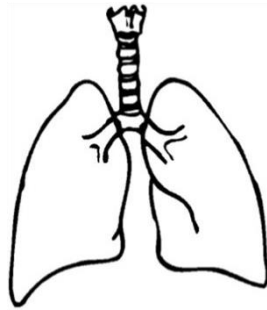
Capillary

Ⓓ

وارنلي

37. Identify the structure shown below.

37. هيٺ ڏنل شڪل جي سڃاڻپ ڪريو.



stomach

Ⓐ

معدو

heart

Ⓑ

دل

liver

Ⓒ

جيرو

lungs

Ⓓ

ڦڦڙ

38. In plants, the function of chlorophyll is to absorb

38. ٻوٽن ۾ ڪلوروفل جو ڪم آهي جنهن شيءِ کي جذب ڪرڻ، اها آهي

air.

Ⓐ

هوا.

light.

Ⓑ

روشني.

oxygen.

Ⓒ

آڪسيجن.

carbon dioxide.

Ⓓ


ڪاربان ڊاءِ آڪسائيڊ.

39. Identify the following blood vessels and write their names. 39. هيٺ ڏنل رت جي نالين جي سڃاڻپ ڪريو ۽ انهن جا نالا لکيو.

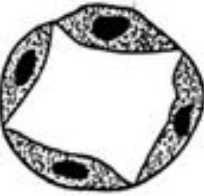
(03 Marks)



Name: _____



Name: _____



Name: _____

40. Discuss, why petals in a flower are brightly colored? 40. گل جون پنکڙيون رنگين ڇو هونديون آهن؟ بحث ڪريو.

(01 Mark)

41. Answer the following questions.

41. هيٺ ڏنل سوالن جا جواب ڏيو.

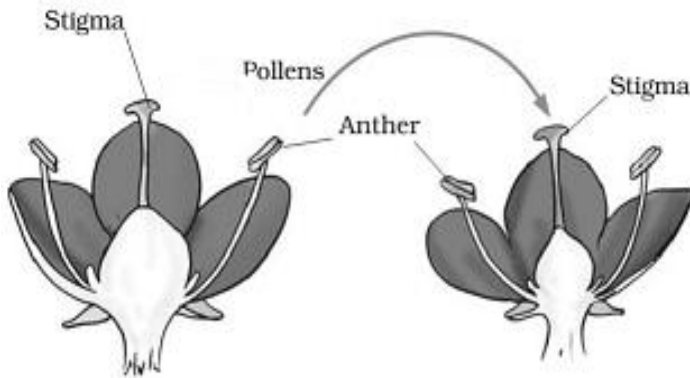
(03 Marks)

a) Explain the term “self-pollination”.

”سيلف پولينيشن“ جي وضاحت ڪريو.

b) Identify the type of pollination in the diagram shown below.

هيٺ ڏنل شڪل ۾ پولينيشن جي قسم جي سڃاڻپ ڪريو.



42. Write **any two** properties of water.

42. پاڻي جون ڪي به ٻه خاصيتون لکو.

(02 Marks)

a) _____

b) _____

43. Explain **any two** factors that causes changes in the habitat.

43. ساھ وارن جي طبعي ماحول جي ڪن به ٻن جزن جي وضاحت ڪريو جيڪي ان جي تبديلي جو سبب بڻجن ٿا.

(02 Marks)

44. Complete the table given below to show the distribution of electrons in shells.

44. هيٺ ڏنل عنصرن جي مدارن / شيلن ۾ اليڪٽرانن جي ورهاست ڏيکاريندي جدول / ٽيبل کي مڪمل ڪريو.

(04 Marks)

Element عنصر	Number of electron اليڪٽرانن جو تعداد	First shell پهريون مدار / شيل	Second shell ٻيون مدار / شيل
Carbon ڪاربان	6		
Neon نيان	10		
Nitrogen نائٽروجن	7		
Fluorine فلورين	9		

English

45. Read the given sentence and identify the conjunction.

We should not waste water because it is precious.

- | | |
|----------|---|
| waste | Ⓐ |
| water | Ⓑ |
| because | Ⓒ |
| precious | Ⓓ |

46. Read the given sentence and choose the appropriate simile.

Her hair is _____

- | | |
|-----------------|---|
| like black silk | Ⓐ |
| like an angel | Ⓑ |
| like a lion | Ⓒ |
| like a sun | Ⓓ |

47. Identify the Adverb in the following sentence.

He was late that is why he went quickly.

- | | |
|---------|---|
| was | Ⓐ |
| late | Ⓑ |
| went | Ⓒ |
| quickly | Ⓓ |

48. The opposite of the word “front” is

next. (A)

back. (B)

beside. (C)

above. (D)

49. Choose the correct article for the following sentence.

I remember _____ day when we first met.

I (A)

a (B)

an (C)

the (D)

50. Read the sentence and find the meaning from the given options.

Something that does not cost a lot of money is

cheap. (A)

healthy. (B)

exclusive. (C)

expensive. (D)

51. Replace noun in the following sentence with the appropriate pronoun.

Saira and Ali are going on a picnic.

He (A)

Us (B)

We (C)

They (D)

52. Choose the appropriate object pronoun.

Students in the class were shouting. _____ teacher asked them to maintain discipline.

They (A)

Their (B)

Them (C)

These (D)

53. Which of the following is the synonym of “approval”?

calm (A)

sanction (B)

agreement (C)

disturbance (D)

54. Identify the correct spelling from the following.

smasheed

Ⓐ

smeshed

Ⓑ

smashed

Ⓒ

smished

Ⓓ

55. Read the following paragraph and answer the given questions. **(04 Marks)**

Great Big Elephants

Almost everything about elephants is big. They are the largest animals that live on land. There are two kinds of elephants: the Indian elephant and the African elephants. A male, African elephant can weigh up to six thousand kilos. Elephants can be up to four meters tall. Elephants need to live in very large areas because they eat and drink so much. Every day, elephants spend about 16 hours eating. They eat up to 200 kilos of food. They can drink over 250 liters of water.

Elephants have very big, very thin ears. Elephants use their ears to cool themselves down. An elephant's trunk can smell food, water and predators. Elephants need very strong legs to support their heavy bodies. Elephant tusks are really long, curved teeth. Elephants use their tusks to dig food and water and to fight.

Answer each question in full sentence.

1) Why do elephants need strong legs?

2) Which body part helps Elephants to stay cool?

3) State the synonym of the word "dig"?

4) How Elephants use their tusk?

56. Complete the following sentences using Simple Future Tense. (02 Marks)

a) If I get a bicycle, _____

b) If my mother comes today, _____

57. Use following words in your sentences. (03 Marks)

a) Rich: _____

b) Strong: _____

c) World: _____

58. Write a letter to your friend and inform him/her about the science exhibition held in your school. **(03)**

This image shows a blank sheet of white paper with horizontal ruling lines. The lines are evenly spaced and extend across the width of the page. There are no margins, text, or other markings on the paper.

59. Write an essay of 100 words on “Save Water Save Earth”. (03 Marks)

[illegible]