



# Promoting Private Schooling in Rural Sindh (PPRS)

Assessment Feb - Mar 2019



Sindh Education Foundation  
Government of Sindh

Assessment Unit

Subject	Marks	Time
Sindhi	25	40 Minutes
Mathematics	25	50 Minutes
Science	25	45 Minutes
English	25	45 Minutes
<b>Total</b>	<b>100</b>	<b>180 Minutes</b>

## INSTRUCTIONS FOR THE STUDENT

طلباء کے لئے ہدایات

## Objective Part

معروضی حصہ

<ul style="list-style-type: none"> <li>The assessment paper is divided into four parts/subjects. Each part/subject contains objective part and subjective part.</li> </ul>	<ul style="list-style-type: none"> <li>امتحانی پرچے کو چار حصوں میں تقسیم کیا گیا ہے۔ ہر حصہ / مضمون معروضی اور موضوعی حصے پر مشتمل ہے۔</li> </ul>
<ul style="list-style-type: none"> <li>All questions are compulsory.</li> </ul>	<ul style="list-style-type: none"> <li>تمام سوالات لازمی ہیں۔</li> </ul>
<ul style="list-style-type: none"> <li>Each MCQ carry 1 mark.</li> </ul>	<ul style="list-style-type: none"> <li>ہر معروضی سوال کا ایک نمبر ہے۔</li> </ul>
<ul style="list-style-type: none"> <li>Fill only one circle for each question. If more than one circle is filled in for a single question, the answer for that question will be declared invalid.</li> </ul>	<ul style="list-style-type: none"> <li>ایک سوال کے لیے صرف ایک ہی دائرے کو بھریں۔ اگر ایک سے زیادہ دائرے بھرے جائیں گے تو جواب غلط تصور کیا جائے گا۔</li> </ul>
<ul style="list-style-type: none"> <li>If you need to change an answer, first erase the originally filled circle thoroughly, and then fill the circle against alternative option.</li> </ul>	<ul style="list-style-type: none"> <li>اگر آپ جواب بدلنا چاہتے ہیں تو پہلے اچھی طرح سے دائرے کو مٹائیں اور دوسرے استعارے کو بھریں۔</li> </ul>
<ul style="list-style-type: none"> <li>Fill correct option according to the following example.</li> </ul>	<ul style="list-style-type: none"> <li>صحیح جواب کی دی گئی مثال کے مطابق اچھی طرح سے بھریں۔</li> </ul>
<p style="text-align: center;"> <input type="radio"/> A  <input checked="" type="radio"/> B  <input type="radio"/> C  <input type="radio"/> D </p>	
<ul style="list-style-type: none"> <li>Pencil should be used to fill the answers.</li> </ul>	<ul style="list-style-type: none"> <li>دائرے کو بھرنے کے لیے پنسل کا استعمال کریں۔</li> </ul>
<ul style="list-style-type: none"> <li>Finish each part in the given time as mentioned in the paper.</li> </ul>	<ul style="list-style-type: none"> <li>ہر حصے کو دیئے گئے وقت کے مطابق حل کریں۔</li> </ul>
<ul style="list-style-type: none"> <li>Use the given blank page for mathematics rough work.</li> </ul>	<ul style="list-style-type: none"> <li>دیئے گئے خالی صفحے کو حساب کے رف کام کے لیے استعمال کریں۔</li> </ul>

## INSTRUCTIONS FOR THE STUDENT

طلباء کے لئے ہدایات

### Subjective Part

موضوعی حصہ

▪ All questions are compulsory.	▪ تمام سوالات لازمی ہیں۔
▪ Marks of each question in subjective paper are given at the end of the question.	▪ موضوعی حصے میں ہر سوال کے آخر میں اس کے مارکس درج ہیں۔
▪ Pencil should be used to write the answers.	▪ جواب لکھنے کے لئے پنسل کا استعمال کریں۔
▪ Avoid over writing or untidy work.	▪ خراب اور گندی لکھائی سے پرہیز کریں۔
▪ Use the given blank page for mathematics rough work.	▪ دیئے گئے خالی صفحے کو حساب کے رف کام کے لئے استعمال کریں۔

### MCQ Practice

1. Name of our country is

1. ہمارے ملک کا نام ہے

Kenya.

(A)

کینیا۔

Pakistan.

(B)

پاکستان۔

Indonesia.

(C)

انڈونیشیا۔

2. Add.

2. جمع کریں۔

$$2 + 2 = \underline{\hspace{2cm}}.$$

4

(A)

6

(B)

8

(C)

## سنڌي

1. هيٺ ڏنل لفظ جي معنيٰ ڪهڙي آهي؟

### محب وطن

- ① وطن سان پيار ڪندڙ
- ② سازش
- ③ خواهش
- ④ اُتساه

2. صحيح لفظ چونڊيندي بيت مڪمل ڪريو.

موتي مانڊاڻ جي، واري ڪيائين وارَ، وِجون وَسَڻ آئيون، چوڏس ٿي \_\_\_\_\_

- ① قنڌار
- ② چوڌار
- ③ گرنار
- ④ ڀار

3. هيٺ ڏنل جملن مان زمان مستقبل وارو جملو ڪهڙو آهي؟

- (A) احمد گهر جو سامان وٺي آيو هو.
- (B) مان سڀاڻي ڪاليج ويندس.
- (C) سائره سمهي پئي آهي.
- (D) عاليه اچي ٿي.

4. شهيد هوش محمد شيدي ڪنهن جي دؤر سان واسطو رکي ٿو؟

- (A) ڪلهوڙن جو دؤر
- (B) سومرن جو دؤر
- (C) سمن جو دؤر
- (D) ٽالپرن جو دؤر

5. هيٺ ڏنل وصفن مان ”ظرف“ جي وصف ٿيندي، اهو لفظ جيڪو

- (A) اسم جو گڻ، اوگڻ، مقدار ڏيکاري.
- (B) وقت، جاءِ، هاڪار، ناڪار ڏيکاري.
- (C) ڪنهن به نالي طور ڪم اچي.
- (D) اسم جي بدران ڪم اچي.

6. جيڪڏهن ڪو به ماڻهو بجليءَ جي جهٽڪي لڳڻ جي صورت ۾ بجلي جي تار ۾ ڦاسي پوي، ته ڦاٿل ماڻهوءَ کي

Ⓐ پاڻي هڻجي.

Ⓑ آلي چيل پارائجي.

Ⓒ آلي ڪاٺي سان آزاد ڪرائجي.

Ⓓ سڱل ڪاٺي سان آزاد ڪرائجي.

7. اهو ڪهڙو ادارو آهي جتي ماڻهو پنهنجون رقمون/پئسا محفوظ ڪرڻ ۽ ڪاروبار لاءِ رکندا آهن؟

Ⓐ بئنڪ

Ⓑ اسپتال

Ⓒ اسڪول

Ⓓ يونيورسٽي

8. شعر جي ڪنهن مصرع ۾ ساڳئي يا هڪجهڙي اکر سان شروع ٿيندڙ ڪيترائي لفظ اچن ته ان کي تجنيس حرفي چئبو آهي. هيٺ ڏنل مصرعن مان تجنيس حرفي وارو مصرع ڪهڙو آهي؟

Ⓐ خاموشيءَ ۾ سارَ وڃن ٿا،

Ⓑ وڏايو ايئن ٿا، عزت وطن جي.

Ⓒ وطن جي ڪريو خوب ساراهه هرهنڌ،

Ⓓ مڙني مڙس، محبوب، مشفق، مهربان،



9. اهڙا لفظ جيڪي سڌ ڪرڻ يا ڊل جي حالت ۽ ڪيفيت جهڙوڪ: ڏک، خوشي، افسوس يا عجب لاءِ ڪم اچن. انهن کي حرفِ ندا چئبو آهي. هيٺ ڏنل جملن مان حرفِ ندا وارو جملو ڪهڙو آهي؟

- (A) او! احمد هيڏانهن اچ.
- (B) توهان ڪيڏانهن وڃي رهيا آهيو؟
- (C) مان سڀاڻي توهان ڏي اينديس.
- (D) آمنه ۽ زبيده رڌڻي ۾ آهن.

10. امام ابو حنيفه جو اصل نالو ڇا هو؟

- (A) عمر بن عبدالله
- (B) زيد بن حارث
- (C) نعمان بن ثابت
- (D) مصعب بن عمير

11. هيٺ ڏنل جملا غور سان پڙهو. جملن ۾ جنهن لفظ جي هيٺيان ليک ( ) ڏنل آهي ان لفظ جو ضد خال ۾ لکو.

03 مارڪون

الف. رياض پنهنجو حساب صحيح ڪيو هو پر اسما جو حساب \_\_\_\_\_ هو.

ب. خالي گلاس هميشه اُبتو رکجي \_\_\_\_\_ نه رکجي.

ج. آسمان تي سج ڏينهن جي وقت هوندو آهي ۽ چنڊ جي وقت هوندو آهي.

12. اهو لفظ جيڪو جملي ۾ ٻن لفظن، جملي جي ٻن ڀاڱن يا ٻن جملن کي ڳنڍي هڪ ڪري ان کي حرف جملو چئبو آهي. هيٺ ڏنل جملن مان حرف جملو چونڊي لکو.

03 مارڪون

الف. امجد ۽ راشد ڀائر آهن.

ب. مون کي اڄ ڪراچي ويٺو آهي تنهنڪري توهان ڏي نه اچي سگهيس.

ج. ڪالهه مان اسڪول اچان هان پر مون کي مٿي ۾ سور پيو هو.

13. هيٺ ڏنل ڪهاڻي پڙهو ۽ پڇيل سوالن جا جواب ڏيو. 04 مارڪون

هڪڙي پيري ”ڪير پير“ بادشاهه، پنهنجي وزير کي چيو ته سڄي بيلي ۾ پڙهو گهماءِ ته جيڪي به جانور ڪير ڏين ٿا. اُهي جمعي جي ڏينهن، ٻنپهرن کان اڳ ۾ منهنجي درٻار ۾ حاضر ٿين جو سندن ڪير کي ڏسنداسين. سمورن جانورن مان پهريان مينهن پٽاري ڪير پير بادشاهه جي درٻار ۾ پهتي. ڪير پير بادشاهه کيس ڏسي ڏاڍو خوش ٿيو ۽ مينهن کي چيائين ته مان توکي دعا ٿو ڪريان ۽ هي خاصيتون تنهنجي ڪير ۾ شامل ٿو ڪريان. پهريون ته تنهنجو ڪير سدائين سٺو رهندو ٻيو ته تنهنجي ڪير ۾ سدائين طاقت جون وڻون هونديون ٿيون ته تنهنجي ڪير ۾ خوشبو هوندي، جيئن ته تون سڀني کان پهرين آئي آهين ان ڪري تنهنجو ڪير سڀني جي ڪير کان بهترين رهندو. آخر ۾ توکي اها به خاصيت ڏجي ٿي ته تنهنجو ڪير ڄمندو ۽ ان مان مڪڻ ۽ لسي ٿيندي. جڏهن سج مٿي چڙهي چڪو ان کانپوءِ ڳئون آئي. ڪير پير بادشاهه کيس چيو ته تنهنجو ڪير نه گهاٽو هوندو نه ڇڊو، منجهس سٺي به هوندو ۽ ڪجهه ولوڙجي به سگهندو. تنهن کان پوءِ رڍ، ٻڪري ۽ اُٺ به آئي پر انهن جي ڪير کي مينهن واريون خاصيتون نه مليون. ٻنپهرن کانپوءِ آيل جانورن سان ڪير پير بادشاهه نه مليو. انهن کي هڪالي ڪڍيو ويو، تنهنڪري انهن جو ڪير ڪنهن به ڪم جو نه رهيو.

الف. کير پير بادشاهه کير ڏيندڙ جانورن کي ڪهڙي ڏينهن دربار ۾ گهرايو؟

---

---

ب. سمورن جانورن مان سڀ کان پهرين کير پير بادشاهه جي دربار ۾ کير آئي؟

---

---

ج. کير پير بادشاهه ڪنهن کي چيو ته تنهنجي کير ۾ خوشبو هوندي؟

---

---

د. کير پير بادشاهه ڳئون کي ڇا چيو؟

---

---

14. هيٺ ڏنل عنوانن مان ڪنهن به هڪ تي مختصر نوٽ لکو. 05 مارڪون

## تعليم جي اهميت

## صحت ۽ صفائي

[illegible]

## **Rough Work**

## **Rough Work**

## **Rough Work**

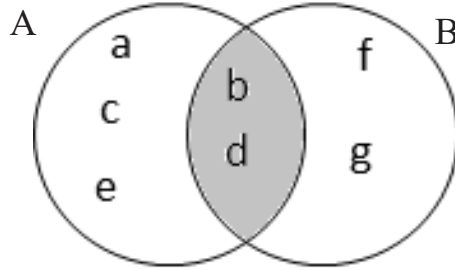


## **Rough Work**

## Mathematics

15. Identify the operation shown between two sets A and B through the given Venn diagram.

15. وین ڈائی گرام کی مدد سے دو سیٹوں A اور B کے درمیان ہونے والے عمل کی نشاندہی کریں۔



$A \cup B$

Ⓐ

$A \cap B$

Ⓑ

$A - B$

Ⓒ

$B - A$

Ⓓ

16. The set of Prime numbers from the following is

16. دیئے گئے میں سے مفرد اعداد کا سیٹ ہے

$\{1, 2, 3, 4, 5, \dots\}$

Ⓐ

$\{1, 3, 5, 7, 9, \dots\}$

Ⓑ

$\{2, 3, 5, 7, 11, \dots\}$

Ⓒ

$\{2, 4, 6, 8, 10, \dots\}$

Ⓓ

17. Identify the rational number lies between  $\frac{1}{4}$  and  $\frac{3}{4}$ .

17.  $\frac{1}{4}$  اور  $\frac{3}{4}$  کے درمیان آنے والے ناطق عدد کی نشاندہی کریں۔

$\frac{1}{2}$   
 $\frac{1}{3}$   
 $\frac{2}{3}$   
 $\frac{3}{8}$

(A)

(B)

(C)

(D)

18. The round off 9.947 upto 2 decimal places is

18. 9.947 کی 2 درجہ اعشاری صحیح صورت ہوگی

9.947  $\approx$  \_\_\_\_\_

9.90

(A)

9.94

(B)

9.95

(C)

9.99

(D)

19. Identify the value of the given exponent.

19. دیئے گئے قوت نما کی قیمت کی نشاندہی کریں۔

$$(2^3)^2 = \underline{\hspace{2cm}}$$

64

Ⓐ

44

Ⓑ

32

Ⓒ

12

Ⓓ

20. The square root of the following is

20. دیئے گئے کا جذر المربع ہے

$$\sqrt{0.81} = \underline{\hspace{2cm}}$$

0.7

Ⓐ

0.9

Ⓑ

1.2

Ⓒ

1.8

Ⓓ

21. The continued ratio of the following is

21. دیئے گئے کا مسلسل تناسب ہے

$$A : B = 1 : 2 \text{ and } B : C = 3 : 4$$

$$A : B : C = 3 : 6 : 8$$

(A)

$$A : B : C = 4 : 6 : 9$$

(B)

$$A : B : C = 5 : 5 : 8$$

(C)

$$A : B : C = 5 : 6 : 7$$

(D)

22. Identify the given speed into metres/second.

22. دی گئی رفتار کی میٹر فی سیکنڈ میں نشاندہی کریں۔

18 kilometres/hour

18 کلومیٹر فی گھنٹہ

3 metres/second

(A)

3 میٹر فی سیکنڈ

5 metres/second

(B)

5 میٹر فی سیکنڈ

7 metres/second

(C)

7 میٹر فی سیکنڈ

8 metres/second

(D)

8 میٹر فی سیکنڈ

23. The weight of 3 boxes is 9 kilograms. The weight of 9 such boxes in kilograms would be

23. 3 ڈبوں کا وزن 9 کلو گرام ہے۔ ایسے 9 ڈبوں کا وزن کلو گرام میں ہوگا

25

Ⓐ

27

Ⓑ

30

Ⓒ

35

Ⓓ

24. If a number increased by 5 is equal to 12, then the number would be

24. اگر ایک عدد کو 5 تک بڑھایا جائے اس طرح کہ وہ 12 کے برابر ہو جائے، تو وہ عدد ہوگا

3

Ⓐ

4

Ⓑ

7

Ⓒ

8

Ⓓ

**25.** If  $M = \{1,2,3,4,5\}$ ,  $N = \{1,3,5,7\}$  and  $P = \{2,4,6,8\}$ , then find  $M \cap (N \cup P)$ . Show steps.

**25.** اگر  $N = \{1, 3, 5, 7\}$ ,  $M = \{1, 2, 3, 4, 5\}$  اور  $P = \{2, 4, 6, 8\}$  تو  $M \cap (N \cup P)$  معلوم کریں۔ مراحل دکھائیں۔

**(04 Marks)**

[illegible]

[illegible]



27. Divide 120 toffees among A, B and C in the following ratios. Show steps.

27. 120 ٹافیاں کو A، B اور C میں دیے گئے تناسب سے تقسیم کریں۔ مراحل دکھائیں۔

(04 Marks)

2 : 3 : 5



---

---

---

---

---

---


---

---

28. A fan is sold for Rs 2,400 including the markup of Rs 400. Find the markup rate. Show steps.

28. ایک پنکھا 400 روپے کے مارک اپ کے ساتھ 2400 میں فروخت کیا گیا۔ مارک اپ کی شرح معلوم کریں۔ مراحل دکھائیں۔

(03 Marks)



---

---

---

---

---

---

---

---

---

---

## Science

29. In a human body, the process of digestion begins in the

29. انسانی جسم میں انہضام کا عمل شروع ہوتا ہے

liver.

(A)

جگر سے۔

mouth.

(B)

منہ سے۔

stomach.

(C)

معدے سے۔

small intestine.

(D)

چھوٹی آنت سے۔

30. Complete the following equation for the process of respiration.

30. دی گئی عمل تنفس کی مساوات کو مکمل کریں۔

\_\_\_\_\_ + glucose → Carbon dioxide + water + energy

oxygen

(A)

آکسیجن

nitrogen

(B)

نائٹروجن

hydrogen

(C)

ہائیڈروجن

carbon dioxide

(D)

کاربن ڈائی آکسائیڈ

31. Which of the following is a blood vessel?

31. دیئے گئے میں سے کون سی خون کی نالی ہے؟

Artery

Ⓐ

شریان

Nerve

Ⓑ

عصب

Joint

Ⓒ

جوڑ

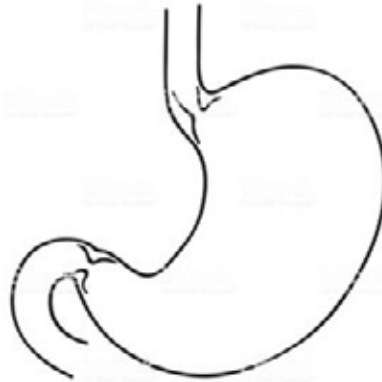
Bone

Ⓓ

ہڈی

32. The given structure is

32. دی گئی ساخت ہے



lung.

Ⓐ

پھیپھڑے کی۔

liver.

Ⓑ

جگر کی۔

heart.

Ⓒ

دل کی۔

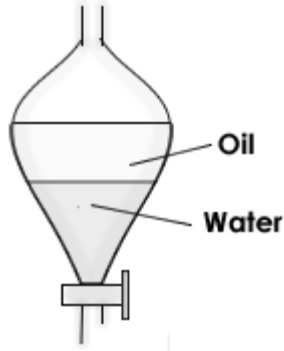
stomach.

Ⓓ

معدے کی۔

33. The apparatus shown below is used to separate two liquids, it is called

33. نیچے دکھایا گیا آلہ استعمال ہوتا ہے علیحدہ کرنے کے لئے دو مائع چیزوں کو، یہ کہلاتا ہے



evaporating flask.

(A)

ایو اپورٹنگ فلاسک۔

separating funnel.

(B)

سیپریٹنگ فنل۔

separating flask.

(C)

سیپریٹنگ فلاسک۔

separating dish.

(D)

سیپریٹنگ ڈش۔

34. The **abiotic** factor from the following is

34. دیئے گئے میں سے غیر حیاتیاتی جزو ہے

plants.

(A)

پودے۔

animals.

(B)

جانور۔

bacteria.

(C)

بیکٹیریا۔

sunlight.

(D)

سورج کی روشنی۔

35. Identify the chemical change from the following.

35. مندرجہ ذیل میں سے کیمیائی تبدیلی کی شناخت کریں۔

Cutting of wood

(A)

لکڑی کو کاٹنا

Breaking of an egg

(B)

انڈے کو توڑنا

Burning of paper

(C)

کاغذ کو جلانا

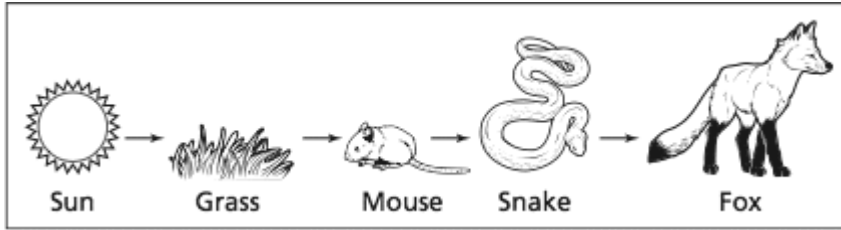
Crushing of can

(D)

کین کو کچلنا

36. The herbivore in the following food chain is

36. دی گئی غذائی زنجیر میں ہر بیوور ہے



fox.

(A)

لومڑ۔

sun.

(B)

سورج۔

grass.

(C)

گھاس۔

mouse.

(D)

چوہا۔

37. The mineral element that is required for making strong roots in plants is

37. وہ معدنیاتی عنصر جو پودے کی جڑیں مضبوط کرنے کے لیے ضروری ہوتا ہے وہ ہے

nitrogen.

(A)

نائیٹروجن۔

potassium.

(B)

پوٹاشیم۔

phosphorus.

(C)

فاسفورس۔

magnesium.

(D)

میگنیشیم۔

38. The upper skin of the leaf is transparent to let pass

38. پتے کی اوپری سطح شفاف ہوتی ہے تاکہ اس میں سے گزر سکے

air.

(A)

ہوا۔

heat.

(B)

حرارت۔

light.

(C)

روشنی۔

water.

(D)

پانی۔

39. Answer the following questions.

39. دیئے گئے سوالات کے جوابات دیں۔

(03 Marks)

a) Explain the term “cross pollination”.

دکرا اس پالینیشن کی وضاحت کریں۔

---

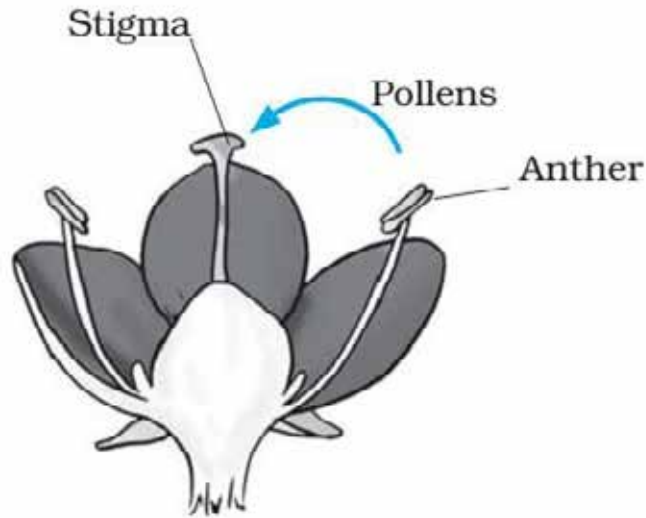
---

---

---

b) Identify the type of pollination in the given diagram.

دکھائی گئی ڈائی گرام میں پالینیشن کی قسم کی شناخت کریں۔



---



40. Draw structure of a common flower.

40. عام پھول کی تصویر بنائیں۔

(01 Mark)

41. Write the function of the following blood vessels.

41. دی گئی خون کی نالیوں کے عمل لکھیں۔

(03 Marks)

Blood vessels خون کی نالیاں	Functions عمل
Artery شریان	
Vein نَس	
Capillary کیپلری	

42. Write **any two** factors contributing to water pollution.

42. آبی آلودگی میں اعانت کرنے والے کوئی دو عناصر لکھیں۔

(02 Marks)

a) \_\_\_\_\_

b) \_\_\_\_\_

43. Give **any one** difference between the environment and the ecosystem.

43. ماحول اور ماحولیاتی نظام کا کوئی فرق لکھیں۔

(02 Marks)

Environment ماحول	Ecosystem ماحولیاتی نظام

44. Complete the table given below to show the distribution of electrons in shells.

44. الیکٹران کی شیل میں تقسیم دکھاتے ہوئے دیئے گئے جدول کو مکمل کریں۔

(04 Marks)

Element عنصر	Number of electron الیکٹران کی تعداد	First shell پہلا شیل	Second shell دوسرا شیل
Hydrogen ہائیڈروجن	1		
Helium ہیلیم	2		
Lithium لیتھیم	3		
Beryllium بیریلیئم	4		

## English

45. Replace nouns in the following sentence with the appropriate pronoun.

Zeeshan and Amjad are going on a picnic.

- |      |   |
|------|---|
| He   | Ⓐ |
| We   | Ⓑ |
| Us   | Ⓒ |
| They | Ⓓ |

46. Choose the appropriate object pronoun for the given sentence.

*The kids were so noisy. I asked \_\_\_\_\_ to stay quiet.*

- |       |   |
|-------|---|
| their | Ⓐ |
| them  | Ⓑ |
| these | Ⓒ |
| they  | Ⓓ |

47. Which of the following is the synonym of “honest”?

partial (A)

unfair (B)

sincere (C)

corrupt (D)

48. Identify the correct spelling from the following.

Tartoure (A)

Torture (B)

Tertoure (C)

Tortuar (D)

49. Read the given sentence and choose the conjunction.

*He went to bed because he was tired.*

bed (A)

went (B)

tired (C)

because (D)

50. Read the given sentence and choose the appropriate simile.

*Sara's hair is as black as*

paper

Ⓐ

cloth

Ⓑ

coal

Ⓒ

pen

Ⓓ

51. Identify the Adverb in the following sentence.

*After winning the match, team shouted loudly.*

the

Ⓐ

after

Ⓑ

loudly

Ⓒ

shouted

Ⓓ

52. The opposite of the word “strong” is

weak.

Ⓐ

smart.

Ⓑ

tough.

Ⓒ

healthy.

Ⓓ

53. Select the correct article for the following sentence.

*My father is \_\_\_\_\_ honest man.*

a

Ⓐ

an

Ⓑ

is

Ⓒ

the

Ⓓ

54. Read the sentence and find the meaning from the given options.

*Something that costs a lot of money is considered*

cheap.

Ⓐ

healthy.

Ⓑ

expensive.

Ⓒ

economical.

Ⓓ



**55.** Read the following paragraph and answer the given questions. **(04 Marks)**

### **A POLLUTED WORLD**

The environment has been polluted in many different ways. The three major ways are water, land and air pollution. Water pollution is the uncleanness of lakes, caused by human activities. It can be harmful to organisms and plants which live in the water. These chemical substances can be toxic. The polluted water can cause cholera and typhoid fever. Water pollution has led to the deaths of more than 14,000 people daily. Land pollution is often caused by human activities such as careless disposal of wastes, and wrong use of land for planting. All these will affect our health in the long run. They will lead to all kinds of diseases such as cancer, heart disease and breathing problems. Air pollution is also the result of human activity where chemicals and other dangerous materials are released into the air. This happens through the release of carbon monoxide gas from exhaust pipes of motor vehicles. Other gases such as Sulphur oxides are released from the burning of coal and oil. High air pollution levels can cause damage to the environment. It also brings discomfort to humans and other living organisms.

Answer each question in full sentence.

1) What are three major ways of pollution?

---

2) Which gas is released from the burning of coal and oil?

---

3) Which diseases are caused due to polluted water?

---

4) Why it is important to keep our environment clean?

---

**56.** Complete the following sentences using simple future tense. **(02 Marks)**

a) If I get good marks, \_\_\_\_\_

b) If it rains today, \_\_\_\_\_

**57. Write an application to your Principal and ask him/her to arrange a book fair in your school. (03 Marks)**

[illegible]

**58.** Write an essay of 100 words on “Importance of unity”.

**(03 Marks)**

[illegible]

**59.** Use following words in your own sentences.

**(03 Marks)**

a) Huge:\_\_\_\_\_

b) Wonderful:\_\_\_\_\_

c) Unforgettable :\_\_\_\_\_