



SEF Assisted Schools (SAS)

**Existing School
Support Program (ESSP)**

**SEF Middle and High School
Program (SMHSP)**
Assessment Feb - Mar 2019



**Sindh Education Foundation
Government of Sindh**

Assessment Unit

Subject	Marks	Time
Social Studies	25	45 Minutes
Mathematics	25	45 Minutes
Science	25	45 Minutes
English	25	45 Minutes
Total	100	180 Minutes

INSTRUCTIONS FOR THE STUDENT

شاگرد جي لاءِ هدايتون

Objective Part

معروضي حصو

<ul style="list-style-type: none"> The assessment paper is divided into four parts/subjects. Each part/subject contains objective part and subjective part. 	<ul style="list-style-type: none"> پيپر کي چئن حصن/مضمونن ۾ ورهايو ويو آهي. هر هڪ حصو/مضمون معروضي ۽ موضوعي حصي تي مشتمل آهي.
<ul style="list-style-type: none"> All questions are compulsory. 	<ul style="list-style-type: none"> سڀ سوال لازمي آهن.
<ul style="list-style-type: none"> Each MCQ carry 1 mark. 	<ul style="list-style-type: none"> سڀئي سوالن تي هڪ جيتريون مارڪون رکيل آهن.
<ul style="list-style-type: none"> Fill only one circle for each question. If more than one circle is filled in for a single question, the answer for that question will be declared invalid. 	<ul style="list-style-type: none"> هر هڪ سوال جي جواب لاءِ فقط هڪ گولڙي کي ڀريو. جيڪڏهن هڪ سوال جي جواب لاءِ هڪ کان وڌيڪ گولڙن کي ڀريو ويو ته ان جواب کي غلط تصور ڪيو ويندو.
<ul style="list-style-type: none"> If you need to change an answer, first erase the originally filled circle thoroughly, and then fill the circle against alternative option. 	<ul style="list-style-type: none"> جيڪڏهن توهان ڪنهن به سوال جي ڏنل جواب کي تبديل ڪرڻ چاهيو ته پهريان کان ڀريل گولڙي کي چڱيءَ طرح ڊاهيو ۽ پوءِ ٻئي گولڙي کي ڀريو.
<ul style="list-style-type: none"> Fill correct option according to the following example. 	<ul style="list-style-type: none"> جواب کي هيٺ ڏنل مثال مطابق چڱيءَ ريت ڀريو.
<p style="text-align: center;"> <input type="radio"/> A <input checked="" type="radio"/> B <input type="radio"/> C <input type="radio"/> D </p>	
<ul style="list-style-type: none"> Pencil should be used to fill the answers. 	<ul style="list-style-type: none"> جوابن واري گولڙي کي پيرڻ لاءِ پينسل جو استعمال ڪريو.
<ul style="list-style-type: none"> Finish each part in the given time as mentioned in the paper. 	<ul style="list-style-type: none"> پيپر ۾ ڏنل هر هڪ حصي کي ڏنل وقت مطابق حل ڪريو.
<ul style="list-style-type: none"> Use the given blank page for mathematics rough work. 	<ul style="list-style-type: none"> رياضيءَ جو رڻ ڪم ڪرڻ لاءِ ڏنل خالي صفحو استعمال ڪريو.

INSTRUCTIONS FOR THE STUDENT

شاگرد جي لاءِ هدايتون

Subjective Part

موضوعي حصو

▪ All questions are compulsory.	▪ سڀ سوال لازمي آهن.
▪ Marks of each question in subjective paper are given at the end of the question.	▪ موضوعي حصي ۾ هر هڪ سوال جي آخر ۾ ان جون مارڪون ڏنل آهن.
▪ Pencil should be used to write the answers.	▪ جواب لکڻ لاءِ پينسل جو استعمال ڪريو.
▪ Avoid over writing or untidy work.	▪ ٻڻي لکڻي ۽ ڊاهه ڊوهه واري ڪم کان پاسو ڪريو.
▪ Use the given blank page for mathematics rough work.	▪ رياضيءَ جو رڻ ڪم ڪرڻ لاءِ ڏنل خالي صفحو استعمال ڪريو.

MCQ Practice

1. Name of our country is

1. اسانجي ملڪ جونالو آهي

Kenya.

Ⓐ

ڪينيا.

Pakistan.

Ⓑ

پاڪستان.

Indonesia.

Ⓒ

انڊونيشيا.

Malaysia.

Ⓓ

ملائيشيا.

2. Add.

2. جوڙ ڪريو.

$$2 + 2 = \underline{\hspace{2cm}}.$$

2

Ⓐ

4

Ⓑ

6

Ⓒ

8

Ⓓ

Social Studies

1. The rights of citizens, irrespective of their caste, creed or religion are guaranteed by the
1. بنا ڪنهن ذات پات، رنگ نسل ۽ مذهب جي فرق جي تمام شهرين جا حق محفوظ ڪري ٿو/تي
- culture. (A) ثقافت.
- customs. (B) روايت.
- constitution. (C) آئين.
- moral values. (D) اخلاقي قدر.
2. The civil rights are mainly associated with the
2. شهري حق ٽلهي ليکي ٻڌل آهن
- liberty and life of people. (A) انسانن جي زندگي ۽ آزاديءَ سان.
- acquisition of property. (B) جائداد حاصل ڪرڻ سان.
- rights of the animals. (C) جانورن جي حقن سان.
- trade union rights. (D) ڪاروباري/مزدور يونين جي حقن سان.

3. According to the constitution of Pakistan, all children between the age of 5 to 16 are guaranteed free education under the article

3. پاڪستان جي آئين مطابق 5 کان 16 سالن جي سڀني ٻارن جو حق آهي ته هومفت تعليم حاصل ڪن. ان عمل جي ضمانت جنهن آرٽيڪل هيٺ ڏنل آهي، اهو آهي

25-A.

Ⓐ

24-B.

Ⓑ

23-A.

Ⓒ

22-B.

Ⓓ

4. A civil society organization works for the betterment of local communities based on

4. هڪ سماج سڌارڪ تنظيم، سماجي ڀلائي جا ڪم ڪندي آهي

government model.

Ⓐ

گورنمينٽ جي ماڊل تحت.

non-profit model.

Ⓑ

غير منافع بخش ماڊل تحت.

corporate model.

Ⓒ

صنعتي ماڊل تحت.

profit model.

Ⓓ

منافع بخش ماڊل تحت.

5. If you are willingly cleaning the streets of your village/city without being paid for your services, it is called
5. جيڪڏهن توهان بنا ڪنهن معاوضي پنهنجي مرضيءَ سان پنهنجي ڳوٺ/شهر جون گهٽيون صاف ڪري رهيا آهيو ته، ان کي چئبو

- slavery. (A) غلامي.
- volunteerism. (B) رضاڪارانه طور.
- contractual job. (C) مخصوص مدي واري نوڪري.
- government job. (D) گورنمينٽ جي نوڪري.

6. The rainforests in Asia are found in the South and South-East Asia.
6. ايشيا ۾ برساتي ٻيلا ڏکڻ ۽ ڏکڻ اوڀر ايشيا ۾ ملن ٿا.

The reason, they are grown near to equator is that, this area receives more sunshine and

ان ٻيلن جو خط استوا جي ويجهو ٿيڻ جو سبب اهو آهي ته ان علائقي تي وڌيڪ پوي ٿي سج جي روشني ۽

- rain. (A) مينهن.
- heat. (B) گرمي.
- dry air. (C) خشڪ هوا.
- sea water. (D) سمنڊ جو پاڻي.

7. Gobi, Arabian and Thar are three major deserts of Asia which have similar

7. گوبي، عربي ۽ ترايشيا جا وڏي ۾ وڏا بيابان آهن، جن ۾ هڪجهڙائي آهي

distance from equator.

Ⓐ

خط استوا کان فاصلو.

rainfall patterns.

Ⓑ

مينهن وسڻ جو موسم.

wind direction.

Ⓒ

هوا جو رخ.

animals.

Ⓓ

جانور.

8. The term ‘intercultural understanding’ refers to

8. ”بين الثقافتي سمجهه“ مان مراد آهي

respect for all cultures.

Ⓐ

تمام ثقافتن لاءِ احترام.

uniformity in culture.

Ⓑ

ثقافت جي هڪجهڙائي.

clashes of cultures.

Ⓒ

ثقافتن وچ ۾ تڪرار.

one global culture.

Ⓓ

هڪ عالمي ثقافت.

9. The Arabian countries have started desalinization to obtain fresh water from
9. عرب ملڪَ لوڻياڻ گهٽائيندڙ ٻوٽن جو استعمال ڪري جنهن ذريعي مان پاڻي حاصل ڪن ٿا اهو آهي

sea.	Ⓐ	سمندر.
lake.	Ⓑ	ڍنڍ.
river.	Ⓒ	درياءَ.
glacier.	Ⓓ	گليشئر.

10. The process of moving the particles of rocks and silt by the water, wind and ice is called
10. اهو عمل جيڪو مٽيءَ جي ذرن کي پاڻي، هوا يا برف ذريعي هڪ هنڌ کان ٻئي هنڌ پهچائي، ان کي چئبو آهي

erosion.	Ⓐ	کاڌ.
deposition.	Ⓑ	لٽ.
weathering.	Ⓒ	موسمي اثر.
transportation.	Ⓓ	باربرداري.

11. 500 BCE to 500 CE was the time of good administration in India. Describe the administrative characteristics of the Mauryan rulers of this era.

11. 500 قبل مسيح کان 500 ع تائين جو وقت
 هندوستان ۾ بهترين حڪمراني جو دور تصور ڪيو
 ويندو آهي. موريائي حڪمرانن جي حڪمراني جي
 طرز کي بيان ڪريو.

(Marks 03)

[illegible]

12. The Islamic world was much advanced than the Western world in the Medieval Ages. Discuss the influence of Islamic civilization on the West in following areas.

12. وچئين دور ۾ اسلامي دنيا الهندي يورپ کان تمام گهڻي ترقي يافته هئي. هيٺ ڏنل ميدانن ۾ الهندي دنيا جي تهذيب تي اسلامي تهذيب جي اثرن کي بيان ڪريو.

(Marks 03)

- Knowledge

علم

- Medicine

طب

- Culture

ثقافت

13. Every country of the world has a unique constitution. Some are written and some are un-written. In your opinion what are the weaknesses of written constitution.

13. هن دنيا جي هر ملڪ وٽ هڪ منفرد آئين موجود آهي. ڪجهه آئين لکت ۾ آهن ته ڪجهه اڻ لکيل. توهان جي نظر ۾ لکت ۾ موجود آئين جون ڪهڙيون خاميون آهن.

(Marks 03)

[illegible]

14. انساني حقن جي لتاڙ تي حڪومت، تنظيمين ۽ انساني حقن لاءِ جاڪوڙيندڙ ادارن ۾ اطلاع ڏيڻ گهرجي. توهان کي ڪنهن اداري ۾ انساني حقن جي پيچڪڙي جي شڪايت داخل ڪرائڻ لاءِ ڪهڙي دستاويزي معلومات هجڻ لازمي آهي؟

[illegible]

15. Read about the life-style of two coastal regions of Asia below, and write similarities between these areas.

15. ايشيا جي ٻن سامونڊي پٽيءَ وارن علائقن جي رهڻي
ڪهڻيءَ بابت ڏنل معلومات کي پڙهو. ٻنهي علائقن
وچ ۾ موجود هڪجهڙايون لکو.

(Marks 03)

<p>THE COAST OF BANGLADESH Due to Geography it faces cyclones affected by the climate change. The climate change has led to ultimately rainfall, hotter summers and irregular monsoons. The flash floods cause damage to crops resulting in financial crisis for farmers and people living in coastal areas.</p>	<p>بنگلاديش جي ساحلي پٽي. پنهنجي جاگرافيءَ جي ڪري ۽ موسمي تبديليءَ جي ڪري پيدا ٿيندڙ سامونڊي طوفانن کي منهن ڏيندو رهي ٿو. موسمي تبديلي، اڻ منڊائتي مينهن، گرم اونهارن ۽ بي قاعددي چوماسن جو نتيجو آهي. اوچتو ڏوڪي ايندڙ ٻوڏون پوک کي تباهه ڪندي آبادگارن ۽ ساحلي پٽين تي رهندڙ ماڻهن کي مالي نقصان رسائين ٿيون.</p>
<p>THE COAST OF JAPAN It has cities with skyscrapers, subways, underground plazas etc. However, there is another side of Japan having in villages which are not completely rural. The villages near urban settlements provide opportunities to industrial workers. Problems like environmental pollution, constant menace, earthquakes and floods are also faced by Japan.</p>	<p>جاپان جي ساحلي پٽي ان ۾ آپ ڪيچيندڙ عمارتن، آبي رستن ۽ زمين هيٺ پلازائن وغيره سان سينگاريل شهر آهن. تنهن هوندي به، جاپان جو هڪ ٻيو پاسو آهي ڳوٺ آهن، جيڪي پوريءَ طرح ٻهراڙي ناهن، هڪڙا شهري آبادين جي ويجهو موجود آهن، جيڪي گراهڪن ۽ صنعتي پورهيتن کي خدمتون آڇيندا آهن. جاپان ماحولي گدلاڻ، لڳاتار آفتن جي خطري، زلزلن ۽ ٻوڏن جهڙن مسئلن ۾ گهيريل آهي.</p>

1. _____

2. _____

3. _____

“Rough Work”

“Rough Work”

Mathematics

16. جيڪڏهن $A = \{1,2,3\}$ ۽ $B = \{2,3,5\}$ ته $A - B =$ ٿيڻ ٿو.

$$A - B = \underline{\hspace{2cm}} .$$

- (A) $\{ \}$
- (B) $\{1\}$
- (C) $\{2\}$
- (D) $\{5\}$
17. هيٺ ڏنل علامتي سيٽ جي جدول جي طريقي ۾ سڃاڻپ ڪريو.
17. Identify the tabular form of the following set which is given in set-builder form.

$$A = \{x/x \in N \wedge 3 \leq x \leq 6\}$$

- (A) $\{4, 5\}$
- (B) $\{3, 4, 5\}$
- (C) $\{3, 4, 5, 6\}$
- (D) $\{3, 4, 5, 6, \dots\}$

18. $\frac{1}{2}$ is a/an

18. $\frac{1}{2}$ آهي هڪ

odd number.

Ⓐ

اڪي عدد.

even number.

Ⓑ

ٻڌي عدد.

natural number.

Ⓒ

قدرتي عدد.

rational number.

Ⓓ

ناطق عدد.

19. The additive inverse of $\frac{3}{4}$ is

19. $\frac{3}{4}$ جو جمعي ابتڙ آهي

$$-\frac{2}{3}$$

Ⓐ

$$-\frac{3}{4}$$

Ⓑ

$$-\frac{4}{3}$$

Ⓒ

$$-\frac{4}{5}$$

Ⓓ

20. Identify the following rational number as decimal.

20. هيٺ ڏنل ناطق عدد جي ڏهائي اڻپور ۾ سڃاڻپ ڪريو.

$$\frac{2}{5}$$

0.1

(A)

0.3

(B)

0.4

(C)

0.7

(D)

21. Identify the answer of the following exponent.

21. هيٺ ڏنل سگهه نما/قوت نما جي جواب جي سڃاڻپ ڪريو.

$$2^3 = \underline{\hspace{2cm}}.$$

1

(A)

5

(B)

6

(C)

8

(D)

22. A shoe store uses 40% profit rate on the cost price. The cost of a pair of shoes that is sold for Rs 420 would be

22. هڪ جوتن واري دڪان تي خريدي قيمت تي 40% منافع ورتو وڃي ٿو. 420 روپين ۾ وڪرو ٿيل جوتن جي جوڙي جي قيمت ٿيندي



Rs 280

Ⓐ

Rs 300

Ⓑ

Rs 340

Ⓒ

Rs 400

Ⓓ

23. The square root of the following decimal number would be

23. هيٺ ڏنل ڏهاڙي عدد جو ٻيو مول ٿيندو

$$\sqrt{1.44} = \underline{\hspace{2cm}}.$$

0.9

Ⓐ

1.2

Ⓑ

1.4

Ⓒ

1.9

Ⓓ

24. Identify the product of the following factors.

24. هيٺ ڏنل جزن جي ضرب جي سڃاڻپ ڪريو.

$$(x - y)(x + y) = \underline{\hspace{2cm}}.$$

$$x^2 - y^2$$

Ⓐ

$$x^2 + y^2$$

Ⓑ

$$x^2 - 2xy + y^2$$

Ⓒ

$$x^2 - 2xy - y^2$$

Ⓓ

25. The sum of two consecutive numbers is 5. The numbers would be

25. ٻن لاڳيتن عددين جو جوڙو آهي 5. اهي عدد آهن

2 and 3

Ⓐ

3 ۽ 2

3 and 4

Ⓑ

4 ۽ 3

4 and 5

Ⓒ

5 ۽ 4

5 and 6

Ⓓ

6 ۽ 5

“Rough Work”

26. If $U = \{1,2,3,4,5\}$ and
 $S = \{1,3,5\}$. Verify the following.
Show steps.

26. جيڪڏهن $U = \{1,2,3,4,5\}$ ۽
 $S = \{1,3,5\}$ ته هيٺ ڏنل جي تصديق ڪريو.
مرحلا ڏيکارو.

(Marks 04)

$$S \cap S' = \emptyset$$

27. The price of 2 kilogram mangoes is Rs 250. Find the price of 5 kilogram mangoes. Show steps.

27. 2 ڪلوگرام انبن جي قيمت 250 روپيا آهي.
5 ڪلوگرام انبن جي قيمت معلوم ڪريو. مرحلا
ڏيکارو.

(Marks 04)



28. If Rs 36,000 is paid as a tax on a property at the rate of 5%, then find the worth of the property. Show steps.

28. جيڪڏهن هڪ جائداد جي قيمت جو 5% جي حساب سان 36000 روپيا ٽيڪس ادا ڪئي وئي آهي، ته ان جائداد جي ڪل قيمت معلوم ڪريو. مرحلا ڏيکاريو.

(Marks 04)

29. Factorize the following expression
and show steps.

29. هيٺ ڏنل اظهارن جا جزا لهو ۽ مرحلا ڏيکاريو.

(Marks 03)

$$16x^2 + 16xy + 4y^2$$

Science

30. Gastric juice in stomach contains معدي ۾ موجود گيسٽرڪ جوس مشتمل هوندو آهي

- | | | |
|--------------------|---|----------------------|
| Hydrochloric acid. | Ⓐ | هائڊروڪلورڪ ائسڊ تي. |
| Sulphuric acid. | Ⓑ | سلفيورڪ ائسڊ. |
| Acetic acid. | Ⓒ | ايسٽڪ ائسڊ. |
| Nitric acid. | Ⓓ | نائٽرڪ ائسڊ. |

31. Complete the order by filling in the missing part. هيٺ ڏنل ترتيب مان گر ٿيل حصي جي سڃاڻپ ڪندي ترتيب مڪمل ڪريو.

Mouth → Oesophagus → _____ → Small intestine
وات ← کاڌي جي نالي ← _____ ← ننڍو آندو.

- | | | |
|---------|---|--------|
| stomach | Ⓐ | معدو |
| larynx | Ⓑ | ليرنڪس |
| pharynx | Ⓒ | فيرنڪس |
| trachea | Ⓓ | ٽريڪيا |

32. The number of chambers present in a human heart are

32. انسان جي دل ۾ موجود خانن جو تعداد آهي

2

(A)

3

(B)

4

(C)

5

(D)

33. In self pollination the number of plants involved is

33. پنهنجو پاڻ ۾ لڳ جي عمل ۾ جيترا ٻوٽا شامل هوندا آهن، انهن جو تعداد آهي

1

(A)

2

(B)

3

(C)

4

(D)

34. Polar bears are inhabitants of one of the following biomes.

34. برفاني رچ هيٺ ڏنل حياتياتي خطن مان هڪ جا رهائشي هوندا آهن. جيڪو آهي

Forest

Ⓐ

ٻيلو.

Desert

Ⓑ

بيابان.

Tundra

Ⓒ

تندرا.

Grassland

Ⓓ

چراگاه.

35. Some animals have the property to change their colour according to their surrounding is called

35. ڪجهه جانورن کي پنهنجي آسپاس جي ماحول مطابق رنگ تبديل ڪرڻ واري خاصيت هوندي آهي. ان کي چئبو آهي

estivation.

Ⓐ

ايسٽيويشن.

migration.

Ⓑ

مائيگريشن.

hibernation.

Ⓒ

هائيبرنيشن.

camouflage.


Ⓓ

ڪيموفلاج.

36. The producer in the following food chain is

36. هيٺ ڏنل کاڌي جي زنجير ۾ پيدا ڪندڙ آهي

Food chain



maize

locust

lizard

snake

maize.

Ⓐ

مڪئي / سنگ.

locust.

Ⓑ

ٽڏ.

lizard.

Ⓒ

ڪرڙي / چڇي.

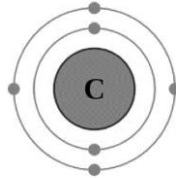
snake.

Ⓓ

نانگ.

37. Find the valence shell electrons in a carbon atom as shown below.

37. هيٺ ڏنل ڪاربان جي ائٽم جي ويلنس شيل ۾ اليڪٽرانن جو تعداد معلوم ڪريو.



2

(A)

3

(B)

4

(C)

6

(D)

38. The degree of hotness and coldness is called

38. گرمي ۽ تڌاڻ جي درجي کي چئبو آهي

mass.

Ⓐ

مايو.

force.

Ⓑ

زور.

pressure.

Ⓒ

دٻاءُ.

temperature.

Ⓓ

گرمي پد.

39. The number of hydrogen atom present in ammonia compound is/are

39. امونيا جي مرڪب ۾ موجود هائيڊروجن جي ائٽمن جو تعداد آهي

1

Ⓐ

2

Ⓑ

3

Ⓒ

4

Ⓓ

40. Explain physical changes in materials with the help of two examples.

40. شين ۾ ٽيندڙ طبعي تبديلي جي وضاحت ڪريو.
ڪي به ٻه مثال ڏيو.

(Marks 04)

41. Write **any four** uses of water in our country. 41. اسان جي ملڪ ۾ پاڻيءَ جا ڪي به چار استعمال لکو.

(Marks 04)

S. No	Uses of Water پاڻيءَ جا استعمال
i)	<hr/> <hr/> <hr/>
ii)	<hr/> <hr/> <hr/>
iii)	<hr/> <hr/> <hr/>
iv)	<hr/> <hr/> <hr/>

42. Name **any three** Abiotic Components.

42. ڪن به ٽن غير حياتياتي عنصرن جا نالا لکيو.

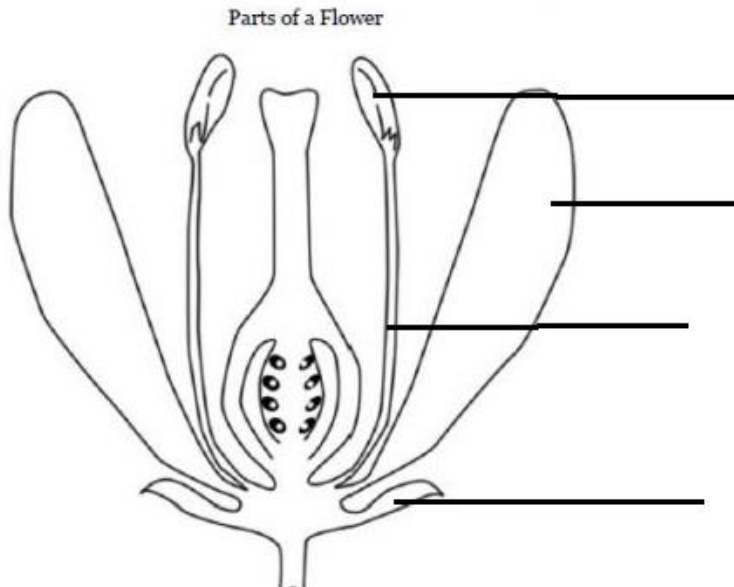
(Marks 03)

i)	
ii)	
iii)	

43. Label the following parts of the plant.

43. هيٺ ڏنل گل جي حصن جا نالا لکيو.

(Marks 04)



English

44. Add the appropriate Possessive Pronoun in the following sentence.

This book belongs to me. This book is _____

my. (A)

hers. (B)

mine. (C)

yours. (D)

45. Identify Reflexive Pronoun in the following sentence.

I made this cake myself.

I (A)

this (B)

made (C)

myself (D)

46. Read the following stanza and identify the meaning of the underlined word.

With heavy sighs I open here
You mourn my hapless woe,
But sure with patience I can bear
A loss I ne'er can know

- | | |
|----------|---|
| relieve | Ⓐ |
| delight | Ⓑ |
| approve | Ⓒ |
| complain | Ⓓ |

47. Which of the following is a correct spelling?

- | | |
|-----------|---|
| gathired | Ⓐ |
| gatherid | Ⓑ |
| gathered | Ⓒ |
| gartheerd | Ⓓ |

48. Add the proper linking word in the following sentence.

I like juice, _____ I don't like cold drink.

if (A)

but (B)

and (C)

because (D)

49. Add suitable adjective in the following sentence.

Junk food is _____ for our health.

harmful (A)

hopeful (B)

peaceful (C)

careful (D)

50. Choose the appropriate countable noun for the given sentence.

I need ____ tea for the guests.

- | | |
|---------------|---|
| a lot of | Ⓐ |
| a glass of | Ⓑ |
| a sack of | Ⓒ |
| three cups of | Ⓓ |

51. The Present Tense of the given word is

Sold

- | | |
|------|---|
| Sale | Ⓐ |
| Sell | Ⓑ |
| Sail | Ⓒ |
| Soul | Ⓓ |

52. Identify the article in the following sentence.

It is an honor to be here.

- be Ⓐ
- an Ⓑ
- is Ⓒ
- it Ⓓ

53. Can and can't show the ability/inability to do something. Choose the appropriate option for the given sentence.

She is very bad at cooking. She _____ cook.

- can Ⓐ
- can't Ⓑ
- could Ⓒ
- would Ⓓ

54. Write any three uncountable nouns.

(Marks 03)

i)

ii)

iii)

55. Complete the following conditional sentences.

(Marks 02)

i) If teacher takes the test today, _____

ii) If my friend comes early, _____

56. Write down **any three** rhyming words for the underlined word in the following sentence.

(Marks 03)

Ali took the cake and went to the school.

i) _____

ii) _____

iii) _____

57. Use following words to make sentences in Present Continuous Tense.

(Marks 02)

i) **Blind:** _____

ii) **Poor:** _____

58. Write a letter to your friend about your recent visit to your friend's village.

(Marks 05)