



# Promoting Private Schooling in Rural Sindh (PPRS)

Assessment Feb - Mar 2019



Sindh Education Foundation  
Government of Sindh

Assessment Unit

Subject	Marks	Time
Sindhi	25	40 Minutes
Mathematics	25	50 Minutes
Science	25	45 Minutes
English	25	45 Minutes
<b>Total</b>	<b>100</b>	<b>180 Minutes</b>

## INSTRUCTIONS FOR THE STUDENT

شاگرد جي لاءِ هدايتون

## Objective Part

معروضي حصو

<ul style="list-style-type: none"> <li>The assessment paper is divided into four parts/subjects. Each part/subject contains objective part and subjective part.</li> </ul>	<ul style="list-style-type: none"> <li>پيپر کي چئن حصن/مضمونن ۾ ورهايو ويو آهي. هر هڪ حصو/مضمون معروضي ۽ موضوعي حصي تي مشتمل آهي.</li> </ul>
<ul style="list-style-type: none"> <li>All questions are compulsory.</li> </ul>	<ul style="list-style-type: none"> <li>سڀ سوال لازمي آهن.</li> </ul>
<ul style="list-style-type: none"> <li>Each MCQ carry 1 mark.</li> </ul>	<ul style="list-style-type: none"> <li>سڀئي سوالن تي هڪ جيتريون مارڪون رکيل آهن.</li> </ul>
<ul style="list-style-type: none"> <li>Fill only one circle for each question. If more than one circle is filled in for a single question, the answer for that question will be declared invalid.</li> </ul>	<ul style="list-style-type: none"> <li>هر هڪ سوال جي جواب لاءِ فقط هڪ گولڙي کي ڀريو. جيڪڏهن هڪ سوال جي جواب لاءِ هڪ کان وڌيڪ گولڙن کي ڀريو ويو ته ان جواب کي غلط تصور ڪيو ويندو.</li> </ul>
<ul style="list-style-type: none"> <li>If you need to change an answer, first erase the originally filled circle thoroughly, and then fill the circle against alternative option.</li> </ul>	<ul style="list-style-type: none"> <li>جيڪڏهن توهان ڪنهن به سوال جي ڏنل جواب کي تبديل ڪرڻ چاهيو ته پهريان کان پريل گولڙي کي چڱيءَ طرح ڊاهيو ۽ پوءِ ٻئي گولڙي کي ڀريو.</li> </ul>
<ul style="list-style-type: none"> <li>Fill correct option according to the following example.</li> </ul>	<ul style="list-style-type: none"> <li>جواب کي هيٺ ڏنل مثال مطابق چڱيءَ ريت ڀريو.</li> </ul>
<div style="text-align: center;"> <p>(A)</p> <p>(B)</p> <p>(C)</p> <p>(D)</p> </div>	
<ul style="list-style-type: none"> <li>Pencil should be used to fill the answers.</li> </ul>	<ul style="list-style-type: none"> <li>جوابن واري گولڙي کي پرن لاءِ پينسل جو استعمال ڪريو.</li> </ul>
<ul style="list-style-type: none"> <li>Finish each part in the given time as mentioned in the paper.</li> </ul>	<ul style="list-style-type: none"> <li>پيپر ۾ ڏنل هر هڪ حصي کي ڏنل وقت مطابق حل ڪريو.</li> </ul>
<ul style="list-style-type: none"> <li>Use the given blank page for mathematics rough work.</li> </ul>	<ul style="list-style-type: none"> <li>رياضيءَ جو رڳو ڪم ڪرڻ لاءِ ڏنل خالي صفحو استعمال ڪريو.</li> </ul>

## INSTRUCTIONS FOR THE STUDENT

شاگرد جي لاءِ هدايتون

### Subjective Part

موضوعي حصو

▪ All questions are compulsory.	▪ سڀ سوال لازمي آهن.
▪ Marks of each question in subjective paper are given at the end of the question.	▪ موضوعي حصي ۾ هر هڪ سوال جي آخر ۾ ان جون مارڪون ڏنل آهن.
▪ Pencil should be used to write the answers.	▪ جواب لکڻ لاءِ پينسل جو استعمال ڪريو.
▪ Avoid over writing or untidy work.	▪ ٻڻي لکڻي ۽ ڊاهه ڊوهه واري ڪم کان پاسو ڪريو.
▪ Use the given blank page for mathematics rough work.	▪ رياضيءَ جو رڻ ڪم ڪرڻ لاءِ ڏنل خالي صفحو استعمال ڪريو.

### MCQ Practice

1. Name of our country is

1. اسانجي ملڪ جونالو آهي

Kenya.

Ⓐ

ڪينيا.

Pakistan.

Ⓑ

پاڪستان.

Malaysia.

Ⓒ

ملائيشيا.

Indonesia.

Ⓓ

انڊونيشيا.

2. Add.

2. جوڙ ڪريو.

$$2 + 2 = \underline{\hspace{2cm}}.$$

4

Ⓐ

5

Ⓑ

6

Ⓒ

7

Ⓓ

## سنڌي

1. هيٺ ڏنل لفظ جي معنيٰ ڪهڙي آهي؟

### جُهريل

- ڪمزور ٿيل (A)
- طاقتور (B)
- امير (C)
- ڊڄڻو (D)

2. هيٺ ڏنل جملن مان ڪهڙو جملو درست آهي؟

- فيروز اچي ٿو ۽ انيلا لکي ٿي. (A)
- فيروز اچي ٿي ۽ انيلا لکي ٿو. (B)
- اچي ٿو فيروز ۽ لکي ٿي انيلا. (C)
- ٿو اچي فيروز ۽ ٿي لکي انيلا. (D)

3. هيٺ ڏنل اصطلاح جي معنيٰ ڪهڙي ٿيندي؟

**ڳجهه سلڻ**

- Ⓐ اُبو جهن کي مُنجهائڻ
- Ⓑ راز پترو ڪرڻ
- Ⓒ راند کيڏڻ
- Ⓓ فساد جاڳائڻ

4. هارويستر مشين جو ڪهڙو ڪم آهي؟

- Ⓐ پوکائي ڪرڻ
- Ⓑ ڇنائڻ ڪرڻ
- Ⓒ ڪتائي ڪرڻ
- Ⓓ پاڻي ڏيڻ

5. هيٺ ڏنل جملن مان مرڪب جملو ڪهڙو آهي؟

- ① مون ماني کاڌي آهي تون به ڪاءُ.
- ② هو به اسڪول ايندو.
- ③ آسپه نند پئي آهي.
- ④ عمران لکي ٿو.

6. اهڙا ضمير جيڪي فقط ماڻهن جي نالن بدران ڪم اچن تن کي ”ضمير خالص“ چئبو آهي. هيٺ ڏنل جملي ۾ ضمير خالص ڪهڙو آهي؟

اسين حيدرآباد وڃون پيا.

- ① اسين
- ② حيدرآباد
- ③ وڃون
- ④ پيا

7. انڊلٽ ۾ ستَ رنگ ٿين ٿا، جن مان هڪ \_\_\_\_\_ آهي.

- ① گلابي
- ② سائو
- ③ ڪارو
- ④ اڇو



8. اسلامي سربراھ ڪانفرنس جي مکيه مقصدن مان هڪ مقصد هي به هو ته سمورا اسلامي ملڪ گڏجي

- Ⓐ هڪ اسلامي فوج ٺاهين.
- Ⓑ هڪٻئي کي مفت تيل ڏين.
- Ⓒ هڪٻئي کي بغير ويزا جي اچڻ ڏين.
- Ⓓ مسلمانن جي لاڳاپن کي مضبوط ڪن.

9. هيٺ ڏنل جملي ۾ ليک ڏنل لفظ \_\_\_\_\_ کي ظاهر ڪري ٿو.

توهان ۽ اهي سڀاڻي گڏجي راند کيڏندا.

- Ⓐ ضمير حاضر
- Ⓑ ضمير غائب
- Ⓒ ضمير مبهم
- Ⓓ ضمير خالص

10. حضور اڪرم صلي الله عليه وسلم جن جي شان ۾ چيل شعر کي \_\_\_\_\_ چئبو آهي.

- Ⓐ بيت
- Ⓑ نظم
- Ⓒ نعت
- Ⓓ حمد

11. اُمُرُ جي معنيٰ آهي حڪم. اهڙا جملا جن مان خبر پوي ته ڪنهن به ڪم ڪرڻ لاءِ حڪم ڪيو ويو آهي. هيٺ ڏنل جملن مان اوهان امري جملن تي ٽڪ (✓) جو نشان لڳايو. 03 مارڪون

الف. ٻاهر وڃ.

ب. ڪتاب سنو آهي.

ج. در بند ڪر.

د. گلاس ڪٽ.

ه. مان اسڪول وڃان ٿي.

12. هيٺ ڏنل مؤنث کي ان جي مذڪر سان ليڪ (—) وسيلي ملايو. 03 مارڪون

مؤنث	مذڪر
زال	ڀاءُ
پيٽ	ڀيڻ
ماءُ	مڙس

13. نظم پڙهي هيٺ ڏنل لفظن جا هم آواز لفظ لکو. 02 مارڪون

قبر قيام، اندر ڄام، منا ! ماڙ ڪجان ڪا،

اتي گهوت، ڪجان موت، منا مير موچارا

الف. ڄام \_\_\_\_\_

ب. گهوت \_\_\_\_\_

14. هيٺ ڏنل ڪهاڻي پڙهو ۽ ڇڏيل سوالن جا جواب ڏيو. 04 مارڪون

ٻاڻ ڪمائي ۽ آڻ ڪمائي ۾ سنڌو آهي. (سنڌي چوڻي)

هڪڙي نوجوان، ريشمي رومال سان پراڻو ۽ ڦاٿل بوت پئي اُگهيو ته هڪڙي دوست عجب مان پڇيس: ”اُچي رومال جو اهو قدر آهي، جو ان سان ڪنا ۽ ميرا بوت پيا اُگهجن!“

”هيءُ بوت مون محنت مزدوري ڪري، بکون کائي، بچايل پئسن مان ورتو آهي.“ نوجوان بوت اُگهڻ جو سبب پيش ڪيو.

”رومال به ته تنهنجو آهي! ان جو به ته توکي ئي خيال رکڻو آهي! ان سان ڪنا ۽ ميرا بوت اُگهڻ ڪٿان جي عقلمندي آهي!“

”بيشڪ! رومال منهنجو آهي، پر ورتل ته بابي جي ڪمائي مان آهي!“ نوجوان وضاحت ڪندي ٻڌايس.

الف. هڪڙي نوجوان، پراڻي ۽ قاتل بوت کي ڇا سان پئي اُگهيو؟

---

---

ب. نوجوان بوت اُگهڻ جو ڪهڙو سبب پيش ڪيو؟

---

---

ج. هن ڪهاڻيءَ مان اسان کي ڪهڙو سبق ملي ٿو؟

---

---

---

د. هن ڪهاڻيءَ مان ڪي به ٻه اسم چونڊي لکو.

---

03 مارڪون

15. هيٺ ڏنل تصوير کي پنهنجن لفظن ۾ بيان ڪريو.



---

---

---

---

---

## **Rough Work**

## Mathematics

16. Which of the following is not a well-defined set? 16. هيٺ ڏنل سيٽن مان ڪهڙو واضح بيان ڪندڙ سيٽ نه آهي؟

A = {stars in the sky} (A) آسمان ۾ ستارا

B = {natural numbers} (B) قدرتي عدد

C = {students in class 7th} (C) ستين درجي جا شاگرد

D = {collection of objects} (D) شين جو مجموعو

17. Identify the appropriate symbol use to indicate the relation between the following sets. 17. هيٺ ڏنل سيٽن جي وچ ۾ تعلق ظاهر ڪرڻ لاءِ مناسب نشاني جي سڃاڻپ ڪريو.

$\{\triangle, \blacksquare, \square, \odot\}$  \_\_\_\_\_  $\{\triangle, \blacksquare\}$

=

(A)

$\supseteq$

(B)

$\subseteq$

(C)

$\sim$

(D)

18. Identify the factor of 28 from the following.

18. هيٺ ڏنل مان 28 جي جزي جي سڃاڻپ ڪريو.

- |   |   |
|---|---|
| 3 | Ⓐ |
| 5 | Ⓑ |
| 7 | Ⓒ |
| 8 | Ⓓ |

19. If  $2 \times 1 = 1 \times 2 = 2$ , then '1' is called \_\_\_\_\_.

19. جيڪڏهن  $2 \times 1 = 1 \times 2 = 2$  ته پوءِ '1' کي چئبو \_\_\_\_\_.

- |                         |   |                  |
|-------------------------|---|------------------|
| closure                 | Ⓐ | بندش             |
| associative             | Ⓑ | سنگت             |
| additive identity       | Ⓒ | جوڙ جو ذاتي عنصر |
| multiplication identity | Ⓓ | ضرب جو ذاتي عنصر |

20.  $|-2.4| - |1.2| =$  \_\_\_\_\_.

- |      |   |
|------|---|
| -3.6 | Ⓐ |
| -1.2 | Ⓑ |
| 1.2  | Ⓒ |
| 3.6  | Ⓓ |



21. A man divides a 2.6 metres wooden stick into 2 equal parts. The length of each part would be

21. هڪ ماڻهو 2.6 ميٽرن جي ڪاٺي جي ٽڪري کي 2 برابر ٽڪرن ۾ ورهايو. هر هڪ ٽڪري جي ڊيگهه ٿيندي



0.3 metres

Ⓐ

0.3 ميٽر

0.7 metres

Ⓑ

0.7 ميٽر

1.3 metres

Ⓒ

1.3 ميٽر

1.6 metres

Ⓓ

1.6 ميٽر

22. Identify the value of unknown 'y' in the given proportional.

22. هيٺ ڏنل تناسب ۾ نامعلوم 'y' جي ملهه جي سڃاڻپ ڪريو.

$$y : 3 :: 6 : 9$$

1

Ⓐ

2

Ⓑ

5

Ⓒ

7

Ⓓ

23. 15% of 60 = \_\_\_\_\_.

23. 60 جو 15% آهي.

3

Ⓐ

6

Ⓑ

7


Ⓒ

9

Ⓓ

24. A car travels 10 kilometres in 15 minutes. How far will it travel in an hour with the same speed?

24. هڪ ڪار 15 منٽن ۾ 10 ڪلوميٽرن جو مفاصلو طئي ڪري ٿي. ساڳي رفتار سان اها هڪ ڪلاڪ ۾ ڪيترو مفاصلو طئي ڪندي؟



34 kilometres

Ⓐ

34 ڪلوميٽر

38 kilometres

Ⓑ

38 ڪلوميٽر

40 kilometres

Ⓒ

40 ڪلوميٽر

45 kilometres

Ⓓ

45 ڪلوميٽر

25. Identify the value of 'x' in the following equation.

25. هيٺ ڏنل مساوات ۾ 'x' جي ملهه جي سڃاڻپ ڪريو.

$$\frac{x}{2} = 4$$

2

Ⓐ

5

Ⓑ

6

Ⓒ

8

Ⓓ

**26.** Find the LCM of 6, 10 and 30 by prime factorization method. Show steps.

26. 6، 10 ۽ 30 جي ننڍي عام پڇايت مفرد جزن واري طريقي سان لهو. مرحلا ڏيکارو.

**(04 Marks)**

This image shows a blank sheet of white paper with horizontal ruling lines. The lines are evenly spaced and run across the width of the page. There are no margins or other markings on the paper.

27. Simplify the following and show steps.

27. سادي صورت ۾ آڻيو ۽ مرحلا ڏيکاريو.

(04 Marks)

$$(11 \times 44 + 5 \div 7)$$

---

---

---

---

---

---

---

---

---

---

---

---

28. A boy purchased a calculator for Rs 160 and sold it for Rs 200. Find the gain percent. Show steps.

28. هڪ چوڪري هڪ ڪيلڪيوليٽر 160 روپين ۾ خريد ڪيو ۽ 200 روپين ۾ وڪيو. منافعو في سيڪڙي ۾ معلوم ڪريو. مرحلا ڏيکاريو.

(04 Marks)



---

---

---

---

---

---

---

---

---

**29.** If  $x = 3$ ,  $y = 1$  and  $z = 4$ , then evaluate the following and show steps.

29. جيڪڏهن  $x = 3, y = 1$  ۽  $z = 4$  ته هيٺ  
ڏنل اظهارن جو ملهه لھو ۽ مرحلا ڏيکارو.

**(03 Marks)**

$$xy - yz + 2zx$$

[illegible]

## Science

30. Identify the given system in a human body.

30. هيٺ ڏنل انساني سرشتي جي سڃاڻپ ڪريو.



Circulatory

Ⓐ

رت جي دوري جو

Respiratory

Ⓑ

ساهه کڻڻ جو

Digestive

Ⓒ

هاضمي جو

Nervous

Ⓓ

تنني

31. Metals are mostly

31. عام طور تي ڌاتو هوندا آهن

soft.

Ⓐ

نرم.

dull.

Ⓑ

غير چمڪدار.

gas.

Ⓒ

گئسون.

strong.

Ⓓ

مضبوط.



32. Soda water is a /an

32. سوڊا جو پاڻي آهي هڪ

mixture.

(A)

ملاوٽ.

element.

(B)

عنصر.

molecule.

(C)

پرماٽا / ماليڪيول.

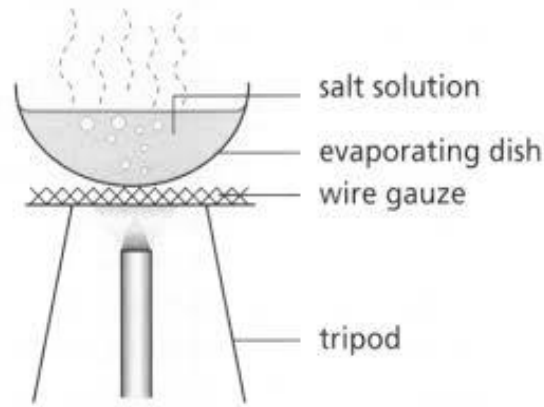
compound.

(D)

مرڪب.

33. The diagram given shows the process of

33. هيٺ ڏنل شڪل عمل ڏيکاري رهي آهي



filtration.

(A)

فلٽريشن جو.

evaporation.

(B)

ايواپوريشن جو.

sublimation.

(C)

سبليميشن جو.

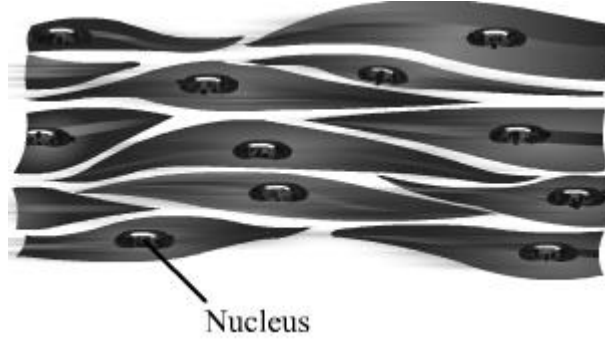
chromatography.

(D)

ڪروميٽوگرافي جو.

34. Following is an example of a tissue called

34. هيٺ ڏنل تصوير ۾ تاندورو مثال آهي



nerves.

(A)

نروس.

muscular.

(B)

مسڪيولر.

connective.

(C)

ڪنيڪٽو.

contractive.

(D)

ڪانٽريڪٽو.

35. From the following the correct chemical formula for water is

35. هيٺ ڏنل مان پاڻي جو صحيح ڪيميائي فارمولو آهي

H<sub>2</sub>O

(A)

O<sub>2</sub>

(B)

2HO

(C)

H<sub>2</sub>O<sub>2</sub>

(D)

36. Identify the parts of a plant that is responsible for the process of photosynthesis.

36. ٻوٽي جي ان حصي جي سڃاڻپ ڪريو جيڪو روشنائي  
ترڪيب / ڦوٽوسينٿيسس لاءِ ذميوار آهي.

Flower

(A)

گل

Leaf

(B)

پن

Root

(C)

پاڙ

Stem

(D)

ٿر

37. When a wet iron nail is left in the open air it will get

37. جڏهن لوھ جو آلو ڪوڪو کليل هوا ۾ رکجي ته

replicated.

(A)

ان جھڙو ٻيو ٺهي ويندو.

radioactive.

(B)

اهو تابڪاري ٿي ويندو.

reduced.

(C)

اهو گهٽ ٿي ويندو.

rusted.

(D)

ان تي ڪٽ لڳي ويندي.

38. Energy that is gained because of the movement of a body is called

38. ڪنهن به جسم جي حرڪت جي ڪري توانائي حاصل  
ٿيندي آهي، ان کي چئبو آهي

Kinetic Energy.

(A)

حرڪي توانائي.

Potential Energy.

(B)

مخفي توانائي.

Chemical Energy.

(C)

ڪيميائي توانائي.

Solar Energy.

(D)

شمسي توانائي.

39. From the following identify the metal.

39. هيٺ ڏنل مان ڌاتوجي سڃاڻپ ڪريو.

Iron

Ⓐ

لوھ

Carbon

Ⓑ

ڪاربان

Oxygen

Ⓒ

آڪسيجن

Hydrogen

Ⓓ

هائيڊروجن

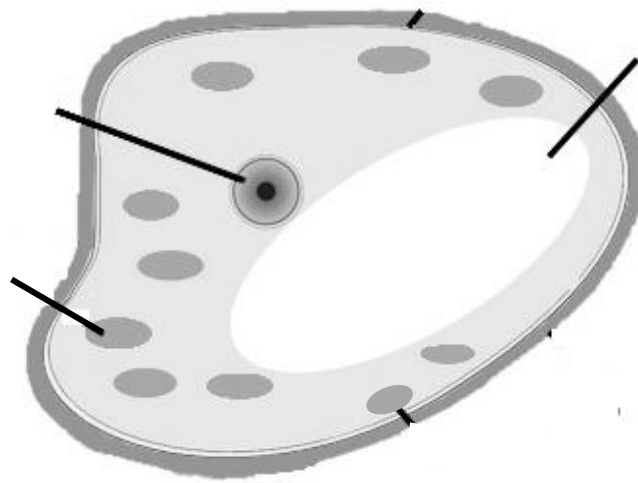
40. Label the plant cell using the following words.

40. هيٺ ڏنل لفظن کي استعمال ڪندي ٻوٽن جي جيوگهرڙي کي ليبل ڪريو.

(03 Marks)

Nucleus, Vacuole, Chloroplast

نيوڪليئس، وڪيول، ڪلوروپلاسٽ



41. Write any one function of the following parts of a plant cell.

41. هيٺ ڏنل ٻوٽن جي جيوگهرڙي جي حصن جا ڪم لکو.

(02 Marks)

Parts of plant cell ٻوٽن جي جيوگهرڙي جا حصا	Function ڪم
Vacuole وڪيول	
Nucleus نيوڪليئس	

42. Define Photosynthesis.

42. روشنائيي تركيب جي وصف لکو.

(01 Mark)

---

---

43. Write the equation for the process of Photosynthesis.

43. روشنائيي تركيب واري عمل جي مساوات لکو.


(01 Mark)

---

---

44. Identify **biotic** components from the following and write in the table given below.

44. هيٺ ڏنل مان حياتياتي عنصرن جي سڃاڻپ ڪريو ۽ ڏنل جدول / ٽيبل ۾ لکو.




Water

پاڻي



Plant

ٻوٽو



Cow

گئون



Soil

مٽي

(02 Marks)

Biotic Components حياتياتي عنصر	
1.	
2.	

45. Name the elements from the chemical symbols given below.

45. هيٺ ڏنل ڪيميائي نشانين جا نالا لکو.

(02 Marks)

Chemical symbol ڪيميائي نشانين	Name نالا
N	
S	

46. Explain Solar energy with the help of one example. هڪ مثال جي مدد سان شمسي توانائي جي وضاحت ڪريو.

(02 Marks)

---

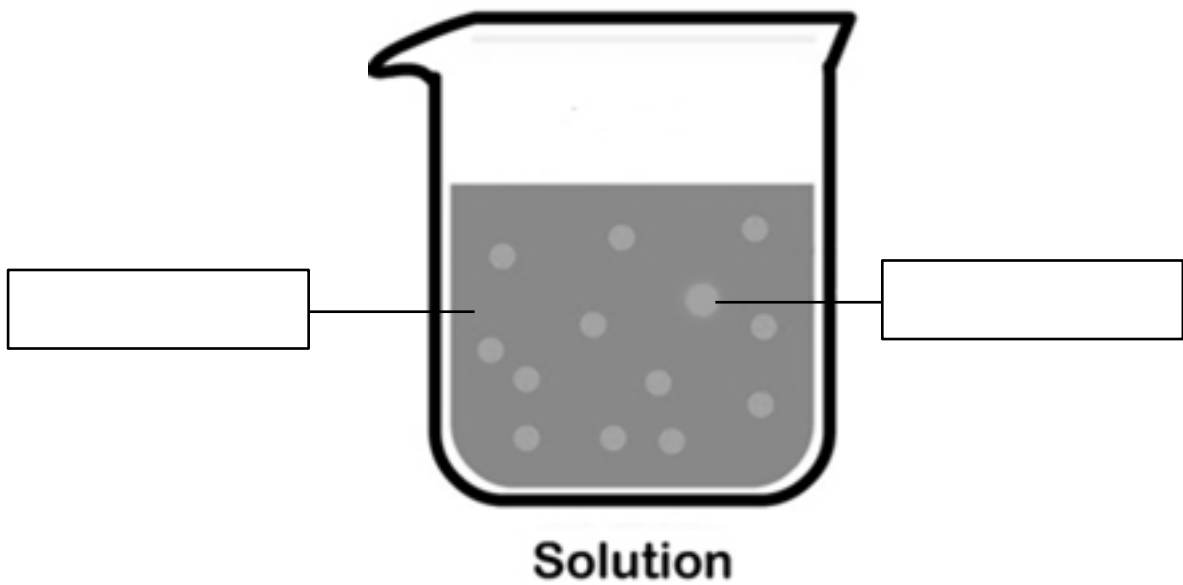
---

---

---

47. Sara made sugar solution by mixing sugar in a glass of water. Identify the solute and solvent in the solution as shown below. سارا پاڻي جي گلاس ۾ ڪنڊ کي ملائيندي ڪنڊ جو ڳار ٺاهيو. هيٺ ڏنل ڳار ۾ ڳرنڊڙ ۽ ڳاريندڙ جي سڃاڻپ ڪريو.

(02 Marks)





## English

48. The “crowd” is a large group of

- |        |   |
|--------|---|
| birds  | Ⓐ |
| cows   | Ⓑ |
| sheep  | Ⓒ |
| people | Ⓓ |

49. Identify the correct spelling from the following.

- |              |   |
|--------------|---|
| collectively | Ⓐ |
| collactively | Ⓑ |
| collectively | Ⓒ |
| collictively | Ⓓ |

50. Complete the following sentence with the help of Present Tense Verb.

Aqeel \_\_\_\_\_ an old lady outside of the school.

- |       |   |
|-------|---|
| met   | Ⓐ |
| mat   | Ⓑ |
| meat  | Ⓒ |
| meets | Ⓓ |

**51.** Choose the appropriate Prefix for the following word.

Polite

- |     |     |
|-----|-----|
| In  | (A) |
| Im  | (B) |
| Un  | (C) |
| Dis | (D) |

**52.** Choose the conjunction from the following.

- on (A)
- at (B)
- it (C)
- but (D)

**53.** Identify the proper noun in the given sentence.

*The boy who secured first position is Furqan.*

- |          |     |
|----------|-----|
| Boy      | (A) |
| First    | (B) |
| Furqan   | (C) |
| Position | (D) |

54. The synonym of “Grown Up” is

- |        |   |
|--------|---|
| fatal  | Ⓐ |
| thrill | Ⓑ |
| adult  | Ⓒ |
| big    | Ⓓ |

55. Choose the appropriate Preposition for the following sentence.

*I have been using this laptop\_\_\_\_\_ 24th October.*

- |       |   |
|-------|---|
| to    | Ⓐ |
| for   | Ⓑ |
| since | Ⓒ |
| from  | Ⓓ |

56. Choose the sentence having correct preposition.

- |                                 |   |
|---------------------------------|---|
| She was hiding under the table. | Ⓐ |
| She was hiding in the table.    | Ⓑ |
| She was hiding on the table.    | Ⓒ |
| She was hiding up the table.    | Ⓓ |

**57.** The underlined word in the given sentence is

She thought that they might not come.

- Past Tense (A)
- Present Tense (B)
- Future Tense (C)
- Future Simple Tense (D)

**58.** Read the following paragraph and answer the given questions. **(04 Marks)**

### **DO WHAT YOU CAN**

Once there was a farmer who had a large field of corn. He weeded it because he wanted to sell the corn and buy things for his family with the money. But after he had worked hard, there was no rain. He was very sad, and every morning he went out to the field and wished for the rain to fall. One day, as he stood looking up at the sky, two little raindrops saw him, and one said to the other: "Look at that farmer. I wish I could help him. "Yes," said the other, "but you are only a little raindrop. What can you do?" Well," said the first, "I know, I cannot do much; but I can cheer the farmer. Here I go!" the second one said: "Well, if you insist upon going, I will go, too. Here I come!" And down went the raindrops. One raindrop touched the farmer's nose, and one fell on a thirsty stalk of corn. "Dear me," said the farmer, A raindrop! I do believe we will have a shower. "By this time many raindrops had come together and went down to cheer the farmer, and water his corn, because one little raindrop tried to do what it could.

Answer each question in full sentence.

1) Why did the farmer want to sell his corn?

---

2) Why the farmer was upset?

---

3) "I do believe we shall have a shower." Who said that?

---

4) What is the moral of the story?

---

59. Read the following poem and find any three verbs and write in the given space. (03 Marks)

**Be Polite**

Say Assalam-u-Alaikum to whoever you meet  
Shake your hands with everyone you greet  
Smile at people and be polite  
Show a lot of respect, also show your delight  
When a meal is served always wash your hands  
Say Bismillah when you begin and dua when you end

**60.** Write an application to your Principal for providing library facilities in your school. **(03 Marks)**

[illegible]





**62.** Convert the following Past Simple Tense into Present Continuous Tense.  
**(02 Marks)**

a) I felt sad by looking at him.

---

b) My mother hugged me.

---