



Promoting Private Schooling in Rural Sindh (PPRS)

Assessment Feb - Mar 2019



Sindh Education Foundation
Government of Sindh

Assessment Unit

Subject	Marks	Time
Sindhi	15	25 Minutes
Mathematics	20	35 Minutes
Science	20	30 Minutes
English	20	30 Minutes
Total	75	120 Minutes

INSTRUCTIONS FOR THE STUDENT

طلباء کے لئے ہدایات

Objective Part

معروضی حصہ

▪ All questions are compulsory.	▪ تمام سوالات لازمی ہیں۔
▪ All questions carry equal marks.	▪ تمام سوالات کے مارکس یکساں ہیں۔
▪ Do not fill more than one option for one question. Multiple options will be considered wrong.	▪ ایک سوال کے جواب کے لئے صرف ایک ہی اختیار کو پر کریں۔ ایک سے زیادہ جوابات غلط تصور کئے جائیں گے۔
▪ Fill correct options according to the following example.	▪ سوالات کے جوابات دی گئی مثال کے مطابق حل کریں۔
<p style="text-align: center;">A <input checked="" type="radio"/> B C D</p>	
▪ Pencil should be used to fill the answers.	▪ جوابات دینے کے لئے پنسل کا استعمال کریں۔
▪ Finish each part in the given time as mentioned in the paper.	▪ پرچے میں موجود سوالات کو دئے گئے وقت کے مطابق حل کریں۔
▪ Use the given blank page for rough work.	▪ رف ورک کے لئے پرچے میں موجود خالی صفحہ استعمال کریں۔

INSTRUCTIONS FOR THE STUDENT

طلباء کے لئے ہدایات

Subjective Part

موضوعی حصہ

▪ All questions are compulsory.	▪ تمام سوالات لازمی ہیں۔
▪ Finish each question in the given time as mentioned in the paper.	▪ پرچے میں موجود موضوعی حصے کو دیے گئے وقت کے مطابق حل کریں۔
▪ Avoid over writing or untidy work.	▪ گندی اور خراب لکھائی سے پرہیز کریں۔
▪ Use the given blank page for math's rough work.	▪ حساب کارف کام کرنے کے لئے دیے گئے خالی پرچے کا استعمال کریں۔
▪ Pencil should be used to write the answers.	▪ جوابات دینے کے لئے پنسل کا استعمال کریں۔

MCQ Practice

1. Name of our country is

1. ہمارے ملک کا نام ہے

Kenya.

(A)

کینیا۔

Pakistan.

(B)

پاکستان۔

Indonesia.

(C)

انڈونیشیا۔

2. Add.

2. جمع کریں۔

$$2 + 2 = \underline{\hspace{2cm}}.$$

4

(A)

6

(B)

8

(C)

سنڌي

1. هيٺ ڏنل لفظ جي معنيٰ ڪهڙي آهي؟

اُخوت

Ⓐ

ڪوڙ

Ⓑ

ڪُٻَٽ

Ⓒ

ڀائپي

Ⓓ

ايمانداري

بيت مڪمل ڪريو.

2. ڪدورت ۽ ڪيني ڪي دل مان ڪڍي، فقط ڏيس جو ڌيان _____ هلو.

Ⓐ

ڌاري

Ⓑ

تاري

Ⓒ

ڌاري

Ⓓ

ماري

3. هيٺ ڏنل اسمن مان اسم خاص ڪهڙو آهي؟

- | | |
|----------|---|
| وڻ | Ⓐ |
| ڪتاب | Ⓑ |
| اسڪول | Ⓒ |
| حيدرآباد | Ⓓ |

4. هيٺ ڏنل لفظن مان ٻڌو لفظ ڪهڙو آهي؟

- | | |
|-----------|---|
| جُهرمت | Ⓐ |
| تڪليف | Ⓑ |
| ڪهڪشان | Ⓒ |
| گهمڻ ڦِرڻ | Ⓓ |

5. ڪم ڪرڻ کي فعل ۽ ڪم ڪندڙ کي فاعل چئبو آهي. هيٺ ڏنل جملي ۾ فاعل ڪهڙو آهي؟

سڪين ڪپڙا سبي رهي آهي.

- | | |
|------|---|
| سڪين | Ⓐ |
| ڪپڙا | Ⓑ |
| سبي | Ⓒ |
| آهي | Ⓓ |

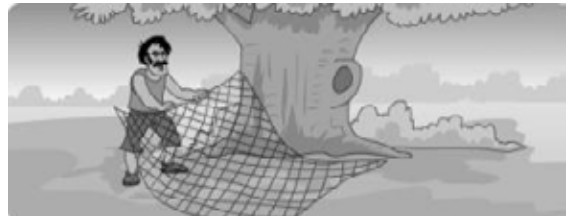
6. هم آواز لفظن کي ڇا چئبو آهي؟

- | | |
|-------|---|
| شعر | Ⓐ |
| نظم | Ⓑ |
| بند | Ⓒ |
| قافيا | Ⓓ |

7. هيٺ ڏنل ڪهاڻي کي غور سان پڙهو ۽ پڇيل سوالن جا جواب لکو. 02 مارڪون



ماري/پکي ڦاسائيندڙ ڄار سان گڏ اُن جا داڻا به زمين تي پکيڙي ڇڏيا ۽ پاڻ گهاٽن ٻوڙن ۾ لڪي پکين جي اچڻ جو انتظار ڪرڻ لڳو. ٿوري دير کان پوءِ اُتان ڪبوترن جو هڪ وڏو پنهنجي بادشاهه سميت اڏامندو وڃي رهيو هو. انهن زمين تي اُن جا داڻا پيل ڏٺا ته هو هيٺ لهي پيا.



هڪ ڏينهن صبح جو ماري/پکي ڦاسائيندڙ هڪ وڏي وڻ جي هيٺيان ڄار وڇايو. ماري سوچيو ته هن وڏي وڻ تي ويهڻ لاءِ روزانو ڪيترائي پکي اچن ٿا، اڄ ته سٺو شڪار لڳندو.



بادشاهه ڪبوتر کين چيو ته توهان منهنجو چوڻ نه ڪيو پر اڃا به وقت آهي. هاڻي هيئن ڪيو جو سڀئي گڏجي اڏامڻ جي ڪوشش ڪيو. سڀني ڪبوترن گڏجي اڏامڻ شروع ڪيو ۽ ڄار جا ڪلا پتجي پيا، ڪبوتر ڄار سميت اڏامي ويا.



بادشاهه ڪبوتر انهن کي گهڻو ئي سمجهايو ته هيٺ نه لهو پر هنن مڃيو ئي نه ۽ هيٺ لهي اُن کائڻ لڳا. جڏهن انهن کائي ڍو ڪيو ته پوءِ هڪٻئي کي چيو اچو ته هلون، پر هي ڇا؟ انهن ڏٺو ته سندن پير ته ڄار ۾ ڦاسي پيا هيا.

الف. هڪ ڏينهن صبح جو ماري/پکي ڦاسائيندڙ هڪ وڏي وڻ جي هيٺيان ڇا وڇايو؟

ب. ڪبوترن زمين تي ڇا پيل ڏٺا؟

8. هيٺ ڏنل تصوير کي غور سان ڏسو ۽ صحيح جواب چونڊي خال ڀريو. 02 مارڪون



(تي - مٿان - ڀر)

الف. ڪمري _____ هڪ الماڙي رکيل آهي.

ب. پلنگ _____ وهائو پيل آهي.

9. هيٺ ڏنل واحد لفظن جا جمع لکو. 02 مارڪون

واحد	جمع
سهارو	
ٻني	

10. هيٺ ڏنل جملن کي زمان ماضيءَ مان زمان مستقبل ۾ بدلايو: 03 مارڪون

1. احمد ٻاهر ويو.

2. وينا ڪپڙا سڀيا.

3. اسڪول جو گھنڊ وڳو.

Rough Work

Rough Work

Mathematics

11. Identify the following in figures.

11. دیئے گئے الفاظ کے اعداد کی نشاندہی کریں۔

thirty-eight million and fifty-four

اڑتیس ملین اور چوَن

38,005,040

(A)

38,000,054

(B)

38,000,504

(C)

38,005,004

(D)

12. The price of two cars is
Rs 4,455,000 and Rs 4,755,500
respectively. The total price of both
cars in rupees would be

12. دو کاروں کی قیمت بالترتیب 4,455,000 روپے اور
4,755,500 روپے ہے۔ دونوں کی کل ملا کر قیمت ہوگی



Rs 4,455,000



Rs 4,755,500

8,770,000

(A)

9,000,500

(B)

9,210,500

(C)

9,655,000

(D)

13. Round off the following number up to two decimal places. 13. دیے گئے عدد کو دو اعشاری قیمت تک صحیح عدد میں منتقل کریں۔

25.778

25.78

(A)

25.77

(B)

25.87

(C)

25.88

(D)

14. The cost of 4 balls is Rs 55. The cost of 1 ball in rupees would be 14. 4 گیندوں کی قیمت 55 روپے ہے۔ 1 گیند کی قیمت روپوں میں ہوگی



10.75

(A)

11.75

(B)

12.50

(C)

13.75

(D)

15. 8 out of a class of 25 students were absent. The percentage of absent students is
15. ایک کلاس میں 25 میں سے 8 طالب علم غیر حاضر تھے۔ غیر حاضر طلباء کی فیصد ہے

32%

Ⓐ

38%

Ⓑ

40%

Ⓒ

45%

Ⓓ

16. Divide.

16. تقسیم کریں۔

$$\frac{2}{5} \div 6$$

$\frac{1}{8}$

Ⓐ

$\frac{2}{9}$

Ⓑ

$\frac{1}{15}$

Ⓒ

$\frac{3}{14}$

Ⓓ

17. A boy had Rs 100. He spends $\frac{2}{5}$ out of them. The money he spent in rupees is

17. ایک لڑکے کے پاس 100 روپے تھے جس میں سے اس نے $\frac{2}{5}$ خرچ کر دیے۔ جو پیسے اس نے خرچ کیے روپوں میں انکی قدر ہے



40

(A)

45

(B)

50

(C)

55

(D)

18. The cost of a shirt is Rs 1,249. The cost of 15 such shirts in rupees would be

18. 1 شرٹ کی قیمت 1,249 روپے ہے۔ ایسی 15 شرٹس کی قیمت روپوں میں ہوگی



18,550

Ⓐ

18,735

Ⓑ

19,525

Ⓒ

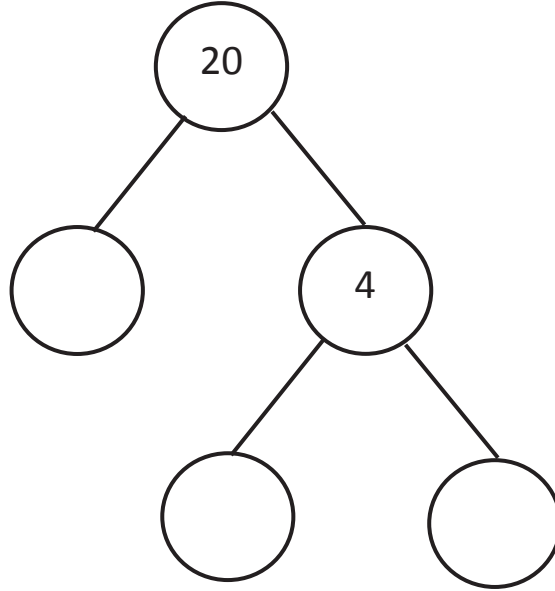
19,775

Ⓓ

19. Complete the given factor tree.

19. دیے گئے فیکٹر ٹری کو مکمل کریں۔

(03 Marks)



20. Find the HCF of 6, 8 and 10.
Show steps.

20. 6، 8 اور 10 کا عظیم معلوم کریں۔ مراحل دکھائیں۔

(03 Marks)

21. Multiply the following. Show steps.

21. دیے گئے کو ضرب کریں۔ مراحل دکھائیں۔

(03 Marks)

$$42915 \times 24$$

22. Find the average of the following.
Show steps.

22. دیے گئے کا اوسط معلوم کریں۔ مراحل دکھائیں۔

(03 Marks)

$$1.25 \text{ kg} + 1.75 \text{ kg} + 1.65 \text{ kg}$$

Science

23. One of the major causes of air pollution is

23. ہوائی آلودگی کی ایک بڑی وجہ ہے

smoke from factories.

(A)

کارخانوں سے نکلنے والا دھواں۔

sewage water.

(B)

گٹر کا پانی۔

pressure horn.

(C)

تیز آواز والے باجے۔

boiling water.

(D)

اُبلتا ہوا پانی۔

24. The unicellular fungus from the following is

24. دیئے گئے میں سے ایک خلوی فنگس ہے

yeast.

(A)

خمیر۔

mould.

(B)

مولڈ۔

glucose.

(C)

گلوکوز۔

mushroom.

(D)

مشروم۔

25. A process in which bacteria breaks down dead organisms into simple one is called

25. وہ طریقہ جس میں بیکٹیریا مرے ہوئے اجسام کو سادہ شکل میں توڑ دیتا ہے کہلاتا ہے

decomposition.

(A)

اجزاء علیحدہ کرنے کا عمل۔

destruction.

(B)

توڑنے کا عمل۔

distillation.

(C)

چھاننے کا عمل۔

diffusion.

(D)

انضمام کا عمل۔

26. Leaves of a monocot plant have veins that are

26. مونو کوٹ پودے کے پتوں کی رگیں ہوتی ہیں



curvy.

Ⓐ

خم دار۔

parallel.

Ⓑ

متوازی۔

zigzag.

Ⓒ

ٹیڑھا میڑھا۔

jumbled.

Ⓓ

الچھی ہوئی۔

27. The simplest plant that does not have stem and leaves is called

27. پودے کی وہ سادہ قسم جس میں نہ پتے ہوتے ہیں اور نہ شاخیں وہ

ہے

ferns.

Ⓐ

فرز۔

tulip.

Ⓑ

ٹیولپ۔

algae.

Ⓒ

ایلی۔

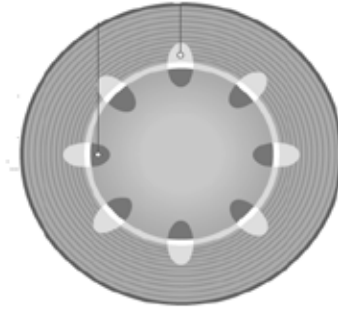
conifer.

Ⓓ

کانیفر۔

28. The tube which carry food in plants is called

28. پودے میں موجود نالی جس میں خوراک ہوتی ہے کہلاتی ہے



pipe.

(A)

پائپ۔

xylem.

(B)

زانلم۔

phloem.

(C)

فلوئم۔

channel.

(D)

چینل۔

29. Which of the following animal is invertebrate?

29. دیئے گئے میں سے کون سا جانور غیر فقاری (انورٹمبریٹ) ہے

Cat

(A)

بلی

Rabbit

(B)

خرگوش

Crocodile

(C)

مگر مچھ

Earth worm

(D)

کیچوا

30. Fins helps fish to

30. مچھلی کے پر اس کو مدد دیتے ہیں



eat.

Ⓐ

کھانے میں۔

sleep.

Ⓑ

سونے میں۔

swim.

Ⓒ

تیرنے میں۔

breath.

Ⓓ

سانس لینے میں۔

31. Answer the following questions.

31. دیئے گئے سوالات کے جوابات تحریر کریں۔

(05 Marks)

a) Differentiate between biodegradable and non-biodegradable.

بایوڈی گریڈ ایبل اور نان بایوڈی گریڈ ایبل فضلے میں فرق بیان کریں۔

biodegradable بایوڈی گریڈ ایبل	non-biodegradable نان بایوڈی گریڈ ایبل

b) Enlist **any three** main causes of air pollution.

فضائی آلودگی کی کوئی تین وجوہات لکھیں۔

32. Answer the following questions.

32. دیئے گئے سوالات کے جوابات تحریر کریں۔

(05 Marks)

a) Define epigeal germination.

اُبجیمل جر مینشن کی تعریف کریں۔



b) Write **any two** things that seeds need to germinate.

بج کی نمو کے لئے درکار کوئی دو چیزیں لکھیں۔

c) Write **any two** characteristics of maize seed.

مکئی کے بچ کی کوئی دو خصوصیات لکھیں۔

33. Draw **any two** kinds of bacteria.

33. کسی بھی دو اقسام کے بیکٹیریا کی شکل بنائیں۔

(02 Marks)

--	--

English

34. Identify the common noun.

Afghanistan

Ⓐ

Rafique

Ⓑ

Badin

Ⓒ

Boy

Ⓓ

35. Select the **adjective** from the given sentence.

She was talking very rudely with her students.

very

Ⓐ

rudely

Ⓑ

talking

Ⓒ

students

Ⓓ

36. Read the given sentence and choose the pronoun.

We went for the picnic on Saturday.

we

Ⓐ

went

Ⓑ

picnic

Ⓒ

saturday

Ⓓ

37. Identify the Tense of the given sentence.

She was so happy to receive her gift.

Past Continuous Tense

Ⓐ

Present Perfect Tense

Ⓑ

Present Simple Tense

Ⓒ

Past Simple Tense

Ⓓ

38. Complete the sentence with the correct word.



There is _____ water in the glass

much (A)

many (B)

some (C)

any (D)

39. Choose the correct word to complete the sentence.

_____ did you not come yesterday?

Where (A)

Whom (B)

What (C)

Why (D)

40. Select the sentence which is in Simple Present Tense.

I have eaten.

Ⓐ

The baby is crying.

Ⓑ

They went to Karachi.

Ⓒ

She lives in small village.

Ⓓ

41. Identify the Future Simple Tense of the given sentence.

She went to her home.

She will go to her home.

Ⓐ

She will be go to her home.

Ⓑ

She will be gone to her home.

Ⓒ

She will be going to her home.

Ⓓ

42. Write any two sentences about your daily routine. (02 Marks)

1) _____

2) _____

43. Read the passage carefully and write the answers of the given questions. (03 Marks)

My Country

Pakistan is my homeland. It came into being on 14th August 1947. It has four provinces. Every province has different language and culture but Urdu is our national language. Pakistan is blessed with natural resources like, coal, gas, forest, salt etc. It has fertile land to sow crops. In my country there are many historical places like Minar-e-Pakistan, which is situated in Lahore. It reminds us of the day when the resolution of Pakistan was passed in 1940. Pakistani nation is very industrious and patriotic.

1) Do all provinces have same culture and language in our country?

2) Where did the Pakistan resolution pass?

3) Write the names of natural resources of Pakistan?

44. Write the past tense of the given words.

(03 Marks)

Walk _____

Sleep _____

Wait _____

45. Rewrite the following sentences by using appropriate punctuation. (02 Marks)

a) watching i am the film.

b) is Amna playing cricket.

46. Write down the opposites of the given words.

(02 Marks)

a) Difficult _____

b) Worst _____