



Promoting Private Schooling in Rural Sindh (PPRS)

Assessment Feb - Mar 2019



Sindh Education Foundation
Government of Sindh

Assessment Unit

Subject	Marks	Time
Sindhi	15	25 Minutes
Mathematics	20	35 Minutes
Science	20	30 Minutes
English	20	30 Minutes
Total	75	120 Minutes

INSTRUCTIONS FOR THE STUDENT

شاگرد جي لاءِ هدايتون

Objective Part

معروضي حصو

▪ All questions are compulsory.	▪ سڀ سوال لازمي آهن.
▪ All questions carry equal marks.	▪ سڀني سوالن تي هڪ جيتريون مارڪون رکيل آهن.
▪ Do not fill more than one option for one question. Multiple options will be considered wrong.	▪ هڪ سوال جي جواب لاءِ هڪ کان وڌيڪ اختيارن کي نه ڀريو. گهڻن اختيارن واري جواب کي غلط تصور ڪيو ويندو.
▪ Fill correct options according to the following example.	▪ جوابن کي هيٺ ڏنل مثال مطابق چڱيءَ ريت ڀريو.
<div style="text-align: center;"> A <input checked="" type="radio"/> B C D </div>	
▪ Pencil should be used to fill the answers.	▪ جوابن واري گولڙي کي ڀرڻ لاءِ پينسل جو استعمال ڪريو.
▪ Finish each part in the given time as mentioned in the paper.	▪ پيپر ۾ ڏنل هر هڪ حصي کي ڏنل وقت مطابق حل ڪريو.
▪ Use the given blank page for rough work.	▪ رف ڪم لاءِ ڏنل خالي صفحو استعمال ڪريو.

INSTRUCTIONS FOR THE STUDENT

شاگرد جي لاءِ هدايتون

Subjective Part

موضوعي حصو

▪ All questions are compulsory.	▪ سڀ سوال لازمي آهن.
▪ Finish each question in the given time as mentioned in the paper.	▪ موضوعي حصي کي پيپر ۾ ڏنل وقت مطابق حل ڪريو.
▪ Avoid over writing or untidy work.	▪ ٻڻي لکڻي ۽ ڊاهه ڊوهه واري ڪم کان پاسو ڪريو.
▪ Use the given blank page for math's rough work.	▪ رياضيءَ جو رڻ ڪم ڪرڻ لاءِ ڏنل خالي صفحو استعمال ڪريو.
▪ Pencil should be used to write the answers.	▪ جواب لکڻ لاءِ پينسل جو استعمال ڪريو.

MCQ Practice

1. Name of our country is

1. اسانجي ملڪ جونالو آهي

Kenya.

Ⓐ

ڪينيا.

Pakistan.

Ⓑ

پاڪستان.

Indonesia.

Ⓒ

انڊونيشيا.

2. Add.

2. جوڙ ڪريو.

$$2 + 2 = \underline{\hspace{2cm}}.$$

4

Ⓐ

6

Ⓑ

8

Ⓒ

سنڌي

1. هيٺ ڏنل لفظ جي معنيٰ ڪهڙي آهي؟

اُخوت

Ⓐ

ڪوڙ

Ⓑ

ڪُپت

Ⓒ

پاڻي

Ⓓ

ايمانداري

بيت مڪمل ڪريو.

2. ڪدورت ۽ ڪيني کي دل مان ڪڍي، فقط ڏيس جو ڌيان _____ هلو.

Ⓐ

ڌاري

Ⓑ

تاري

Ⓒ

ڌاري

Ⓓ

ماري

3. هيٺ ڏنل اسمن مان اسم خاص ڪهڙو آهي؟

- وڻ (A)
- ڪتاب (B)
- اسڪول (C)
- حيدرآباد (D)

4. هيٺ ڏنل لفظن مان ٻڌو لفظ ڪهڙو آهي؟

- جُهرمت (A)
- تڪليف (B)
- ڪهڪشان (C)
- گهمڻ ڦِرڻ (D)

5. ڪم ڪرڻ کي فعل ۽ ڪم ڪندڙ کي فاعل چئبو آهي. هيٺ ڏنل جملي ۾ فاعل ڪهڙو آهي؟

سڪين ڪپڙا سبي رهي آهي.

- | | |
|------|---|
| سڪين | Ⓐ |
| ڪپڙا | Ⓑ |
| سبي | Ⓒ |
| آهي | Ⓓ |

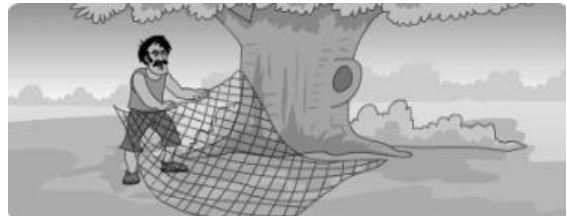
6. هم آواز لفظن کي ڇا چئبو آهي؟

- | | |
|-------|---|
| شعر | Ⓐ |
| نظم | Ⓑ |
| بند | Ⓒ |
| قافيا | Ⓓ |

7. هيٺ ڏنل ڪهاڻي کي غور سان پڙهو ۽ پڇيل سوالن جا جواب لکيو. 02 مارڪون



ماري/پکي ڦاسائيندڙ ڄار سان گڏ اُن جا داڻا به زمين تي پکيڙي ڇڏيا ۽ پاڻ گهاٽن ٻوڙن ۾ لڪي پکين جي اچڻ جو انتظار ڪرڻ لڳو. ٿوري دير کان پوءِ اُتان ڪبوترن جو هڪ وڏو پنهنجي بادشاهه سميت اڏامندو وڃي رهيو هو. انهن زمين تي اُن جا داڻا پيل ڏٺا ته هو هيٺ لهي پيا.



هڪ ڏينهن صبح جو ماري/پکي ڦاسائيندڙ هڪ وڏي وڻ جي هيٺيان ڄار وڇايو. ماري سوچيو ته هن وڏي وڻ تي ويهڻ لاءِ روزانو ڪيترائي پکي اچن ٿا، اڄ ته سٺو شڪار لڳندو.



بادشاهه ڪبوتر کين چيو ته توهان منهنجو چوڻ نه ڪيو پر اڃا به وقت آهي. هاڻي هيئن ڪيو جو سڀئي گڏجي اڏامڻ جي ڪوشش ڪيو. سڀني ڪبوترن گڏجي اڏامڻ شروع ڪيو ۽ ڄار جا ڪلا پٽجي پيا، ڪبوتر ڄار سميت اڏامي ويا.



بادشاهه ڪبوتر انهن کي گهڻو ئي سمجهايو ته هيٺ نه لهو پر هنن مڃيو ئي نه ۽ هيٺ لهي اُن کائڻ لڳا. جڏهن انهن کائي ڍڻ ڪيو ته پوءِ هڪٻئي کي چيو اچو ته هلون، پر هي ڇا؟ انهن ڏٺو ته سندن پير ته ڄار ۾ ڦاسي پيا هيا.

الف. هڪ ڏينهن صبح جو ماري/پکي ڦاسائيندڙ هڪ وڏي وڻ جي هيٺيان ڇا وڇايو؟

ب. ڪبوترن زمين تي ڇا پيل ڏٺا؟

8. هيٺ ڏنل تصوير کي غور سان ڏسو ۽ صحيح جواب چونڊي خال ڀريو. 02 مارڪون



(تي - مٿان - ڇر)

الف. ڪمري _____ هڪ الماڙي رکيل آهي.

ب. پلنگ _____ وهائو پيل آهي.

9. هيٺ ڏنل واحد لفظن جا جمع لکو. 02 مارڪون

واحد	جمع
سهارو	
ٻني	

10. هيٺ ڏنل جملن کي زمان ماضيءَ مان زمان مستقبل ۾ بدلايو: 03 مارڪون

1. احمد ٻاهر ويو.

2. وينا ڪپڙا سڀيا.

3. اسڪول جو گهندو وڳو.

Rough Work

Rough Work

Mathematics

11. Identify the following in figures. 11. هيٺ لفظن ۾ ڏنل عدد جي انگن ۾ سڃاڻپ ڪريو.

thirty-eight million and fifty-four

انٽيهه ملين ۽ چوونجاهه

38,005,040

(A)

38,000,054

(B)

38,000,504

(C)

38,005,004

(D)

12. The price of two cars is Rs 4,455,000 and Rs 4,755,500 respectively. The total price of both cars in rupees would be

12. ٻن ڪارين جي قيمت ترتيبوار 4,455,000 روپيا ۽

4,755,500 روپيا آهي. ٻنهي ڪارين جي گڏيل

قيمت ٿيندي



Rs 4,455,000



Rs 4,755,500

8,770,000

(A)

9,000,500

(B)

9,210,500

(C)

9,655,000

(D)

13. Round off the following number up to two decimal places.

13. هيٺ ڏنل عدد کي ڏهائي جي ٻن درجن تائين مخصوص ڪريو.

25.778

25.78

(A)

25.77

(B)

25.87

(C)

25.88

(D)

14. The cost of 4 balls is Rs 55. The cost of 1 ball in rupees would be

14. 4 بالن جي قيمت 55 روپيا آهي. 1 بال جي قيمت روپين ۾ ٿيندي



10.75

(A)

11.75

(B)

12.50

(C)

13.75

(D)

15. 8 out of a class of 25 students were absent. The percentage of absent students is

15. هڪ ڪلاس جي 25 شاگردن مان 8 شاگرد غير حاضر رهيا. غير حاضر شاگردن جو سيڪڙو آهي

32%

Ⓐ

38%

Ⓑ

40%

Ⓒ

45%

Ⓓ

16. Divide.

16. ونڊ ڪريو.

$$\frac{2}{5} \div 6$$

$\frac{1}{8}$

Ⓐ

$\frac{2}{9}$

Ⓑ

$\frac{1}{15}$

Ⓒ

$\frac{3}{14}$

Ⓓ

17. A boy had Rs 100. He spends $\frac{2}{5}$ out of them. The money he spent in rupees is

17. هڪ چوڪري وٽ 100 روپيا هيا. جنهن مان هن $\frac{2}{5}$ خرچ ڪيا. جيڪي پيسا هن خرچ ڪيا، اهي روپين ۾ ٿيندا



40

Ⓐ

45

Ⓑ

50

Ⓒ

55

Ⓓ

18. The cost of a shirt is Rs 1,249. The cost of 15 such shirts in rupees would be

18. 1 قميص جي قيمت 1,249 روپيا آهي. اهڙين 15 قميصن جي قيمت روپين ۾ ٿيندي



18,550

Ⓐ

18,735

Ⓑ

19,525

Ⓒ

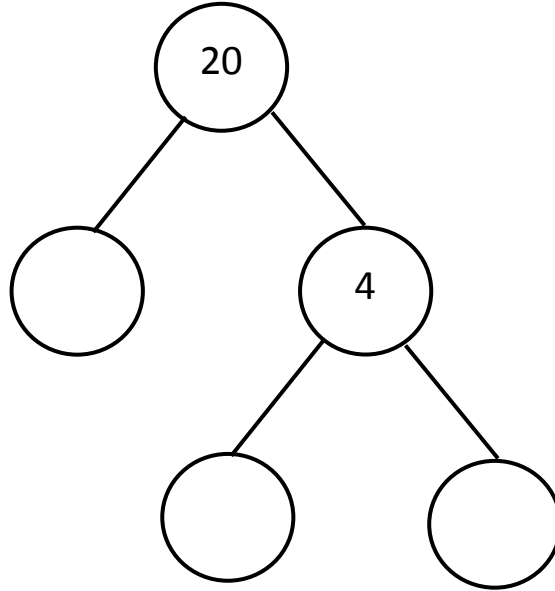
19,775

Ⓓ

19. هيٺ ڏنل شاخن واري مفرد ضرب جي جزن کي مڪمل
ڪريو.

19. Complete the given factor tree.

(03 Marks)



20. 6، 8 ۽ 10 جو وڏو عام پورو ونڊيندڙ لھو. مرحلا
ڏيکاريو.

20. Find the HCF of 6, 8 and 10.
Show steps.

(03 Marks)

21. Multiply the following. Show steps.

21. ضرب ڪريو. مرحلا ڏيکاريو.

(03 Marks)

$$42915 \times 24$$

22. Find the average of the following.
Show steps.

22. هيٺ ڏنل جي سراسري معلوم ڪريو. مرحلا ڏيکاريو.

(03 Marks)

$$1.25 \text{ kg} + 1.75 \text{ kg} + 1.65 \text{ kg}$$

Science

23. One of the major causes of air pollution is

23. هوا جي گدلاڻ / آلودگي جو هڪ وڏو سبب آهي

smoke from factories.

(A)

ڪارخانن مان نڪرندڙ دونهون.

sewage water.

(B)

گتڙ جو پاڻي.

pressure horn.

(C)

تيز آواز وارا بگل يا توتاڙا.

boiling water.

(D)

اڀرندڙ پاڻي.

24. The unicellular fungus from the following is

24. هيٺ ڏنل مان هڪ گهڙي وارو فنگس آهي

yeast.

(A)

خمير.

mould.

(B)

مولڊ.

glucose.

(C)

گلوڪوز.

mushroom.

(D)

مشروم / ڪنيپون.

25. A process in which bacteria breaks down dead organisms into simple one is called

25. اهو طريقو جنهن ۾ بيڪٽيريا مئل جاندارن کي سادن
جزن ۾ ٽوڙيندا آهن، اهو آهي

decomposition.

(A)

ٽوڙڻ جو عمل.

destruction.

(B)

تباھ ڪرڻ جو عمل.

distillation.

(C)

چڪاڻڻ جو عمل.

diffusion.

(D)

نفوذ جو عمل.

26. Leaves of a monocot plant have veins that are

26. مونوڪاٽ ٻوٽن جي پنن ۾ هونديون آهن نسون



curvy.

Ⓐ

مڙيل.

parallel.

Ⓑ

سڌيون.

zigzag.

Ⓒ

وڙوڪڙ.

jumbled.

Ⓓ

وڇڙيل / منجهيل.

27. The simplest plant that does not have stem and leaves is called

27. ٻوٽي جو اهو سادو قسم جنهن ۾ نه پن هوندا آهن ۽ نه ئي تاريون، اهو آهي

ferns.

Ⓐ

فرنز.

tulip.

Ⓑ

ٽيلپ.

algae.

Ⓒ

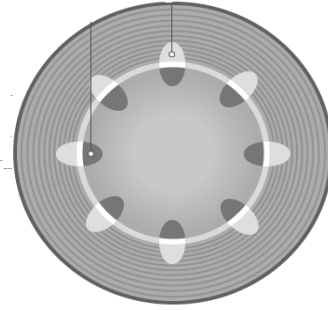
الجي.

conifer.

Ⓓ

ڪونيفر.

28. The tube which carry food in plants is called
پاڻي ۾ موجود نالي جيڪا کاڌو پهچائيندي آهي، ان کي چئبو آهي




- | | | |
|----------|-----|-------|
| pipe. | (A) | پاڻي |
| xylem. | (B) | زائلر |
| phloem. | (C) | فلوئم |
| channel. | (D) | چينل |

29. Which of the following animal is invertebrate?
هيٺ ڏنل جانورن مان ڪهڙو بنا ڪرنگهي وارو جانور آهي؟

- | | | |
|------------|-----|------------|
| Cat | (A) | بلي |
| Rabbit | (B) | سيهڙ / سڳو |
| Crocodile | (C) | واڳون |
| Earth worm | (D) | ڪينٽون |

30. Fins helps fish to

30. مڇي جون ڪنڀڙائيون ان کي مدد ڪنديون آهن



eat.

Ⓐ

ڪائڻ ۾.

sleep.

Ⓑ

سمهڻ ۾.

swim.

Ⓒ

ترڻ ۾.

breath.

Ⓓ

ساهه کڻڻ ۾.

31. Answer the following questions.

31. هيٺ ڏنل سوالن جا جواب لکيو.

(05 Marks)

a) Differentiate between biodegradable and non-biodegradable.

حياتيائي طور ڳري ختم ٿيندڙ ۽ حياتياتي طور اڻ ختم ٿيندڙ شين وچ ۾ فرق بيان ڪريو.

biodegradable حياتيائي طور ڳري ختم ٿيندڙ	non-biodegradable حياتيائي طور اڻ ختم ٿيندڙ

b) Enlist **any three** main causes of air pollution.

هوا جي ڳڏلاڻ/آلودگي جا ڪي به ٽي سبب لکيو.

32. Answer the following questions.

32. هيٺ ڏنل سوالن جا جواب لکو.

(05 Marks)

a) Define epigeal germination.

اڀيڃيئل جرمينيشن جي وصف لکو.



b) Write **any two** things that seeds need to germinate.

بج جي ڦوٽهڙي لاءِ ڪي به ٻه ضروري حالتون لکو.

c) Write **any two** characteristics of maize seed.

مڪئي جي ٻج جون ڪي به ٻه خاصيتون لکو.

33. Draw **any two** kinds of bacteria. 33. بيڪٽيريا جي ڪن به ٻن قسمن جي شڪل ٺاهيو.

(02 Marks)

--	--

English

34. Identify the common noun.

- | | |
|-------------|---|
| Afghanistan | Ⓐ |
| Rafique | Ⓑ |
| Badin | Ⓒ |
| Boy | Ⓓ |

35. Select the **adjective** from the given sentence.

She was talking very rudely with her students.

- | | |
|----------|---|
| very | Ⓐ |
| rudely | Ⓑ |
| talking | Ⓒ |
| students | Ⓓ |

36. Read the given sentence and choose the pronoun.

We went for the picnic on Saturday.

- we (A)
- went (B)
- picnic (C)
- saturday (D)

37. Identify the Tense of the given sentence.

She was so happy to receive her gift.

- Past Continuous Tense (A)
- Present Perfect Tense (B)
- Present Simple Tense (C)
- Past Simple Tense (D)

38. Complete the sentence with the correct word.



There is _____ water in the glass

much (A)

many (B)

some (C)

any (D)

39. Choose the correct word to complete the sentence.

_____ did you not come yesterday?

Where (A)

Whom (B)

What (C)

Why (D)

40. Select the sentence which is in Simple Present Tense.

I have eaten.

Ⓐ

The baby is crying.

Ⓑ

They went to Karachi.

Ⓒ

She lives in small village.

Ⓓ

41. Identify the Future Simple Tense of the given sentence.

She went to her home.

She will go to her home.

Ⓐ

She will be go to her home.

Ⓑ

She will be gone to her home.

Ⓒ

She will be going to her home.

Ⓓ

42. Write any two sentences about your daily routine. (02 Marks)

1) _____

2) _____

43. Read the passage carefully and write the answers of the given questions. (03 Marks)

My Country

Pakistan is my homeland. It came into being on 14th August 1947. It has four provinces. Every province has different language and culture but Urdu is our national language. Pakistan is blessed with natural resources like, coal, gas, forest, salt etc. It has fertile land to sow crops. In my country there are many historical places like Minar-e-Pakistan, which is situated in Lahore. It reminds us of the day when the resolution of Pakistan was passed in 1940. Pakistani nation is very industrious and patriotic.

1) Do all provinces have same culture and language in our country?

2) Where did the Pakistan resolution pass?

3) Write the names of natural resources of Pakistan?

44. Write the past tense of the given words. (03 Marks)

Walk _____

Sleep _____

Wait _____

45. Rewrite the following sentences by using appropriate punctuation. (02 Marks)

a) watching i am the film.

b) is Amna playing cricket.

46. Write down the opposites of the given words. (02 Marks)

a) Difficult _____

b) Worst _____