



Promoting Private Schooling in Rural Sindh (PPRS)

Assessment Feb - Mar 2019



Sindh Education Foundation
Government of Sindh

Assessment Unit

Subject	Marks	Time
Sindhi	15	25 Minutes
Mathematics	20	35 Minutes
Science	20	30 Minutes
English	20	30 Minutes
Total	75	120 Minutes

INSTRUCTIONS FOR THE STUDENT

شاگرد جي لاءِ هدايتون

Objective Part

معروضي حصو

▪ All questions are compulsory.	▪ سڀ سوال لازمي آهن.
▪ All questions carry equal marks.	▪ سڀني سوالن تي هڪ جيتريون مارڪون رکيل آهن.
▪ Do not fill more than one option for one question. Multiple options will be considered wrong.	▪ هڪ سوال جي جواب لاءِ هڪ کان وڌيڪ اختيارن کي نه ڀريو. گهڻن اختيارن واري جواب کي غلط تصور ڪيو ويندو.
▪ Fill correct options according to the following example.	▪ جوابن کي هيٺ ڏنل مثال مطابق چڱيءَ ريت ڀريو.
<div style="text-align: center;"> A <input checked="" type="radio"/> B C D </div>	
▪ Pencil should be used to fill the answers.	▪ جوابن واري گولڙي کي ڀرڻ لاءِ پينسل جو استعمال ڪريو.
▪ Finish each part in the given time as mentioned in the paper.	▪ پيپر ۾ ڏنل هر هڪ حصي کي ڏنل وقت مطابق حل ڪريو.
▪ Use the given blank page for rough work.	▪ رف ڪم لاءِ ڏنل خالي صفحو استعمال ڪريو.

INSTRUCTIONS FOR THE STUDENT

Subjective Part

شاگرد جي لاءِ هدايتون

موضوعي حصو

▪ All questions are compulsory.	▪ سڀ سوال لازمي آهن.
▪ Finish each question in the given time as mentioned in the paper.	▪ موضوعي حصي کي پيپر ۾ ڏنل وقت مطابق حل ڪريو.
▪ Avoid over writing or untidy work.	▪ ٻڻي لکڻي ۽ ڊاهه ڊوهه واري ڪم کان پاسو ڪريو.
▪ Use the given blank page for math's rough work.	▪ رياضيءَ جو رڻ ڪم ڪرڻ لاءِ ڏنل خالي صفحو استعمال ڪريو.
▪ Pencil should be used to write the answers.	▪ جواب لکڻ لاءِ پينسل جو استعمال ڪريو.

MCQ Practice

1. Name of our country is

1. اسانجي ملڪ جونالو آهي

Kenya.

Ⓐ

ڪينيا.

Pakistan.

Ⓑ

پاڪستان.

Indonesia.

Ⓒ

انڊونيشيا.

2. Add.

2. جوڙ ڪريو.

$$2 + 2 = \underline{\hspace{2cm}}.$$

4

Ⓐ

6

Ⓑ

8

Ⓒ

سنڌي

1. هيٺ ڏنل لفظ جي معنيٰ ڪهڙي آهي؟

ٻاجھ

Ⓐ

ڪانسواءِ

Ⓑ

چوان

Ⓒ

رحم

Ⓓ

ڀڪ

2. هم آواز لفظن کي ڇا چئبو آهي؟

Ⓐ

شعر

Ⓑ

نظم

Ⓒ

بند

Ⓓ

قافيا

بيت مڪمل ڪريو.

3. جبل، جهنگ، دريا لتاڙي لنگهو، ڏکڻ جي ته ڏونگر کي _____ هلو.

- ڌاري (A)
- تاري (B)
- ڌاري (C)
- ماري (D)

4. هيٺ ڏنل لفظن مان ٻٽو لفظ ڪهڙو آهي؟

- سرندي پڄندي (A)
- ڪهڪشان (B)
- تڪليف (C)
- جهرمت (D)

5. ”جو ڪيڙي سو کائي“ ڪنهن جو نعرو / پيغام هو؟

- شاهه عبدالطيف (A)
- قلندر لال شهباز (B)
- پٽائي سچل سرمست (C)
- صوفي شاهه عنايت شهيد (D)

6. هندن جو وڏو ڏينهن ڪهڙو آهي؟

Ⓐ

هولي

Ⓑ

عيدالفطر

Ⓒ

ڪرسمس

Ⓓ

رڪشا ٻنڌڻ

7. هيٺ ڏنل جملن کي زمان ماضيءَ مان زمان حال ۾ بدلايو: 03 مارڪون

الف. احمد ٻاهر ويو.

ب. وينا ڪپڙا سڀيا.

ج. اسڪول جو گهندو وڳو.

8. هيٺ ڏنل ڪهاڻي کي غور سان پڙهو ۽ ڇڏيل سوالن جا جواب لکو. 02 مارڪون



هڪ ڏينهن نديءَ جي ٻئي ڪناري تي هرڻ ڏٺو ته انب جي وڻ ۾ انب پڇي/رَسجي ويا هيا. هرڻ انب کائڻ پئي چاهيا پر ندي تي ڪا به پل نهيل نه هئي. جيڪڏهن پاڻي مان وڃي ته کيس مانگر مچ کائي ويندا.



هڪ گهاٽي جهنگ ۾، وڏي نديءَ جي ڀرسان، هڪ هرڻ رهندو هو. هو وڏو سمجهدار هو جنهن ڪري نديءَ ۾ موجود مانگر مچ هن کي کڏهن به کائي ڪو نه سگهيا.



هرڻ سڀني مانگر مچن کي قطار ٺاهڻ لاءِ چيو. جڏهن مانگر مچن قطار ٺاهي ته هرڻ انهن مٿان هلندي ندي پار ڪئي ۽ مانگر مچن جو شڪريو ادا ڪيو. پوءِ هرڻ جام انب کائڻ لڳو.



هرڻ کي هڪ خيال آيو. هن مانگر مچن کي ڪناري تي سڏ ڪيو ۽ کين چيو ته باشاهه سلامت توهان کي دعوت ۾ گهرايو آهي ۽ چيو اٿس ته ندي ۾ موجود مانگر مچن کي ڳڻي اچ.

الف. هرڻ نديءَ جي ٻئي ڪناري ڇا جو وڻ ڏٺو؟

ب. هرڻ ڪنهن کي قطار ٺاهڻ لاءِ چيو؟

9. هيٺ ڏنل تصوير کي غور سان ڏسو ۽ صحيح جواب چونڊي خال ڀريو. 02 مارڪون



(پٺيان - تي - اڳيان)

الف. پٺ _____ گهڙيال تنگيل آهي.

ب. پلنگ جي _____ واري ڌري مان پکي نظر اچي رهيو آهي.

10. هيٺ ڏنل واحد لفظن جا جمع لکو. 02 مارڪون

واحد	جمع
نماز	
فائدو	

Rough Work

Mathematics

11. Identify the following in figures. 11. هيٺ لفظن ۾ ڏنل عدد جي انگن ۾ سڃاڻپ ڪريو.

forty-two million and two-hundred three

ٻائيتاليهه ملين ۽ ٻه سو ٽي

42,000,203

(A)

42,002,003

(B)

42,000,023

(C)

42,020,003

(D)

12. The price of two cars is Rs 5,203,000 and Rs 2,185,000 respectively. The total price of both cars in rupees would be

12. ٻن ڪارين جي قيمت ترتيبوار 5,203,000 روپيا ۽

2,185,000 روپيا آهي. ٻنهي ڪارين جي گڏيل

قيمت ٿيندي



Rs 5,203,000



Rs 2,185,000

6,345,000

(A)

6,958,000

(B)

7,388,000

(C)

7,775,000

(D)

13. Divide.

13. ونڊ ڪريو.

$$\frac{4}{7} \div 8$$

$$\frac{1}{14}$$
$$\frac{3}{14}$$
$$\frac{1}{18}$$
$$\frac{3}{18}$$

(A)

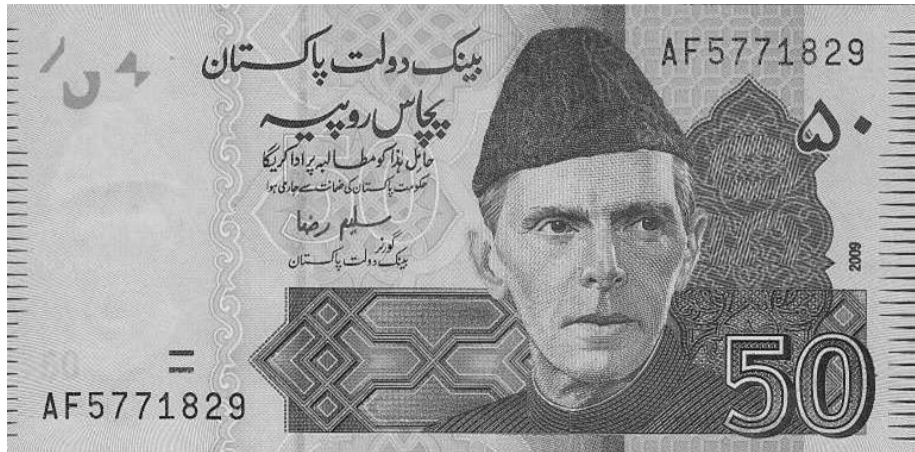
(B)

(C)

(D)

14. A child had Rs 50. He gives $\frac{3}{5}$ of them to his friend. The money he gave away in rupees is

14. هڪ چوڪري وٽ 50 روپيا هيا. جنهن مان هن $\frac{3}{5}$ پنهنجي دوست کي ڏنا. جيڪي پيسا هن پنهنجي دوست کي ڏنا، اهي روپين ۾ ٿيندا



20

(A)

25

(B)

30

(C)

35

(D)

15. Round off the following number up to two decimal places.

15. هيٺ ڏنل عدد کي ڏهائي جي ٻن درجن تائين مخصوص ڪريو.

22.467

22.46

(A)

22.56

(B)

22.47


(C)

22.57

(D)

16. The cost of 5 pencils is Rs 37.50. The cost of 1 pencil in rupees would be

16. 5 پينسلين جي قيمت 37.50 روپيا آهي. 1 پينسل جي قيمت روپين ۾ ٿيندي



5.25

(A)

5.75

(B)

6.50

(C)

7.50

(D)

17. 12 out of a class of 30 students has won medals in the school games. The percentage of winning students is

17. اسڪول جي راندين ۾ هڪ ڪلاس جي 30 شاگردن مان 12 شاگردن ميڊل کٽيا. کٽيندڙ شاگردن جو سيڪڙو آهي

32%

(A)

35%

(B)

40%

(C)

42%

(D)

18. The cost of 1 suit of shalwar kameez is Rs 1,699. The cost of 12 such suits in rupees would be

18. شلوار قميص جي 1 جوڙي جي قيمت 1,699 روپيا آهي. اهڙن 12 جوڙن جي قيمت روپين ۾ ٿيندي



20,388

(A)

20,755

(B)

21,230

(C)

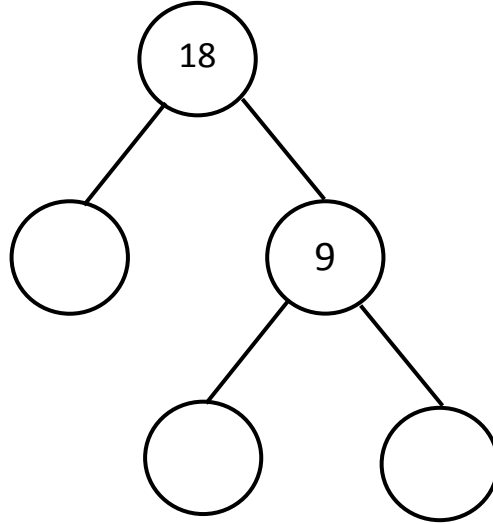
21,665

(D)

19. Complete the given factor tree.

19. هيٺ ڏنل شاخن واري مفرد ضرب جي جزن کي مڪمل
ڪريو.

(03 Marks)



20. Multiply the following. Show steps.

20. ضرب ڪريو. مرحلا ڏيکارو.

(03 Marks)

$$45316 \times 23$$

21. Find the HCF of 4, 6 and 10.
Show steps.

21. 4، 6 ۽ 10 جو وڏو عام پورو ونڊيندڙ لھو. مرحلا
ڏيکاريو.

(03 Marks)

22. Find the average of the following.
Show steps.

22. هيٺ ڏنل جي سراسري معلوم ڪريو. مرحلا ڏيکاريو.

(03 Marks)

$$1.42 \text{ m} + 1.36 \text{ m} + 2.89 \text{ m}$$

Science

23. The body of fish is mostly covered with

23. عام طور تي مڇي جو جسم ڍڪيل هوندو آهي

fur.

(A)

پشم سان.

skin.

(B)

گل سان.

scales.

(C)

چلرن سان.

feathers.

(D)

کنين سان.

24. Which of the following animal is vertebrate?

24. هيٺ ڏنل جانورن مان ڪهڙو ڪرنگهي وارو جانور آهي؟

Pigeon

(A)

ڪبوتر

Spider

(B)

ڪوريٽرو

Jelly fish

(C)

جيلي فش

Snail

(D)

ڪوڏ

25. The tube that carry water in plants is known as

25. ٻوٽن ۾ جيڪا نالي پاڻي پهچائيندي آهي، ان کي چئبو آهي

pipe.

(A)

پائپ.

xylem.

(B)

زائلر.

funnel.

(C)

ڪيف / گهگهي.

phloem.

(D)

فلوئر.

26. Yoghurt, cheese and vinegar are prepared with the help of

26. ڏهي/ڏڏڙو، پٺير ۽ سرڪو جنهن جي مدد سان ٺهندو آهي، اهو آهي

virus.

Ⓐ

وائرس.

yeast.

Ⓑ

خمير.

glucose.

Ⓒ

گلوڪوز.

bacteria.

Ⓓ

بيڪٽيريا.

27. Tiny green plants that look like a green carpet are called

27. ننڍڙا ساوا ٻوٽا جيڪي سائي ڪارپيٽ وانگر ڏسڻ ۾ ايندا آهن، انهن کي چئبو آهي

ferns.

Ⓐ

فرنز.

algae.

Ⓑ

الجي.

mosses.

Ⓒ

موسز.

conifers.

Ⓓ

ڪونيفرس.

28. A microorganism that grows very fast in warm and moist places is called

28. اهي خوردبيني جاندار جيڪي گرم ۽ گهميل جڳهن تي تيزي سان واڌ ويجهه ڪندا آهن، اهي آهن

virus.

Ⓐ

وائرس.

fungi.

Ⓑ

فنجائي.

yeast.

Ⓒ

خمير.

bacteria.

Ⓓ

بيڪٽيريا.

29. Leaves of a dicot plant have

29. ڊاءِ ڪاٽ پوٽن جي پنن ۾ هونديون آهن

perpendicular veins.

Ⓐ

سڌيون نسون.

parallel veins.

Ⓑ

برابر نسون.

cross veins.

Ⓒ

ڪراس نسون.

web veins.

Ⓓ

چار جهڙيون نسون.

30. If the balance of water vapours and gases in air is disturbed, it becomes

30. جيڪڏهن هوا ۾ گيسن جو توازن بگڙجي وڃي ته اهو

ٿي ويندو آهي

harmful.

Ⓐ

نقصانڪار.

useful.

Ⓑ

فائديمند.

cold.

Ⓒ

ٿڌا.

safe.

Ⓓ

محفوظ.

31. Answer the following questions.

31. هيٺ ڏنل سوالن جا جواب لکو.

(05 Marks)

a) Define hypogeal germination.

هائپوجيٽل جرمينيشن جي وصف لکو.



b) Write **any two** characteristics of French bean seed.

فرينچ بين سيڊ جون ڪي به ٻه خاصيتون لکو.

1) _____

2) _____

c) Write **any two** conditions that seeds need to germinate.

بج جي ڦوٽهڙي لاءِ ڪي به ٻه ضروري حالتون لکو.

1) _____

2) _____

32. Answer the following.

32. هيٺ ڏنل سوالن جا جواب لکو.

(05 Marks)

a) State **any two** main causes of land pollution.

زمين جي گدلاڻ/آلودگي جا ڪي به ٻه سبب لکو.

b) Suggest **any three** remedies through which land pollution can be reduced.

ڪي به ٽي حل لکجن جي ذريعي زمين جي گدلاڻ/آلودگي کي گهٽائي سگهجي.

33. Differentiate between Bacteria and Fungus. Write **any one** difference of each.

33. بيڪٽيريا ۽ فنجائي ۾ فرق بيان ڪريو. هر هڪ جو ڪو به هڪ فرق لکو.

(02 Marks)

Bacteria بيڪٽيريا	Fungus فنڇائي

English

34. Identify the proper noun.

- | | |
|---------|---|
| Man | Ⓐ |
| Lahore | Ⓑ |
| Woman | Ⓒ |
| Country | Ⓓ |

35. Identify **the adjective** from the given sentence.

That palace was the giant building.

- | | |
|----------|---|
| that | Ⓐ |
| giant | Ⓑ |
| palace | Ⓒ |
| building | Ⓓ |

36. Read the sentence and identify the pronoun.

We are wating for the bus.

- | | |
|-----|---|
| bus | Ⓐ |
| are | Ⓑ |
| for | Ⓒ |
| we | Ⓓ |

37. Complete the sentence with the correct word.

This basket contains _____ fruits.



- | | |
|------|---|
| much | Ⓐ |
| many | Ⓑ |
| some | Ⓒ |
| any | Ⓓ |

38. The Future Tense of the given sentence is

They were invited to an event.

They shall invited to an event. Ⓐ

They will be invited to an event. Ⓑ

They will invited to an event. Ⓒ

They will have invited to an event. Ⓓ

39. Select the correct word to complete the sentence.

_____ do you see them?

What Ⓐ

Where Ⓑ

Which Ⓒ

Whom Ⓓ

40. Choose the sentence which is in Simple Present Tense.

We are eating. Ⓐ

Did you see them? Ⓑ

He likes to play cricket. Ⓒ

I have been working since morning. Ⓓ

41. Identify the Future Simple Tense of the given sentence.

My mother guides me.

My mother will guide me. Ⓐ


My mother will be guide me. Ⓑ

My mother will be guided me. Ⓒ

My mother will be guiding me. Ⓓ

42. Write **any two** sentences about your school.

(02 Marks)



1)

2)

43. Read the passage carefully and write the answers of the given questions.

(03 Marks)

Greedy Dog

A hungry dog stole the piece of meat from a butcher's shop .It ran away with meat in its mouth. As it crossed the bridge, it saw its reflections in the water. It thought it was another dog with meat in its mouth .It wanted the other piece of meat also. It opened its mouth to grab the other piece of meat. The meat in its mouth fell into the water and was lost it remained hungry.

1) From where did the dog steal the meat?

2) What did it see in the water?

3) Define the word "butcher".

44. Write the past tense of the given words. (03 Marks)

Buy _____

Tell _____

Climb _____

45. Rewrite the following sentences with the appropriate punctuation. (02 Marks)

a) big city a karachi is.

b) the sleeping on he is bed.

46. Write the opposites of the given words. (02 Marks)

a) Old: _____

b) Empty: _____