



# Promoting Private Schooling in Rural Sindh (PPRS)

Assessment Feb - Mar 2019



Sindh Education Foundation  
Government of Sindh

Assessment Unit

Subject	Marks	Time
Sindhi	15	25 Minutes
Mathematics	20	35 Minutes
Science	20	30 Minutes
English	20	30 Minutes
<b>Total</b>	<b>75</b>	<b>120 Minutes</b>

## INSTRUCTIONS FOR THE STUDENT

شاگرد جي لاءِ هدايتون

## Objective Part

معروضي حصو

▪ All questions are compulsory.	▪ سڀ سوال لازمي آهن.
▪ All questions carry equal marks.	▪ سڀني سوالن تي هڪ جيتريون مارڪون رکيل آهن.
▪ Do not fill more than one option for one question. Multiple options will be considered wrong.	▪ هڪ سوال جي جواب لاءِ هڪ کان وڌيڪ اختيارن کي نه ڀريو. گهڻن اختيارن واري جواب کي غلط تصور ڪيو ويندو.
▪ Fill correct options according to the following example.	▪ جوابن کي هيٺ ڏنل مثال مطابق چڱيءَ ريت ڀريو.
<p style="text-align: center;">A  <input checked="" type="radio"/> B  C  D</p>	
▪ Pencil should be used to fill the answers.	▪ جوابن واري گولڙي کي ڀرڻ لاءِ پينسل جو استعمال ڪريو.
▪ Finish each part in the given time as mentioned in the paper.	▪ پيپر ۾ ڏنل هر هڪ حصي کي ڏنل وقت مطابق حل ڪريو.
▪ Use the given blank page for rough work.	▪ رف ڪم لاءِ ڏنل خالي صفحو استعمال ڪريو.

## INSTRUCTIONS FOR THE STUDENT

شاگرد جي لاءِ هدايتون

### Subjective Part

موضوعي حصو

▪ All questions are compulsory.	▪ سڀ سوال لازمي آهن.
▪ Finish each question in the given time as mentioned in the paper.	▪ موضوعي حصي کي پيپر ۾ ڏنل وقت مطابق حل ڪريو.
▪ Avoid over writing or untidy work.	▪ ٻڻي لکڻي ۽ ڊاهه ڊوهه واري ڪم کان پاسو ڪريو.
▪ Use the given blank page for math's rough work.	▪ رياضيءَ جو رڻ ڪم ڪرڻ لاءِ ڏنل خالي صفحو استعمال ڪريو.
▪ Pencil should be used to write the answers.	▪ جواب لکڻ لاءِ پينسل جو استعمال ڪريو.

### MCQ Practice

1. Name of our country is

1. اسانجي ملڪ جونالو آهي

Kenya.

Ⓐ

ڪينيا.

Pakistan.

Ⓑ

پاڪستان.

Indonesia.

Ⓒ

انڊونيشيا.

2. Add.

2. جوڙ ڪريو.

$$2 + 2 = \underline{\hspace{2cm}}.$$

4

Ⓐ

6

Ⓑ

8

Ⓒ

## سنڌي

1. هيٺ ڏنل لفظ جي معنيٰ ڪهڙي آهي؟

### ڄمار

- ڪردار (A)
- لاچار (B)
- عُمر (C)

2. شب قدر ڪڏهن ملهائي ويندي آهي؟

- 27 رمضان جي رات (A)
- 27 شوال جي رات (B)
- 27 ذوالقعد جي رات (C)

3. شهيد راشد منھاس کي سندس سورهياڻيءَ تي پاڪستان جو ڪهڙو وڏو قومي تمغو ڏنو ويو؟

- نشانِ حيدر (A)
- تمغهءِ خدمت (B)
- هلالِ امتياز (C)

4. پنجن سالن تائين جي عُمر وارن ٻارن کي ڪهڙي بيماريءَ جاڻڻا پياريا ويندا آهن؟

(A)

مُدي جو بخار

(B)

اُرڙي

(C)

پوليو

5. سنڌي ٻوليءَ جي گرامر ۾ ڳالهائڻ جا ڪيترا لفظ آهن؟

(A)

ڇهه

(B)

ست

(C)

اٺ

6. هيٺ ڏنل لفظ جو ضد ڪهڙو ٿيندو؟

**فائدو**

(A)

نقصان

(B)

جنگ

(C)

آزادي

7. هيٺ ڏنل جملن ۾ صحيح جڳهه تي پوري ڌم (.) ۽ سوال جي نشاني (?) کي استعمال ڪريو. 02 مارڪون

الف. احمد اچي ٿو

ب. توهان ڪٿي رهندا آهيو

8. هيٺ ڏنل جملن مان اسم عام ڳولي خاني ۾ لکو. 02 مارڪون

الف. هيءَ اسان جي ٻڪري آهي.

ب. هوءَ اسڪول وئي آهي.


9. جيڪي لفظ اسم جو گڻ، اوگڻ، قسم، قد ۽ مقدار ڏيکارين، تن کي صفت چئبو آهي. هيٺ ڏنل جملن مان صفت وارن لفظن جي هيٺيان ليڪَ (—) پايو. 02 مارڪون

الف. انب منو آهي.

ب. اُٺ ڊگهو جانور آهي.



03 مارڪون



10. هيٺ ڏنل نعمتن مان ڪنهن به هڪ تي ٽي جملا لکو.



---

---

---

---

## **Rough Work**

## Mathematics

11. Identify the place value of the given circled number. 11. گولڙو پاٽل انگ جي مڪاني ملهه جي سڃاڻپ ڪريو.

4 5 6 6 ⑦ 2

Unit	(A)	ايڪا
Ten	(B)	ڏهاڪا
Hundred	(C)	سَوَ

12. Identify the greatest number from the following. 12. هيٺ ڏنل عددين مان وڏي عدد جي سڃاڻپ ڪريو.

4031, 2092, 7777

4031	(A)
2092	(B)
7777	(C)

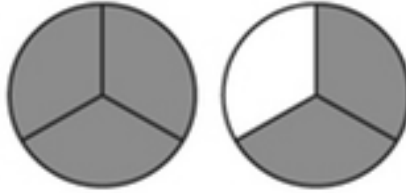
13. A shopkeeper got profit of Rs 82,653 in the first month and Rs 75,968 in the second month. The total profit of both the months would 13. هڪ دڪاندار کي پهريئن مهيني ۾ 82,653 روپيا ۽ ٻئي مهيني ۾ 75,968 روپيا فائدو ٿيو. ٻنهي مهينن جو ڪل ملائي فائدو ٿيندو

Rs 138,645	(A)
Rs 143,557	(B)
Rs 158,621	(C)

14. A man had Rs 988,500. He purchased a house in Rs 825,000. How many rupees are left with him?
14. هڪ ماڻهو وٽ 988,500 روپيا هئا. هن 825,000 روپين جو هڪ گهر خريد ڪيو. ٻڌايو ته ان وٽ باقي ڪيترا پيسا بچيا؟

- Rs 163,500 (A)
- Rs 172,100 (B)
- Rs 180,700 (C)

15. Identify the compound fraction of the shaded parts of the given figures.
15. هيٺ ڏنل شڪلين جي رنگ ڀريل حصن جي گڏيل اڻڀور ۾ سڃاڻپ ڪريو.



- $1\frac{1}{3}$  (A)
- $1\frac{2}{3}$  (B)
- $2\frac{1}{3}$  (C)
16.  $\frac{1}{2} - \frac{2}{5} = \underline{\hspace{2cm}}$ .

- $\frac{1}{10}$  (A)
- $\frac{3}{10}$  (B)
- $\frac{9}{10}$  (C)

17.  $(2 \times 3) + 5 = \underline{\hspace{2cm}}$ .

10

Ⓐ

11

Ⓑ

13

Ⓒ

18.  $5 \div \frac{5}{4} = \underline{\hspace{2cm}}$ .

4

Ⓐ

5

Ⓑ

9

Ⓒ

19. There are 12 colour pencils in 1 box. How many pencils will be in 8 such boxes? Show steps.

19. 1 دٻي ۾ 12 رنگين پينسلون آهن. ٻڌايو ته اهڙن 8 دٻن ۾ ڪل ڪيتريون پينسلون ٿينديون؟ مرحلا ڏيکاريو.

(03 Marks)



---

---

---

---

---

---

---

20. In a carton, there are 18 packets of juice. How many cartons are required to pack 216 juices? Show steps.

20. هڪ ڊبي ۾ جوس جا 18 پيڪيٽ آهن. ٻڌايو ته 216 جوس جا پيڪيٽ رکڻ لاءِ ڪيترا ڊبا ڪپندا؟ مرحلا ڏيکاريو.

(03 Marks)



---

---

---

---

---

---

21. Find the LCM of 10 and 12. Show steps.

21. 10 ۽ 12 جي ننڍي عام پڇ ايت لهو. مرحلا ڏيکارو.

(03 Marks)

---

---

---

---

---

---

22. Divide the following. Show steps.

22. ونڊ ڪريو. مرحلا ڏيکارو.

$$22.36 \div 4$$

(03 Marks)

---

---

---

---

---

---



## Science

23. The frame of bones in a human body is called
- انساني جسم ۾ موجود هڏين جو سانچو چورائيندو آهي
- structure. (A) بناوت.
- skeleton. (B) ڍانچو.
- skull. (C) کپڙي.
24. A person can lift and move objects because of its
- هڪ ماڻهو مختلف شين کي جنهن سبب جي ڪري کڻي ۽ لوڏي سگهي ٿو، اهو آهي
- cell. (A) جيوگهرڙو.
- weight. (B) وزن.
- muscles. (C) مشڪون.
25. In the process of Photosynthesis, plants prepare their food with the help of
- روشنائيي تركيب واري عمل ۾ ٻوٽا جنهن روشني جي مدد سان پنهنجو کاڌو تيار ڪندا آهن، اها روشني آهي
- sunlight. (A) سج جي روشني.
- candlelight. (B) مِيڻ بتي جي روشني.
- moonlight. (C) چنڊ جي روشني.

26. The percentage of water contained in a human body is

26. انساني جسم ۾ پاڻي جو مقدار آهي

45%

Ⓐ

45 سيڪڙو

65%

Ⓑ

65 سيڪڙو

70%

Ⓒ

70 سيڪڙو

27. The eggs of a frog are called

27. ڏيڌر جي آنڊن/بيضن کي چئبو آهي

spawn.

Ⓐ

اسپان.

prawn.

Ⓑ

پران.

caviar.

Ⓒ

ڪيويئر.

28. The term “primary consumer” refers to

28. “شروعاتي واپرائيندڙ/ صارف” هوندا آهن

plant.

Ⓐ

پوٽا.

animal.

Ⓑ

جانور.

human.

Ⓒ

انسان.

29. Flying birds have bodies that are

29. اڏامندڙ پکين جو جسم هوندو آهي

light weight.

Ⓐ

گهٽ وزن وارو.

heavy weight.

Ⓑ

گهڻي وزن وارو.

moderately weight.

Ⓒ

وچٿري وزن وارو.

30. The important factor that can change solid into liquid and liquid into gas

30. هڪ اهم جزو جيڪو نهري کي پاڻياٺ ۾ ۽ پاڻياٺ کي گيس ۾ تبديل ڪري ٿو، اهو آهي

ice.

Ⓐ

برف.

heat.

Ⓑ

گرمي.

steam.

Ⓒ

ٻاڦ.

31. Suggest **any three** ways to maintain good health. ڪي به ٽي اهڙا طريقا ٻڌايو جن سان سٺي صحت کي برقرار رکي سگهجي.

(03 Marks)

---

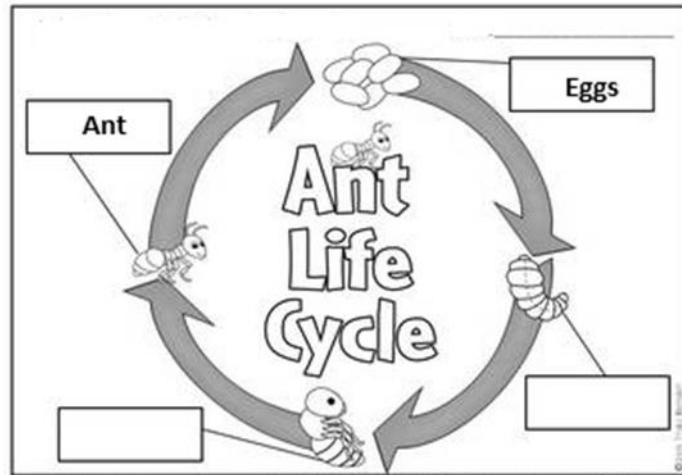
---

---

---

32. Label the life cycle of an ant in the given picture. هيٺ ڏنل تصوير ۾ ماکوڙي جي جيون چڪر/ حياتي چڪر تي نالا لکو.




(02 Marks)



33. Classify the state of matter by placing a tick in the relevant column.

33. هيٺ ڏنل تصويرن کي ڏسو ۽ مادي جي تنهنجي حالتن جي سڃاڻپ ڪندي لاڳاپيل خاني ۾ ٽڪ جون نشان لڳايو.

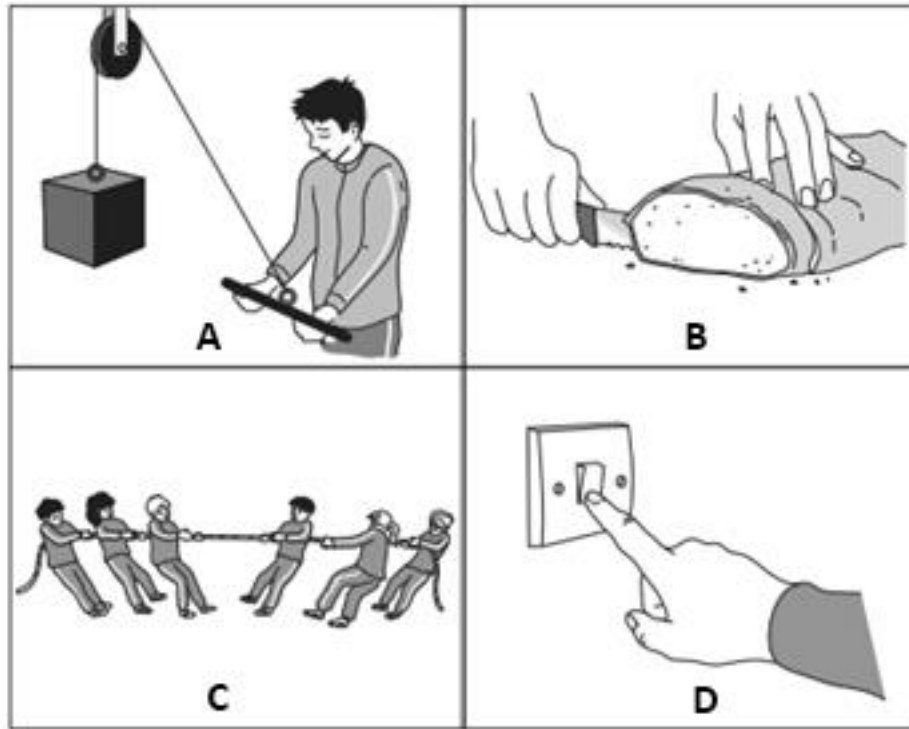
(03 Marks)

	Solid گيس	Liquid پاڻياڻ	Gas نهرو
 Ice برف			
 Ocean سمندر			
 Steam ٻاق			

34. (a) Define Force.

34. زور جي وصف لکو.

(04 Marks)



b) Identify **any one** picture that shows a **pulling force**. Circle the correct answer.

ڪنهن به هڪ تصوير ۾ ڇڪڻ واري طاقت جي سڃاڻپ ڪريو. صحيح جواب تي گولڙو پايو.

A

B

C

D

c) Which of the given pictures is showing the **pushing forces**? Circle the **two** correct answers.

ڏنل تصويرن مان ڪهڙيون ڌڪڻ جي طاقت کي ظاهر ڪري رهيون آهن؟ صحيح جوابن تي گولڙو پايو.

A

B

C

D

## English

35. Ali, I saw \_\_\_\_ mother in the market yesterday.



his

Ⓐ


its

Ⓑ

your

Ⓒ

36. \_\_\_\_\_ is a pencil.



This

Ⓐ

Them

Ⓑ

These

Ⓒ

37. Identify the correct verb in the given sentence.

I am \_\_\_\_\_ my favourite book.

read

Ⓐ

reading

Ⓑ

red

Ⓒ

38. The book is \_\_\_\_ the chair.



in

Ⓐ

on

Ⓑ

at

Ⓒ



39. Choose the correct word to complete the following sentence.

Today is very hot. The day is \_\_\_\_\_.

dry (A)

sunny (B)

overcast (C)

40. Identify the Imperative sentence from the given sentences.

Tell me the time. (A)

Please tell me the time. (B)

Can you tell me the time? (C)

41. \_\_\_\_\_ for helping me today.



May I (A)

Thank you (B)

Sorry (C)

42. Choose the appropriate option for the given sentence to make it Present Simple Tense.

The moon \_\_\_\_\_ brightly.

shines

Ⓐ

shined

Ⓑ

shining

Ⓒ

**43.** Rewrite the following sentences using appropriate punctuation. **(03 Marks)**

a) i am so happy to see you

---

b) will you come at my party

---

c) i like banana \_\_ mango and apple

---

**44.** Write any two sentences using “can”. **(02 Marks)**

a) \_\_\_\_\_

b) \_\_\_\_\_

45. Look at the pictures and write complete sentences in Present Continuous Tense. (03 Marks)



---



---



---

46. Look at the picture and write what is happening in the picture. (04 Marks)



---

---

---

---

---

---

---