



SEF Assisted Schools (SAS)

Existing School Support Program (ESSP) Assessment Feb - Mar 2019



Sindh Education Foundation
Government of Sindh

Assessment Unit





Subject	Marks	Time
English	15	40 Minutes
Mathematics	15	40 Minutes
General Knowledge	20	40 Minutes
Total	50	120 Minutes

INSTRUCTIONS FOR THE STUDENT

طلباء کے لئے ہدایات

Objective Part

معروضی حصہ

▪ All questions are compulsory.	▪ تمام سوالات لازمی ہیں۔
▪ All questions carry equal marks.	▪ تمام سوالات کے مارکس یکساں ہیں۔
▪ Do not fill more than one option for one question. Multiple options will be considered wrong.	▪ ایک سوال کے جواب کے لئے صرف ایک ہی اختیار کو پر کریں۔ ایک سے زیادہ جوابات غلط تصور کئے جائیں گے۔
▪ Fill correct options according to the following example.	▪ سوالات کے جوابات دی گئی مثال کے مطابق حل کریں۔
<div style="text-align: center;">     </div>	
▪ Pencil should be used to fill the answers.	▪ جوابات دینے کے لئے پنسل کا استعمال کریں۔
▪ Finish each part in the given time as mentioned in the paper.	▪ پرچے میں موجود سوالات کو دئے گئے وقت کے مطابق حل کریں۔
▪ Use the given blank page for rough work.	▪ رف ورک کے لئے کتابچے میں موجود خالی صفحہ استعمال کریں۔

INSTRUCTIONS FOR THE STUDENT

طلباء کے لئے ہدایات

Subjective Part

موضوعی حصہ

▪ All questions are compulsory.	▪ تمام سوالات لازمی ہیں۔
▪ Finish each question in the given time as mentioned in the paper.	▪ پرچے میں موجود موضوعی حصے کو دیے گئے وقت کے مطابق حل کریں۔
▪ Avoid over writing or untidy work.	▪ گندی اور خراب لکھائی سے پرہیز کریں۔
▪ Use the given blank page for math's rough work.	▪ حساب کا رف کام کرنے کے لئے دیے گئے خالی پرچے کا استعمال کریں۔
▪ Pencil should be used to write the answers.	▪ جوابات دینے کے لئے پنسل کا استعمال کریں۔

MCQ Practice

1. Name of our country is

1. ہمارے ملک کا نام ہے

Kenya.

(A)

کینیا۔

Pakistan.

(B)

پاکستان۔

Indonesia.

(C)

انڈونیشیا۔

2. Add.

2. جمع کریں۔

$$2 + 2 = \underline{\hspace{2cm}}.$$

4

(A)

6

(B)

8

(C)

English

1. Identify the proper noun.

Father	Ⓐ
Ahmed	Ⓑ
Boy	Ⓒ

2. Fill the past tense from the following words.

Run

ran	Ⓐ
rain	Ⓑ
runned	Ⓒ

3. Select the sentence that has the correct use of apostrophe.

This is Saba's bag.	Ⓐ
This is Sabas' bag.	Ⓑ
This is Saba!s bag.	Ⓒ

4. Identify the masculine.

hen

Ⓐ

bull

Ⓑ

aunty

Ⓒ

5. Choose the common noun.

Girl

Ⓐ

Shabir

Ⓑ

Karachi

Ⓒ

6. Complete the following sentence by choosing suitable article.

I ate _____ egg in the breakfast.

a

Ⓐ

an

Ⓑ

the

Ⓒ

7. With the help of a line, (—) match the following nouns with their appropriate pronouns.

(Marks 03)

Noun		Pronoun
Dog		She
Hina		He
Ahmed and Sheeraz		We
Faraz		They

8. Write the plural of the given words.

(Marks 02)

Singular	Plural
Tooth	
Child	

9. Rewrite the following sentence by using proper punctuations.

(Mark 01)

are you coming today

10. Read the passage carefully and write the answers of given questions.

(Marks 03)

“A Picnic”

Ali and his family are going for a picnic. They are keeping food and drinks in the basket. His sister takes skipping and his brother takes football. Ali’s Father will drive the car which is in red color it can go fast and far. Ali and his family will enjoy a lot. It will be memorable picnic.

i) Where is Ali and his family going?

ii) What did they keep in the basket?

iii) Who will drive the car?

“Rough Work”

Mathematics

11. 17 in Roman number is written as

11. 17 کو رومن عدد میں لکھیں گے

XIX

(A)

XVII

(B)

XIII

(C)

12. Identify the 3-digit number from the following.

12. دئے گئے میں سے تین عددی نمبر کی نشاندہی کریں۔

9

(A)

18

(B)

365

(C)

13. Which of the following units is used to measure the length of pencil?

13. دی گئی اکائیوں میں سے کون سی اکائی پینسل کی لمبائی جاننے کے لئے استعمال کی جاتی ہے؟



metre

(A)

میٹر

kilometre

(B)

کلومیٹر

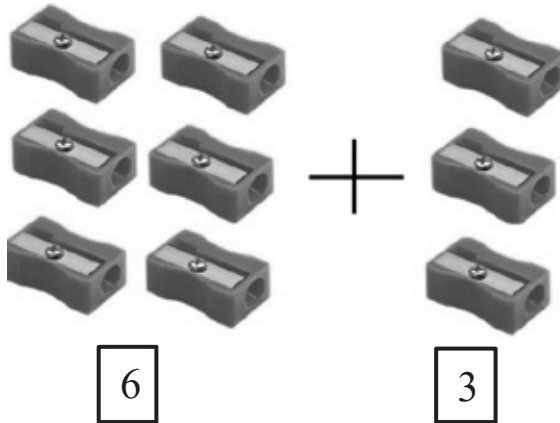
centimetre

(C)

سینٹی میٹر

14. Add.

14. جمع کریں۔



5

(A)

8

(B)

9

(C)

15. 6 birds are sitting on a tree out of which 3 flew away, how many birds are sitting on a tree now?

15. ایک درخت پر 6 پرندے بیٹھے ہیں، اگر ان میں سے 3 اڑ جائیں تو بتائیے درخت پر اب کتنے پرندے بیٹھے ہیں؟



2

(A)

3

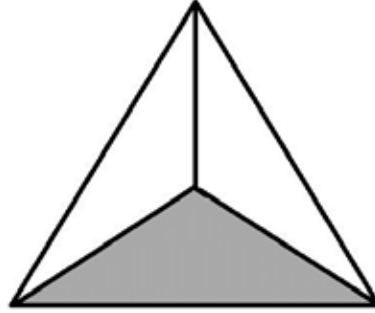
(B)

5

(C)

16. Identify the fraction of the shaded part in the given figure.

16. دی گئی شکل میں رنگ بھرے ہوئے حصہ کی کسر کی صورت میں نشانہ ہی کریں۔



$\frac{1}{2}$
 $\frac{1}{3}$
 $\frac{2}{3}$

(A)


(B)

(C)

17. Distance between Karachi, Jamshoro and Matiari is shown on the map below. Find the distance from Karachi to Matiari. Show steps.

17. دیے گئے نقشے میں کراچی، جامشورو اور ٹیاری کے درمیان فاصلہ دکھایا گیا ہے۔ کراچی اور ٹیاری کے درمیان فاصلہ معلوم کریں۔ مراحل دکھائیں۔

(Marks 03)



18. There are 4 cupcakes in a plate.
How many cupcakes would be in
such 12 plates? Show steps.

18. ایک پلیٹ میں 4 کپ کیک ہیں۔ ایسی 12 پلیٹوں میں کتنے کپ
کیک ہوں گے؟ مراحل دکھائیں۔

(Marks 03)



19. Write the time in the given boxes in **a.m** or **p.m** as shown in the following clocks. دیے گئے باکس میں گھڑیوں میں دکھائے گئے وقت کے مطابق **a.m** اور **p.m** میں نام لکھیں۔

(Marks 3)

Night

رات



After Noon

دوپہر



Evening

شام



General Knowledge

20. Energy, which we get from the sun is called ہم جو توانائی سورج سے حاصل کرتے ہیں، اسے کہتے ہیں

wind energy.

(A)

ہوائی توانائی۔

solar energy.

(B)

شمسی توانائی۔

food energy.

(C)

خوراک کی توانائی۔

21. The Polar region of earth is very

21. زمین کا قطبی خطہ ہے بہت

hot.

(A)

گرم۔

cold.

(B)

ٹھنڈا۔

humid.

(C)

نم۔

22. The body of the given animal is covered with

22. دیے گئے جانور کا جسم ڈھکا ہوا ہے



fur.

(A)

بالوں سے۔

scales.

(B)

چھلکوں سے۔

feathers.

(C)

پروں سے۔

23. In the life cycle of a frog, the second stage is

23. مینڈک کی زندگی کے چکر میں دوسرا مرحلہ ہے

eggs.

(A)

انڈے۔

froglet.

(B)

فراگلیٹ۔

tadpole.

(C)

ٹیڈ پول۔

24. Identify the food group from the given picture.

24. دی گئی تصویر میں دکھائے گئے غذا کے گروہ کی نشاندہی کریں۔



Milk and dairy

Ⓐ

دودھ اور اس سے بنی اشیاء

Carbohydrate

Ⓑ

نشاستہ

Vegetable

Ⓒ

سبزیاں

25. Which of the following teeth are used to rip and tear food?

25. دیے گئے دانتوں میں سے کون سے دانت کھانے کو چیرنے کے کام آتے ہیں؟

Incisors

Ⓐ

انسزور

Canines

Ⓑ

کنائن

Molars

Ⓒ

مولر

26. Identify the natural resource from the following.

26. دیے گئے میں سے قدرتی ذرائع کی نشاندہی کریں۔

Air

Ⓐ

ہوا

Plastic

Ⓑ

پلاسٹک

Cement

Ⓒ

سیمنٹ

27. Identify the given plant.

27. دیے گئے پودے کی نشاندہی کریں۔



biome

Ⓐ

بايوم

cactus

Ⓑ

کیکٹس

aloe vera

Ⓒ

ایلوویرا

28. The water cycle is shown in the diagram below.

28. دی گئی تصویر میں آبی چکر دکھایا گیا ہے۔

(Marks 02)



Choose the best suitable words to fill and complete the following sentence given below.

درج ذیل الفاظ میں سے مناسب لفظ سے دیے گئے جملے مکمل کریں۔

Sun

سورج

Water vapors

آبی بخارات

Clouds

بادل

Heat from the _____ turns the water in the sea and lakes into _____. then water falls as rain.

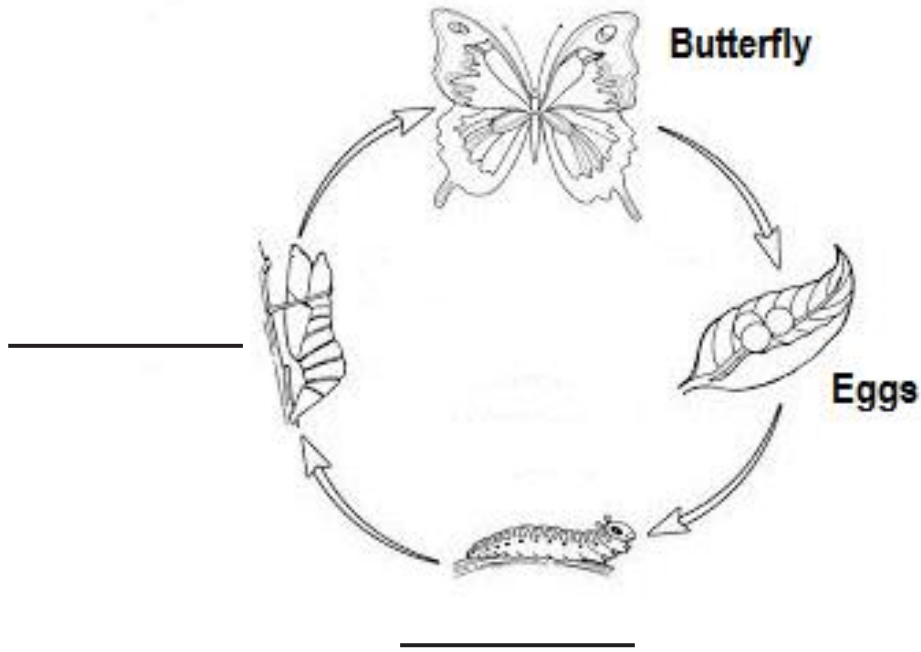
جو گرمی _____ سے ملتی ہے وہ سمندر اور جھیلوں کے پانی کو _____ میں

تبدیل کرتی ہے۔ اس کے بعد بارش ہوتی ہے۔

29. Label the following diagram.

29. دی گئی تصویر کو لیبل کریں۔

(Marks 02)



30. Explain the features and importance of forest.

30. جنگلات کی خصوصیات اور اہمیت بیان کریں۔

(Marks 02)

Ans. _____

31. Write **any two** points on the importance of minerals.

31. معدنیات کی اہمیت کے متعلق کوئی بھی دو نکات تحریر کریں۔

(Marks 02)

Ans. _____

32. With the help of a line, (—) match the function of the given parts of a plant.

32. لکیر (—) کی مدد سے دیے گئے پودے کے حصوں کو ان کے کام سے ملائیں۔

(Marks 02)

Parts of Plant پودے کا حصہ		Function کام
Flowers پھول		take in water پانی لینا
Leaves پتے		make seeds بیج بنانا
Roots جڑیں		make food کھانا بنانا

33. Enlist **any two** sources that plants need for healthy growth.

33. پودے کی نشوونما کے لئے کوئی دو ذرائع تحریر کریں۔

(Marks 02)

i) _____

ii) _____