



SEF Assisted Schools (SAS)

Existing School Support Program (ESSP) Assessment Feb - Mar 2019



Sindh Education Foundation
Government of Sindh

Assessment Unit





Subject	Marks	Time
English	15	40 Minutes
Mathematics	15	40 Minutes
General Knowledge	20	40 Minutes
Total	50	120 Minutes

INSTRUCTIONS FOR THE STUDENT

طلباء کے لئے ہدایات

Objective Part

معروضی حصہ

▪ All questions are compulsory.	▪ تمام سوالات لازمی ہیں۔
▪ All questions carry equal marks.	▪ تمام سوالات کے مارکس یکساں ہیں۔
▪ Do not fill more than one option for one question. Multiple options will be considered wrong.	▪ ایک سوال کے جواب کے لئے صرف ایک ہی اختیار کو پر کریں۔ ایک سے زیادہ جوابات غلط تصور کئے جائیں گے۔
▪ Fill correct options according to the following example.	▪ سوالات کے جوابات دی گئی مثال کے مطابق حل کریں۔
<div style="text-align: center;">     </div>	
▪ Pencil should be used to fill the answers.	▪ جوابات دینے کے لئے پنسل کا استعمال کریں۔
▪ Finish each part in the given time as mentioned in the paper.	▪ پرچے میں موجود سوالات کو دئے گئے وقت کے مطابق حل کریں۔
▪ Use the given blank page for rough work.	▪ رف ورک کے لئے کتابچے میں موجود خالی صفحہ استعمال کریں۔

INSTRUCTIONS FOR THE STUDENT

طلباء کے لئے ہدایات

Subjective Part

موضوعی حصہ

▪ All questions are compulsory.	▪ تمام سوالات لازمی ہیں۔
▪ Finish each question in the given time as mentioned in the paper.	▪ پرچے میں موجود موضوعی حصے کو دیے گئے وقت کے مطابق حل کریں۔
▪ Avoid over writing or untidy work.	▪ گندی اور خراب لکھائی سے پرہیز کریں۔
▪ Use the given blank page for math's rough work.	▪ حساب کا رف کام کرنے کے لئے دیے گئے خالی پرچے کا استعمال کریں۔
▪ Pencil should be used to write the answers.	▪ جوابات دینے کے لئے پنسل کا استعمال کریں۔

MCQ Practice

1. Name of our country is

1. ہمارے ملک کا نام ہے

Kenya.

(A)

کینیا۔

Pakistan.

(B)

پاکستان۔

Indonesia.

(C)

انڈونیشیا۔

2. Add.

2. جمع کریں۔

$$2 + 2 = \underline{\hspace{2cm}}.$$

4

(A)

6

(B)

8

(C)

English

1. Fill the past tense of the given word.

Play

Played

Ⓐ

Playied

Ⓑ

Playing

Ⓒ

2. Identify the proper noun from the following words.

Country

Ⓐ

Larkana

Ⓑ

School

Ⓒ

3. Which of the following sentence has the correct use of apostrophe?

This is Zaras' book.

Ⓐ

This is Zara!s book.

Ⓑ

This is Zara's book.

Ⓒ

4. Choose the feminine from the following.

boy

Ⓐ

lion

Ⓑ

sister

Ⓒ

5. Read the sentence and identify the possessive Pronoun.

This car is mine.

car

Ⓐ

This

Ⓑ

mine

Ⓒ

6. Complete the following sentence by choosing the suitable article.

I saw _____ elephant in the circus.

a

Ⓐ

an

Ⓑ

the

Ⓒ

7. With the help of a line, (—) match the following nouns with their appropriate pronouns.

(Marks 03)

Noun		Pronoun
Duck		He
Salwa		She
I and Anita		We
Ali		They

8. Write the singular of the given words.

(Marks 02)

Plural	Singular
Children	
Boxes	

9. Rewrite the following sentence by using proper punctuations.

(Mark 01)

i live in karachi

10. Read the passage carefully and write the answers of given questions.

(Marks 03)

“Eid festival”

Eid-ul-fiter is a religious festival for all Muslims. Eid comes after the holy month of Ramadan on the 1st Shawal each year. All Muslims go to mosque to offer prayers on Eid day. Then they say Eid Mubarak to one and another. Children wear new clothes and get Eidi from their parents. They eat sweet dishes. They visit their relatives and say them Eid Mubarak. Relatives give sweets, cakes and gifts to each other.

i) When does Eid come?

ii) What do you do on Eid day?

iii) Write **any one** verb from the given paragraph?

“Rough Work”

“Rough Work”

Mathematics

11. 15 in Roman number is written as

11. 15 کو رومن عدد میں لکھیں گے

XII

(A)

XIV

(B)

XV

(C)

12. Identify the 3-digit number from the following.

12. دیے گئے میں سے تین عددی نمبر کی نشاندہی کریں۔

77

(A)

458

(B)

1000

(C)

13. Which of the following units is used to measure the height of ladder?

13. دی گئی اکائیوں میں سے کون سی اکائی سیڑھی کی اونچائی جاننے کے لئے استعمال کی جاتی ہے؟



metre

(A)

میٹر

kilometre

(B)

کلومیٹر

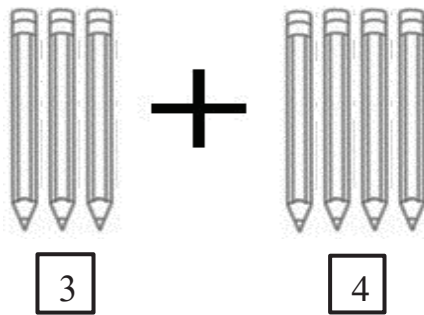
centimetre

(C)

سینٹی میٹر

14. Add.

14. جمع کریں۔



5

(A)

7

(B)

8

(C)

15. 5 birds are sitting on a tree out of which 3 flew away, how many birds are sitting on a tree now?

15. ایک درخت پر 5 پرندے بیٹھے ہیں، اگر ان میں سے 3 اڑ جائیں تو بتائیے درخت پر اب کتنے پرندے بیٹھے ہیں؟



0

(A)

2

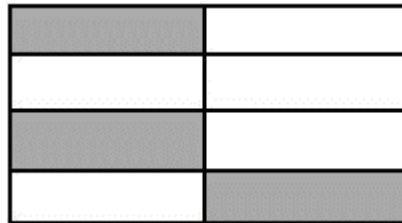
(B)

3

(C)

16. Identify the fraction of the shaded parts in the given figure.

16. دی گئی شکل میں رنگ بھرے ہوئے حصوں کی کسر کی صورت میں نشاندہی کریں۔



$\frac{1}{8}$

(A)

$\frac{3}{8}$

(B)

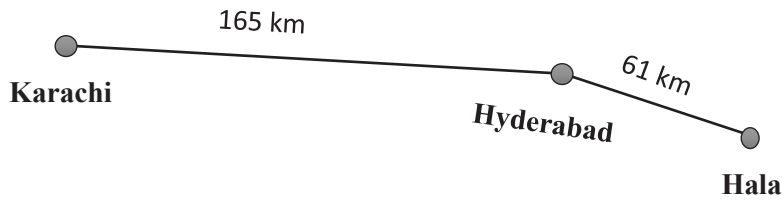
$\frac{5}{8}$

(C)

17. Distance between Karachi, Hyderabad and Hala is shown on the map below. Find the distance from Karachi to Hala. Show steps.

17. دیے گئے نقشے میں کراچی، حیدرآباد اور ہالا کے درمیان فاصلہ دکھایا گیا ہے۔ کراچی اور ہالا کے درمیان فاصلہ معلوم کریں۔ مراحل دکھائیں۔

(Marks 03)



18. There are 15 pencils in a jar. How many pencils would be in such 5 jars? Show steps.

18. ایک جار میں 15 پنسلیں ہیں۔ ایسے 5 جاروں میں کتنی پنسلیں ہوں گی؟ مراحل دکھائیں۔

(Marks 3)



19. Write the time in the given boxes in **a.m** or **p.m** as shown in the following clocks. 19. دیے گئے باکس میں گھڑیوں میں دکھائے گئے وقت کے مطابق a.m اور p.m میں نام لکھیں۔

(Marks 3)

After Noon

دوپہر



Morning

صبح



Night

رات



General Knowledge

20. Plants get their energy from

20. پودے توانائی حاصل کرتے ہیں

sun.

(A)

سورج سے۔

star.

(B)

ستاروں سے۔

moon.

(C)

چاند سے۔

21. A desert habitat is hot and

21. ریگستان کی آب و ہوا ہوتی ہے گرم اور

dry.

(A)

خشک۔

cold.

(B)

سرد۔

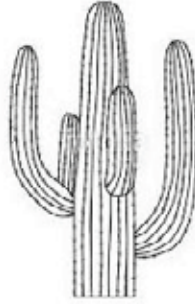
rainy.

(C)

برساتی۔

22. Identify the given plant.

22. دئے گئے پودے کی نشاندہی کریں۔



Aloe vera

(A)

ایلو ویرا

Cactus

(B)

کیکٹس

Baobab

(C)

باو باب

23. The body of the given animal is covered with

23. دیے گئے جانور کا جسم ڈھکا ہوا ہے



hair.

(A)

بالوں سے۔

scales.

(B)

چھلکوں سے۔

feathers.

(C)

پروں سے۔

24. In the life cycle of a butter fly, Chrysalis is the

24. تتلی کی زندگی کے چکر میں کرائسلیس ہے

first stage.

(A)

پہلا مرحلہ۔

third stage.

(B)

تیسرا مرحلہ۔


fourth stage.

(C)

چوتھا مرحلہ۔

25. Identify the food group from the given picture.

25. دی گئی تصویر میں دکھائے گئے غذا کے گروہ کی نشاندہی کریں۔



Protein

(A)

لحمیات

Carbohydrate

(B)

نشاستہ

Fats and sugar

(C)

چکنائی اور شکر

26. Which of the following teeth are used for crushing food? دیے گئے دانتوں میں سے کونسے غذا کو کچلنے کے کام آتے ہیں؟

Incisors

Ⓐ

انسزور

Molars

Ⓑ

مولرز

Canines

Ⓒ

کنائنز

27. Identify the natural resource from the following. دیے گئے میں سے قدرتی ذرائع کی نشاندہی کریں۔

Water

Ⓐ

پانی

Plastic

Ⓑ

پلاسٹک

Nylon

Ⓒ

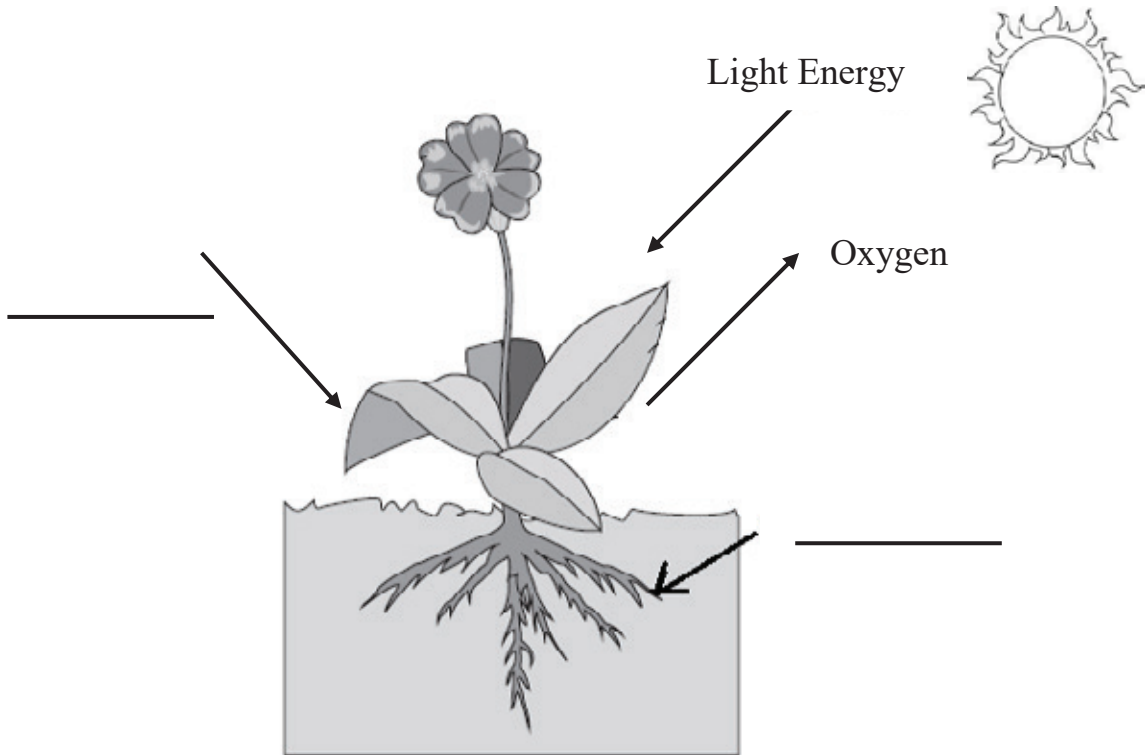
نائلون

28. Label the remaining elements of the given picture with the help of given words.

28. دی گئی تصویر کے باقی ماندہ عناصر کو ٹیبل میں دیے گئے الفاظ کی مدد سے لیبل کریں۔

(Marks 02)

Water	Carbon dioxide	Carbon monoxide
پانی	کاربن ڈائی آکسائیڈ	کاربن مونو آکسائیڈ



29. What are the basic needs that a habitat must provide to an animal or a plant? Write **any two**.

29. وہ کونسی دو بنیادی ضروریات ہیں جو کسی ماحول میں جانور یا پودوں کے لئے ضروری ہیں۔ کوئی بھی دو لکھیں۔

(Marks 02)

i) _____

ii) _____

30. Explain the features and importance of forest.

30. جنگلات کی خصوصیات اور اہمیت بیان کریں۔

(Marks 02)

Ans. _____

31. Write any two points on the importance of minerals.

31. معدنیات کی اہمیت کے متعلق کوئی دو نکات تحریر کریں۔

(Marks 02)

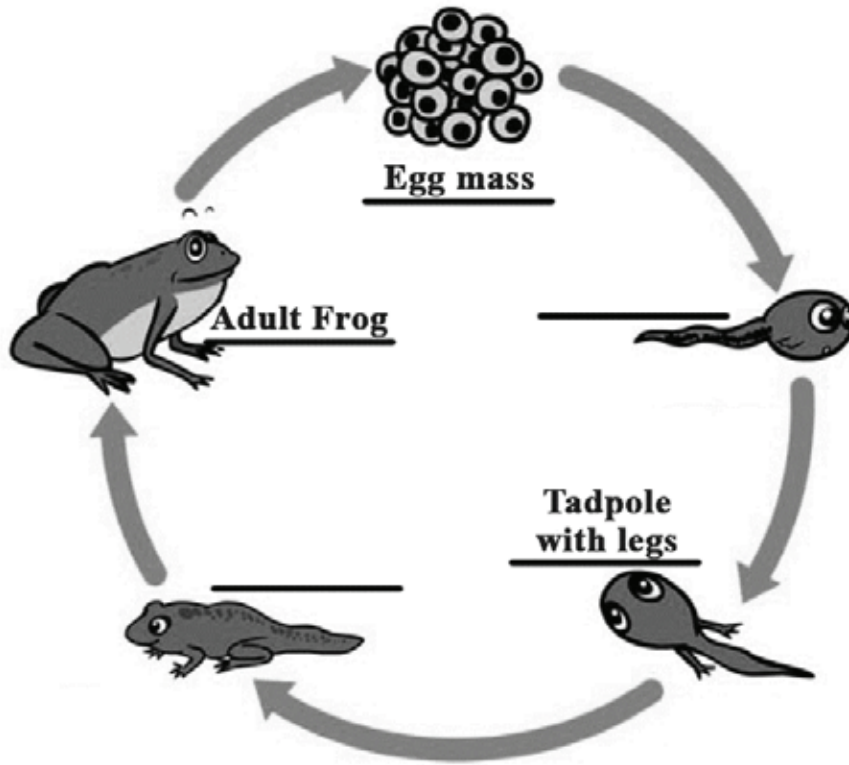
Ans. 1. _____

2. _____

32. Complete the life cycle of a frog.

32. مینڈک کے حیاتی چکر کو مکمل کریں۔

(Marks 02)



33. Complete the water cycle with the help of arrows (→). تیر (←) کے نشان کی مدد سے آبی چکر کو مکمل کریں۔

(Marks 02)

