



Promoting Private Schooling in Rural Sindh (PPRS)

Assessment Feb - Mar 2019



Sindh Education Foundation
Government of Sindh

Assessment Unit

| Subject | Marks | Time |
|--------------|-----------|--------------------|
| Sindhi | 15 | 25 Minutes |
| Mathematics | 20 | 35 Minutes |
| Science | 20 | 30 Minutes |
| English | 20 | 30 Minutes |
| Total | 75 | 120 Minutes |

INSTRUCTIONS FOR THE STUDENT

شاگرد جي لاءِ هدايتون

Objective Part

معروضي حصو

| | |
|---|--|
| ▪ All questions are compulsory. | ▪ سڀ سوال لازمي آهن. |
| ▪ All questions carry equal marks. | ▪ سڀني سوالن تي هڪ جيتريون مارڪون رکيل آهن. |
| ▪ Do not fill more than one option for one question. Multiple options will be considered wrong. | ▪ هڪ سوال جي جواب لاءِ هڪ کان وڌيڪ اختيارن کي نه ڀريو. گهڻن اختيارن واري جواب کي غلط تصور ڪيو ويندو. |
| ▪ Fill correct options according to the following example. | ▪ جوابن کي هيٺ ڏنل مثال مطابق چڱيءَ ريت ڀريو. |
| <p style="text-align: center;">A <input checked="" type="radio"/> B C D</p> | |
| ▪ Pencil should be used to fill the answers. | ▪ جوابن واري گولڙي کي ڀرڻ لاءِ پينسل جو استعمال ڪريو. |
| ▪ Finish each part in the given time as mentioned in the paper. | ▪ پيپر ۾ ڏنل هر هڪ حصي کي ڏنل وقت مطابق حل ڪريو. |
| ▪ Use the given blank page for rough work. | ▪ رف ڪم لاءِ ڏنل خالي صفحو استعمال ڪريو. |

INSTRUCTIONS FOR THE STUDENT

شاگرد جي لاءِ هدايتون

Subjective Part

موضوعي حصو

| | |
|---|---|
| ▪ All questions are compulsory. | ▪ سڀ سوال لازمي آهن. |
| ▪ Finish each question in the given time as mentioned in the paper. | ▪ موضوعي حصي کي پيپر ۾ ڏنل وقت مطابق حل ڪريو. |
| ▪ Avoid over writing or untidy work. | ▪ ٻڻي لکڻي ۽ ڊاهه ڊوهه واري ڪم کان پاسو ڪريو. |
| ▪ Use the given blank page for math's rough work. | ▪ رياضيءَ جو رڻ ڪم ڪرڻ لاءِ ڏنل خالي صفحو استعمال ڪريو. |
| ▪ Pencil should be used to write the answers. | ▪ جواب لکڻ لاءِ پينسل جو استعمال ڪريو. |

MCQ Practice

1. Name of our country is

1. اسانجي ملڪ جو نالو آهي

Kenya.

Ⓐ

ڪينيا.

Pakistan.

Ⓑ

پاڪستان.

Indonesia.

Ⓒ

انڊونيشيا.

2. Add.

2. جوڙ ڪريو.

$$2 + 2 = \underline{\hspace{2cm}}.$$

4

Ⓐ

6

Ⓑ

8

Ⓒ

سنڌي

1. هيٺ ڏنل لفظ جو ضد ڪهڙو آهي؟

سولائي

- | | |
|---|--------|
| Ⓐ | مالڪ |
| Ⓑ | جنسار |
| Ⓒ | ڏکيائي |

2. هيٺ ڏنل جملن مان ڪهڙو جملو درست آهي؟

- | | |
|---|-------------------------|
| Ⓐ | احمد ٻاهر وڃي رهيو آهي. |
| Ⓑ | احمد وڃي رهيو ٻاهر آهي. |
| Ⓒ | وڃي رهيو آهي احمد ٻاهر. |

3. هيٺ ڏنل جملي کي مڪمل ڪرڻ لاءِ مناسب لفظ چونڊيو.

ناهيڊ _____ بابا آيو آهي.

- جو (A)
- جا (B)
- تي (C)

4. هيٺ ڏنل جملي ۾ اسم ڪهڙو آهي؟

آسيه ڪم ڪري رهي آهي.

- ڪم (A)
- رهي (B)
- آسيه (C)

5. ٽرئفڪ جي اشارن ۾ ڳاڙهي بتيءَ جو مطلب ڇا آهي؟

- هاڻي گاڏي هلايو. (A)
- هاڻي گاڏي روڪيو. (B)
- هاڻي گاڏي هلڻ لاءِ تيار رکو. (C)

6. هيٺ ڏنل جملي کي مڪمل ڪرڻ لاءِ مناسب لفظ چونڊيو.

ڪالهه منهنجو امتحان _____.

Ⓐ

هو

Ⓑ

آهي

Ⓒ

هوندو

7. هيٺ ڏنل لفظن کي تير وسيلي انهن جي ساڳي معنيٰ وارن لفظن سان ملايو. 03 مارڪون

| لفظ | معنيٰ |
|-------|---------------|
| سياڻو | پراڻو - آڳاٽو |
| جڳ | ناهيو |
| قديم | دنيا - جهان |
| بنايو | ڏاهو |

مثال

03 مارڪون

8. هيٺ ڏنل تصوير کي غور سان ڏسو ۽ پڇيل سوالن جا جواب لکو.



الف. مٿي ڏيکاريل تصوير ڪهڙي جڳهه / جاءِ جي آهي؟

ب. مٿي ڏيکاريل تصوير مان ڪنهن به هڪ ساھ واري جو نالو لکو.

ج. مٿي ڏيکاريل تصوير ۾ ٻار ڇا ڪري رهيا آهن؟

9. ڇا توهان کي خبر آهي ته سنڌي ٻوليءَ ۾ جن لفظن جي آخري اکر تي زُبر (ˆ) ايندي آهي، اُهي
واحد لفظ هوندا آهن. زُبر (ˆ) جي جاءِ تي ون لڳائي ساڳئي لفظ کي جمع ۾ بدلائي ڇڏبو آهي.
03 مارڪون

مثال: تصوير _____ تصويرون
هيٺ ڏنل واحد لفظن کي جمع ۾ بدلايو.

| واحد | جمع |
|--------|-----|
| رِي | |
| بَدَڪَ | |
| تارَ | |

Rough Work

Rough Work

Rough Work

Mathematics

10. Three digits numbers are called

10. ٽه انگي عدد چورائيندا آهن

tens.

(A)

ڏهاڪا.

units.

(B)

ايڪا.

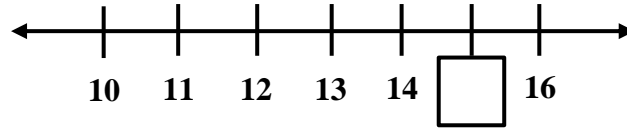
hundreds.

(C)

سَوَ.

11. Identify the missing number on the given number line.

11. هيٺ ڏنل عددي ليڪ ۾ گم ٿيل عدد جي سڃاڻپ ڪريو.



18

(A)

17

(B)

15

(C)

12. $7 \div 3 = \underline{\hspace{2cm}}$.

2 R 1

(A)

3 R 1

(B)

3 R 2

(C)

13. Identify the missing number in the following.

13. هيٺ ڏنل مان گم ٿيل عدد جي سڃاڻپ ڪريو.

$$8 + \square = 15$$

5

Ⓐ

6

Ⓑ

7

Ⓒ

14. $\frac{3}{4} - \frac{2}{4} = \underline{\hspace{2cm}}$.

$\frac{1}{4}$

Ⓐ

$\frac{3}{8}$

Ⓑ

$\frac{2}{3}$

Ⓒ

15. Subtract.

15. گٽ ڪريو.

$$\begin{array}{r} 769 \\ - 258 \\ \hline \end{array}$$

473

Ⓐ

511

Ⓑ

620

Ⓒ

16. The proper fraction from the following is

16. هيٺ ڏنل مان سبتي اڻپورجي سڃاڻپ ڪريو.

$$\frac{4}{3}$$
$$\frac{2}{5}$$
$$\frac{7}{5}$$

(A)

(B)

(C)

17. Subtract the following.

17. ڪٽ ڪريو.

$$\begin{array}{r} 5 \text{ km } 6 \text{ m} \\ - 2 \text{ km } 3 \text{ m} \\ \hline \end{array}$$

2 km 3 m

(A)

3 km 2 m


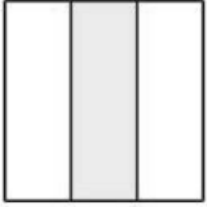

(B)

3 km 3 m

(C)

18. ھيٺ ڏنل عام اڻپورن کي لڪَ (—) وسيلي انهن جي شڪلين سان ملايو. With the help of a line (—), match the figures with common fractions.

(03 Marks)

| | |
|---------------|--|
| $\frac{1}{2}$ |  |
| $\frac{1}{4}$ |  |
| $\frac{1}{3}$ |  |

19. A boy had Rs 460. He bought a football in Rs 280. How much money is left with him? Show steps.

19. هڪ چوڪري وٽ 460 روپيا هئا. انهن مان هن 280 روپين جو هڪ فوٽ بال ورتو. ٻڌايو ته هن وٽ باقي ڪيترا پيسا بچيا؟ مرحلا ڏيکارو.

(03 Marks)



Ans. _____

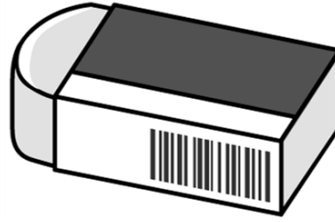
20. The price of 8 erasers is Rs 96.

What is the price of 1 eraser? Show steps.

20. 8 اريزر / ربڙن جي قيمت 96 روپيا آهي. ٻڌايو ته 1

اريزر / ربڙ جي قيمت ڇا ٿيندي؟ مرحلا ڏيکاريو.

(03 Marks)




Ans. _____


21. Draw the hands of clocks to show the time.

21. هيٺ ڏنل وقت مطابق گهڙيالن ۾ سئيون ٺاهيو.


(03 Marks)



4:25



5:40




9:05

Science

22. Water in a human body helps in the digestion of enzymes. 22. انساني جسم ۾ موجود پاڻي جنهن شيءِ کي هضم ڪرڻ ۾ مدد ڪندو آهي، اهي آهن / اهو آهي ڪاڌو. رطوبتون / انزائيمس.
23. The gradual change in the living things is called its appearance. 23. جاندارن ۾ وقت سان گڏ جيڪا تبديلي ايندي آهي، اها آهي ظاهر ٿيڻ شڪل شبيهه. ڪاڌو.
24. The part of a plant that absorbs water is shoots. 24. ٻوٽي جو حصو جيڪو پاڻي جذب ڪندو آهي، اهو آهي پاڙون. تاريون.
25. The part of a plant that absorbs water is leaves. 25. ٻوٽي جو حصو جيڪو پاڻي جذب ڪندو آهي، اهو آهي پاڙون. پٽ.
26. The part of a plant that absorbs water is roots. 26. ٻوٽي جو حصو جيڪو پاڻي جذب ڪندو آهي، اهو آهي پاڙون. پاڙون.

25. Leaves need a green substance called

25. ٲٲن کي سائي رنگ جي مادي جي ضرورت هوندي آهي، اهو آهي



fluoride.

Ⓐ

فلورائيڊ.

chlorophyll.

Ⓑ

ڪلوروفل.

chlorofluoro carbon.

Ⓒ

ڪلوروفلوروڪاربان.

26. In cold environment, animals protect themselves with the help of their

26. تڏي ماحول ۾ جانور پنهنجو پاڻ کي تڏ کان جنهن شيء جي مدد سان بچائيندا آهن، اها آهي

fur.

Ⓐ

ٲشم.

fins.

Ⓑ

ڪنڀڙاڻيون.

tail.

Ⓒ

ٲڇ.

27. Food that is rich in protein is known as food for
27. اهو کاڌو جيڪو پروٽين/لحميات سان ڀرپور هوندو آهي، ان کي چئبو آهي کاڌو



- | | | |
|---------|-----|----------------|
| life. | (A) | زندگي لاءِ |
| health. | (B) | صحت لاءِ |
| growth. | (C) | واڌ ويجهه لاءِ |

28. The system of the removal of waste material from the body of living thing is called
28. جاندارن جي جسم مان جيڪي بيڪار مادا خارج ٿيندا آهن، انهن کي چئبو آهي

- | | | |
|---------------|-----|-----------------|
| excretion. | (A) | نيڪال جو عمل |
| respiration. | (B) | ساهه کڻڻ جو عمل |
| reproduction. | (C) | پيدائش جو عمل |

29. Incisors are sharp teeth that are used to انسيزر آهي تڪا ڏند هوندا آهن جيڪي استعمال ٿيندا آهن



bite food.

Ⓐ

کاڌي کي چڪڻ ۾.

grip food.

Ⓑ

کاڌي کي پڪڙڻ ۾.

chew food.

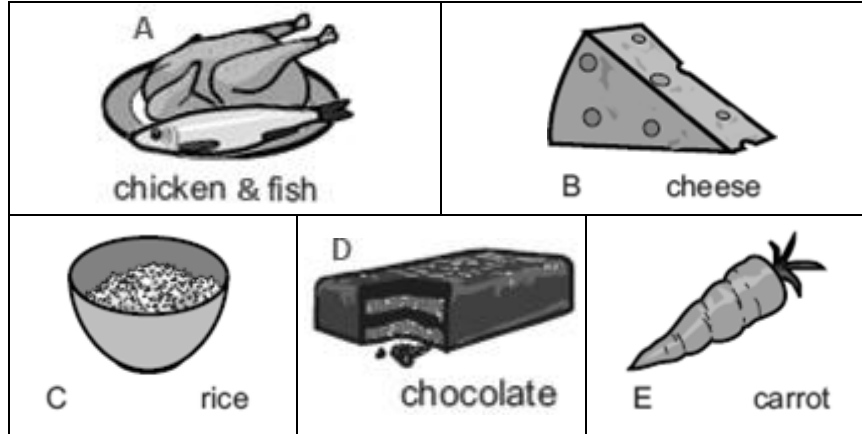
Ⓒ

کاڌي کي چباڙڻ ۾.

30. a) The given pictures are of some food items.

30. هيٺ ڪجهه کاڌن جون تصويرون ڏنل آهن.

(04 Marks)



b) Insert the alphabet in the correct box for each group of food. One has been done as an example.


هيٺ ڏنل خانن ۾ انهن جي گروپ متعلق مٿي ڏنل کاڌن وارين تصويرون مان انگريزي الفابيٽ وارو اکر لکو.

| | | |
|---|--|--|
| <div>Fruits and vegetables</div> <div>ميو ۽ ڀاڄيون</div> <div></div> | <div>Foods with a lot of carbohydrate</div> <div>نشاستي / ڪاربوهايڊريٽس سان ڀرپور کاڌو</div> <div></div> | |
| <div>Milk and dairy food</div> <div>کير ۽ کير مان ٺهيل شين وارو کاڌو</div> <div>B</div> | <div>Food with a lot of fat and sugar</div> <div>سٽپ ۽ مٺاڻ سان ڀرپور کاڌو</div> <div></div> | <div>Meat and fish</div> <div>گوشت ۽ مڇي</div> <div></div> |

31. a) With the help of the picture given, enlist **any two** features which helps this animal to adapt itself with its environment.

31. هيٺ ڏنل تصوير جي مدد سان ان جانور جون ڪي به ٻه خاصيتون لکڻ جيڪي ان کي ماحول سان مطابقت ۾ مدد ڏين ٿيون.

(02 Marks)



b) Write **any one** characteristic of each of the following parts of a plant.

هيٺ ڏنل ٻوٽي جي هر هڪ حصي جي ڪا به هڪ خاصيت لکڻ.

(02 Marks)

| Parts of plants ٻوٽي جا حصا | Characteristics خاصيتون |
|--------------------------------|----------------------------|
| Flower گل | |
| Fruit ميوو | |

32. a) Given table shows the state of matter of some materials.

32. هيٺ ڏنل جدول / ٽيبل ڪجهه شين جي مادي جون

حالتون ڏيکاري رهي آهي.

Identify the correct state of each material and place a tick (✓) on the correct answer.

صحيح خاني تي ٽڪ (✓) جو نشان لڳائيندي صحيح

حالت جي سڃاڻپ ڪريو.

One has been done as an example.

هڪ مثال حل ڪيل آهي.

(03 Marks)

| Material سامان | Solid نهر | Liquid پاڻياڻ | Gas گيس |
|-------------------------------|--------------|------------------|------------|
| Rice چانور | ✓ | | |
| Tea چانهه | | | |
| Orange Juice نارنگي جو جوس | | | |
| Oxygen آڪسيجن | | | |

b) Write **any one** property of **liquid**.

پاڻياڻ جي ڪا به هڪ خاصيت لکو.

(01 Mark)

English

33. My car is



broken.

Ⓐ

tall.

Ⓑ

gigantic.

Ⓒ

34. Choose the best article to fill in the blank.

_____elephant was sleeping in the forest.

The

Ⓐ

An

Ⓑ

A

Ⓒ

35. Which word should replace “her” in the sentence?

Her enjoys reading stories.

He Ⓐ

She Ⓑ

Them Ⓒ

36. These books are



light. Ⓐ

heavy. Ⓑ

chunky. Ⓒ

37. Choose the correct verb to fill in the blank.

Can you _____ to the park today?

come Ⓐ

read Ⓑ

sleep Ⓒ

38. The singular of books is

book.

Ⓐ

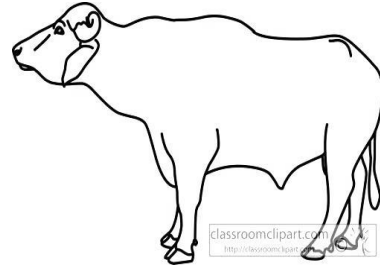

bookes.

Ⓑ

bookies.

Ⓒ

39. The feminine of the “Bull” is



cow.

Ⓐ

duck.

Ⓑ

buffalow.

Ⓒ

40. Identify the uncountable noun from the following.

stars

Ⓐ

bags

Ⓑ

cups

Ⓒ

41. Rewrite the following sentences and capitalize where required. (02 Marks)

a) my favourite city is hyderabad

b) my best friend is ella

42. Write the pronoun of the underline words. (02 Marks)

| |
|--------------|
| He, It, They |
|--------------|

Sara and Fatima are watching TV.

Sarmad is sleeping.

_____ are watching TV.

_____ is sleeping.

43. Guess which animal I am. (02 Marks)

a) I am huge and strong.

I live in jungle.

I am called “king of the jungle”.

L _ _ _ n

b) I am small.

I am green in colour.

I eat green chillies.

P _ _ _ _ t

44. Add suitable preposition in the following sentence. **(01 Mark)**

Books are _____ the bag.

45. Choose the word from given box and write in the given space. **(03 Marks)**

| |
|-------------------------|
| helps, plays, lives |
|-------------------------|

My friend's name is Ahmed. He _____ near to my home. He _____ me
in my study. He always _____ with me.

46. Write opposites of the following words. **(02 Marks)**

Clean _____

Strong _____