

Promoting Private Schooling in Rural Sindh (PPRS)

Assessment Feb - Mar 2019



Sindh Education Foundation
Government of Sindh

Assessment Unit

Subject	Marks	Time
Sindhi	15	25 Minutes
Mathematics	20	35 Minutes
Science	20	30 Minutes
English	20	30 Minutes
Total	75	120 Minutes

INSTRUCTIONS FOR THE STUDENT

طلباء کے لئے ہدایات
معروضی حصہ

Objective Part

▪ All questions are compulsory.	▪ تمام سوالات لازمی ہیں۔
▪ All questions carry equal marks.	▪ تمام سوالات کے مارکس یکساں ہیں۔
▪ Do not fill more than one option for one question. Multiple options will be considered wrong.	▪ ایک سوال کے جواب کے لئے صرف ایک ہی اختیار کو پر کریں۔ ایک سے زیادہ جوابات غلط تصور کئے جائیں گے۔
▪ Fill correct options according to the following example.	▪ سوالات کے جوابات دی گئی مثال کے مطابق حل کریں۔
<p style="text-align: center;">A <input checked="" type="radio"/> B C D</p>	
▪ Pencil should be used to fill the answers.	▪ جوابات دینے کے لئے پنسل کا استعمال کریں۔
▪ Finish each part in the given time as mentioned in the paper.	▪ پرچے میں موجود سوالات کو دئے گئے وقت کے مطابق حل کریں۔
▪ Use the given blank page for rough work.	▪ رف ورک کے لئے پرچے میں موجود خالی صفحہ استعمال کریں۔

INSTRUCTIONS FOR THE STUDENT

طلباء کے لئے ہدایات

Subjective Part

موضوعی حصہ

▪ All questions are compulsory.	▪ تمام سوالات لازمی ہیں۔
▪ Finish each question in the given time as mentioned in the paper.	▪ پرچے میں موجود موضوعی حصے کو دیے گئے وقت کے مطابق حل کریں۔
▪ Avoid over writing or untidy work.	▪ گندی اور خراب لکھائی سے پرہیز کریں۔
▪ Use the given blank page for math's rough work.	▪ حساب کارف کام کرنے کے لئے دیے گئے خالی پرچے کا استعمال کریں۔
▪ Pencil should be used to write the answers.	▪ جوابات دینے کے لئے پنسل کا استعمال کریں۔

MCQ Practice

1. Name of our country is

1. ہمارے ملک کا نام ہے

Kenya.

(A)

کینیا۔

Pakistan.

(B)

پاکستان۔

Indonesia.

(C)

انڈونیشیا۔

2. Add.

2. جمع کریں۔

$$2 + 2 = \underline{\hspace{2cm}}.$$

4

(A)

6

(B)

8

(C)

سنڌي

1. هيٺ ڏنل لفظ جو ضد ڪهڙو آهي؟

نئون

(A)

سدائين

(B)

پراڻو

(C)

ايندو

2. سنڌ صوبي ۾ عام طور تي _____ بولي ڳالهائي وڃي ٿي.

(A)

سنڌي

(B)

بلوچي

(C)

سرائڪي

3. هيٺ ڏنل جملي کي مڪمل ڪرڻ لاءِ مناسب لفظ چونڊيو.

هيءَ پين عابده _____ آهي.

(A)

جا

(B)

تي

(C)

جي

4. مسڪين جهان خان ڪوسو، سنڌ جي تاريخي ضلعي _____ جي ڳوٺ ”سامي“ جي ويريءَ ۾ ڄائو.

- Ⓐ لاڙڪاڻو
- Ⓑ ٿرپارڪر
- Ⓒ سکر

5. ٿرئفڪ جي اشارن ۾ سائي بتيءَ جو مطلب ڇا آهي؟

- Ⓐ هاڻي گاڏي هلايو.
- Ⓑ هاڻي گاڏي روڪيو.
- Ⓒ هاڻي گاڏي هلڻ لاءِ تيار رکو.

6. قرباني جي گوشت جا ڪيترا حصا ڪبا آهن؟

- Ⓐ ٽي
- Ⓑ چار
- Ⓒ پنج

7. هيٺ ڏنل لفظن کي تير وسيلي انهن جي ساڳي معنيٰ وارن لفظن سان ملايو. 03 مارڪون

لفظ	معنيٰ
سياڻو	اُن جو
مالا مال	نصيب- پاڳ- بخت
سندس	شاهوڪار- امير
قسمت	ڏاهو

مثال

03 مارڪون

8. هيٺ ڏنل تصوير کي غور سان ڏسو ۽ پڇيل سوالن جا جواب لکو.



الف. مٿي ڏيکاريل تصوير ۾ ڪيترا ٻار آهن؟

ب. مٿي ڏيکاريل تصوير مان ڪنهن به هڪ ساھ واري جو نالو لکو.

ج. چوڪري ڇا تي لڏي رهي آهي؟

9. ڇا توهان کي خبر آهي ته سنڌي ٻوليءَ ۾ جن لفظن جي آخري اکر تي پيش (ءُ) ايندو آهي، اُهي واحد لفظ هوندا آهن. پيش (ءُ) جي جاءِ تي زبر (َ) لڳائي ساڳئي لفظ کي جمع ۾ بدلائي ڇڏبو آهي. 03 مارڪون

مثال: گلاسُ _____ گلاسَ
هيٺ ڏنل واحد لفظن کي جمع ۾ بدلايو.

واحد	جمع
ڪتابُ	
جبلُ	
ڪنُ	

Rough Work

Rough Work

Rough Work

Rough Work

Mathematics

10. Two digits numbers are called

10. دو عددی نمبر کہلاتے ہیں

hundreds.

(A)

سینکڑا۔

tens.

(B)

دھائی۔

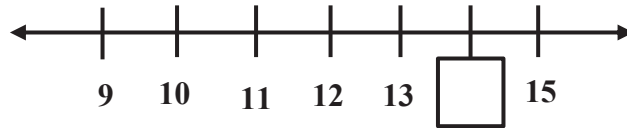
units.

(C)

اکائی۔

11. Identify the missing number on the given number line.

11. دی گئی نمبر لائن میں گمشدہ عدد کی نشاندہی کریں۔



14

(A)

16

(B)

17

(C)

12. $4 \div 3 = \underline{\hspace{2cm}}$.

2 R 2

(A)

1 R 1

(B)

1 R 2

(C)

13. Identify the missing number in the following.

13. دیے گئے میں سے گمشدہ عدد کی نشاندہی کریں۔

$$7 + \square = 13$$

5

Ⓐ

6

Ⓑ

8

Ⓒ

14. $\frac{2}{7} - \frac{1}{7} = \underline{\hspace{2cm}}$.

$\frac{1}{7}$

Ⓐ

$\frac{7}{5}$

Ⓑ

$\frac{1}{5}$

Ⓒ

15. Subtract.

15. تفریق کریں۔

$$\begin{array}{r} 767 \\ - 424 \\ \hline \end{array}$$

267

Ⓐ

343

Ⓑ

459

Ⓒ

16. Identify the proper fraction from the following.

16. دیے گئے میں سے واجب کسر کی نشاندہی کریں۔

$$\frac{5}{4}$$
$$\frac{3}{2}$$
$$\frac{2}{3}$$

(A)

(B)

(C)

17. Subtract the following.

17. دیے گئے کو تفریق کریں۔

$$\begin{array}{r} 6 \text{ km } 3 \text{ m} \\ - 4 \text{ km } 1 \text{ m} \\ \hline \end{array}$$

1 km 2 m

(A)

2 km 1 m

(B)




2 km 2 m

(C)

18. With the help of a line (—), match the figures with common fractions.

18. لکیر (—) کی مدد سے دی گئی اشکال کو کسر عام سے ملائیں۔

(03 Marks)

$\frac{2}{3}$	
$\frac{1}{4}$	
$\frac{1}{2}$	

19. A boy has Rs 465. He bought a cricket bat in Rs 310. How much money has left with him? Show steps.

19. ایک لڑکے کے پاس 465 روپے تھے۔ اس نے ایک کرکٹ کا بلّا 310 روپے میں خریدا۔ بتائیے اس کے پاس کتنے روپے باقی بچے؟ مراحل دکھائیں۔

(03 Marks)




Ans. _____

20. The price of 7 sharpeners is Rs 84.
What is the price of 1 sharpener?
Show steps.

20. 7 شارپنرز کی قیمت 84 روپے ہے۔ بتائیے 1 شارپنر کی قیمت کیا ہوگی؟ مراحل دکھائیں۔


(03 Marks)




Ans. _____

21. Draw the hands of clocks to show the time. 21. گھڑیوں کی سوئیاں بنا کر دیئے گئے وقت کی نشاندہی کریں۔


(03 Marks)



5:15



7:35



10:10

Science

22. Birds can fly with the help of

22. پرندے اڑ سکتے ہیں مدد سے

wings.

(A)

پروں کی۔

water.

(B)

پانی کی۔

hair.

(C)

بالوں۔

23. The most essential and important need of every living thing is

23. جانداروں کے لئے سب سے اہم اور ضروری ہے

juice.

(A)

جوس۔

soda.

(B)

سوڈا۔

water.

(C)

پانی۔

24. Plants use carbon dioxide and water in the presence of sunlight to make

24. سورج کی موجودگی میں پودے کاربن ڈائی آکسائیڈ اور پانی کو استعمال کرتے ہیں بنانے کے لئے

glucose.

(A)

گلوکوز۔

sucrose.

(B)

سکروز۔

lactose.

(C)

لیکٹوس۔

25. Camel can live without food and water for so many days because of its

25. جس وجہ سے اونٹ طویل عرصے تک بغیر پانی اور خوراک کے رہ سکتے ہیں وہ ہے انکی / انکا

fat.

(A)

چربی۔

height.

(B)

قد۔

shape.

(C)

ہیبت / جثہ۔

26. Food that is rich in fats is called food for

26. وہ خوراک جو چکنائی سے بھرپور ہوتی ہے، کہلاتی ہے خوراک برائے

life.

(A)

زندگی۔

health.

(B)

صحت۔

warmth.

(C)

گرمائش۔

27. Plants get their energy from

27. پودے اپنے لئے توانائی حاصل کرتے ہیں

mural.

(A)

کھاد سے۔

sand.

(B)

مٹی سے۔

sun.

(C)

سورج سے۔

28. Air is a mixture of

28. ہوا آمیزہ ہے

gases.

Ⓐ

گیسوں کا۔

smoke.

Ⓑ

دھوئیں کا۔

liquids.

Ⓒ

مالع کا۔

29. Incisors are sharp teeth that are used to

29. انسزروہ تیز دانت ہوتے ہیں جو مدد دیتے ہیں

bite food.

Ⓐ

خوراک کو کاٹنے میں۔

grip food.

Ⓑ

خوراک کو پکڑنے میں۔

chew food.

Ⓒ

خوراک کو چبانے میں۔



30. a) Animals and plants are found in different habitats. Draw a line from each picture to the habitat it is found in

30. جانور اور پودے مختلف اقسام کے ماحول میں پائے جاتے ہیں۔ دی گئی تصویروں کو ان کے موزوں ماحول سے ملائیں۔

(02 Marks)

Pictures

تصاویر



Habitat

ماحول

desert

sea

pond

volcano

b) Write **any one** characteristic of each of the following parts of a plant.

دیے گئے پودے کے حصوں کی کوئی ایک خاصیت تحریر کریں۔

(02 Marks)

Parts of plants پودے کے حصے	Characteristics خصوصیات
Leaf پتہ	
Seed بیج	

31. Select the right type of food suitable for the given body parts.

31. جسم کے مختلف حصوں کے لئے موزوں غذا کا انتخاب کریں۔

Mango

Fish

Carrot

cheese

آم

مچھلی

گاجر

پنیر

(04 Marks)

Name of body parts جسم کے حصوں کے نام	Suitable food موزوں غذا
Skin جلد	
Teeth & Gum مسوڑھے اور دانت	
Eyes آنکھیں	
Tongue زبان	

32. a) Given table shows the state of matter of some materials.

32. دیئے گئے جدول میں مادے کی کچھ حالتیں دکھائی گئی ہیں۔

Identify the correct state and complete the table by placing a tick (✓) on the correct answer.

موزوں خانے میں ٹک (✓) لگا کر مادے کی صحیح حالت کی نشاندہی کریں۔

One has been done as an example.

مثال آپ کی سہولت کے لیے دی گئی ہے۔

(03 Marks)

Material مواد	Solid ٹھوس	Liquid پانی	Gas گیس
Wool اُولن	✓		
Juice جوُس			
Soda water سوڈے کا پانی			
Carbon dioxide کاربن ڈائی آکسائیڈ			

b) Write any one property of solid.

ٹھوس کی کوئی ایک خصوصیت لکھیں۔

(01 Mark)

English

33. My grandmother _____ old.



am

Ⓐ

is

Ⓑ

are

Ⓒ

34. Choose the best article to fill in the blank.

_____ listeners laughed with him.

The

Ⓐ


An

Ⓑ

A

Ⓒ

35. Her hair is



short.

(A)

long.

(B)

huge.

(C)

36. Which word should replace “him” in the sentence?

Him enjoys playing baseball.

Her

(A)

She

(B)

He

(C)

37. Choose the correct verb to fill in the blank.

Can you _____ the book?

hear Ⓐ

read Ⓑ

taste Ⓒ

38. The plural of “tree” is

trees. Ⓐ

tress. Ⓑ

tries. Ⓒ

39. The masculine of “ mother ” is



brother.

(A)

father.

(B)

uncle.

(C)

40. The countable noun from the following words is

fan.

(A)

sugar.

(B)

tea.

(C)

41. Rewrite the following sentences and capitalize where required. (02 Marks)

a) this is my mother

b) my father decided to go to badin

42. Write the pronoun of the underlined words. (02 Marks)

They, We, Her, She

Ali and Asad are laughing.

Amna is writing.

_____ are laughing.

_____ is writing.

43. Guess which animal I am. (02 Marks)

a) I am a big, strong animal.
I have a trunk, trunk is my nose.
My colour is grey.

E _ _ _ _ _ t

b) I am small animal.
I don't like mouse.
I drink lots of milk.

C _ _ t

44. Add suitable preposition in the following sentence. (01 Mark)

I am sitting _____ chair.

45. Choose the word from the given box and write in the given space. (03 Marks)

starts go play

I _____ to school daily with my grandfather. My grandfather wears glasses.

Our school _____ at 8:00 clock. Me and my friend Ali _____ together.

46. Write the opposites of the following words. (02 Marks)

Up _____

Dirty _____