

Promoting Private Schooling in Rural Sindh (PPRS)

Assessment Feb - Mar 2019



Sindh Education Foundation
Government of Sindh

Assessment Unit

Subject	Marks	Time
Sindhi	15	25 Minutes
Mathematics	20	35 Minutes
Science	20	30 Minutes
English	20	30 Minutes
Total	75	120 Minutes

INSTRUCTIONS FOR THE STUDENT

طلباء کے لئے ہدایات

Objective Part

معروضی حصہ

▪ All questions are compulsory.	▪ تمام سوالات لازمی ہیں۔
▪ All questions carry equal marks.	▪ تمام سوالات کے مارکس یکساں ہیں۔
▪ Do not fill more than one option for one question. Multiple options will be considered wrong.	▪ ایک سوال کے جواب کے لئے صرف ایک ہی اختیار کو پر کریں۔ ایک سے زیادہ جوابات غلط تصور کئے جائیں گے۔
▪ Fill correct options according to the following example.	▪ سوالات کے جوابات دی گئی مثال کے مطابق حل کریں۔
<p style="text-align: center;">A <input checked="" type="radio"/> B C D</p>	
▪ Pencil should be used to fill the answers.	▪ جوابات دینے کے لئے پنسل کا استعمال کریں۔
▪ Finish each part in the given time as mentioned in the paper.	▪ پرچے میں موجود سوالات کو دئے گئے وقت کے مطابق حل کریں۔
▪ Use the given blank page for rough work.	▪ رف ورک کے لئے پرچے میں موجود خالی صفحہ استعمال کریں۔

INSTRUCTIONS FOR THE STUDENT

طلباء کے لئے ہدایات

Subjective Part

موضوعی حصہ

▪ All questions are compulsory.	▪ تمام سوالات لازمی ہیں۔
▪ Finish each question in the given time as mentioned in the paper.	▪ پرچے میں موجود موضوعی حصے کو دئے گئے وقت کے مطابق حل کریں۔
▪ Avoid over writing or untidy work.	▪ گندی اور خراب لکھائی سے پرہیز کریں۔
▪ Use the given blank page for math's rough work.	▪ حساب کارف کام کرنے کے لئے دیے گئے خالی پرچے کا استعمال کریں۔
▪ Pencil should be used to write the answers.	▪ جوابات دینے کے لئے پنسل کا استعمال کریں۔

MCQ Practice

1. Name of our country is

1. ہمارے ملک کا نام ہے

Kenya.

(A)

کینیا۔

Pakistan.

(B)

پاکستان۔

Indonesia.

(C)

انڈونیشیا۔

2. Add.

2. جمع کریں۔

$$2 + 2 = \underline{\hspace{2cm}}.$$

4

(A)

6

(B)

8

(C)

سنڌي

1. هيٺ ڏنل لفظ جو ضد ڪهڙو آهي؟

سولائي

- Ⓐ مالڪ
- Ⓑ جنسار
- Ⓒ ڏکيائي

2. هيٺ ڏنل جملن مان ڪهڙو جملو درست آهي؟

- Ⓐ احمد ٻاهر وڃي رهيو آهي.
- Ⓑ احمد وڃي رهيو ٻاهر آهي.
- Ⓒ وڃي رهيو آهي احمد ٻاهر.

3. هيٺ ڏنل جملي کي مڪمل ڪرڻ لاءِ مناسب لفظ چونڊيو.

ناهيد _____ بابا آيو آهي.

- جو (A)
- جا (B)
- تي (C)

4. هيٺ ڏنل جملي ۾ اسم ڪهڙو آهي؟

آسيه ڪم ڪري رهي آهي.

- ڪم (A)
- رهي (B)
- آسيه (C)

5. ترتيب جي اشارن ۾ ڳاڙهي بتيءَ جو مطلب ڇا آهي؟

- هاڻي گاڏي هلايو. (A)
- هاڻي گاڏي روڪيو. (B)
- هاڻي گاڏي هلڻ لاءِ تيار رکو. (C)

6. هيٺ ڏنل جملي کي مڪمل ڪرڻ لاءِ مناسب لفظ چونڊيو.

ڪالهه منهنجو امتحان _____.

Ⓐ

هو

Ⓑ

آهي

Ⓒ

هوندو

7. هيٺ ڏنل لفظن کي تير وسيلي انهن جي ساڳي معنيٰ وارن لفظن سان ملايو. 03 مارڪون

لفظ	معنيٰ
سياڻو	پراڻو - آڳاٽو
جڳ	ناهيو
قديم	دنيا - جهان
بنايو	ڏاهو

مثال

8. هيٺ ڏنل تصوير کي غور سان ڏسو ۽ پڇيل سوالن جا جواب لکون.

03 مارڪون



الف. مٿي ڏيکاريل تصوير ڪهڙي جڳهه / جاءِ جي آهي؟

ب. مٿي ڏيکاريل تصوير مان ڪنهن به هڪ ساھ واري جو نالو لکون.

ج. مٿي ڏيکاريل تصوير ۾ ٻار ڇا ڪري رهيا آهن؟

9. ڇا توهان کي خبر آهي ته سنڌي ٻوليءَ ۾ جن لفظن جي آخري اکر تي زُبر (ُ) ايندي آهي، اُهي
واحد لفظ هوندا آهن. زُبر (ُ) جي جاءِ تي وٺ لڳائي ساڳئي لفظ کي جمع ۾ بدلائي ڇڏبو آهي.
03 مارڪون

مثال: تصوير _____ تصويرون
هيٺ ڏنل واحد لفظن کي جمع ۾ بدلايو.

واحد	جمع
رِي	
بَدَڪَ	
تَارَ	

Rough Work

Rough Work

Rough Work

Mathematics

10. Three digits numbers are called

10. تین عددی نمبر کہلاتے ہیں

tens.

(A)

دھائی۔

units.

(B)

اکائی۔

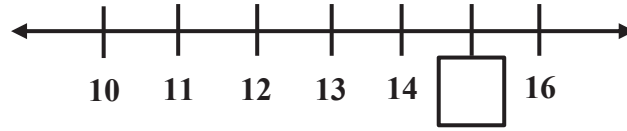
hundreds.

(C)

سینکڑا۔

11. Identify the missing number on the given number line.

11. دی گئی نمبر لائن میں گمشدہ عدد کی نشاندہی کریں۔



18

(A)

17

(B)

15

(C)

12. $7 \div 3 = \underline{\hspace{2cm}}$.

2 R 1

(A)

3 R 1

(B)

3 R 2

(C)

13. Identify the missing number in the following.

13. دیے گئے میں سے گمشدہ عدد کی نشاندہی کریں۔

$$8 + \square = 15$$

5

(A)

6

(B)

7

(C)

14. $\frac{3}{4} - \frac{2}{4} = \underline{\hspace{2cm}}$.

$\frac{1}{4}$

(A)

$\frac{3}{8}$

(B)

$\frac{2}{3}$

(C)

15. Subtract.

15. تفریق کریں۔

$$\begin{array}{r} 769 \\ - 258 \\ \hline \end{array}$$

473

(A)

511

(B)

620

(C)

16. Identify the proper fraction from the following.

16. دیے گئے میں سے واجب کسر کی نشاندہی کریں۔

$$\frac{4}{3}$$
$$\frac{2}{5}$$
$$\frac{7}{5}$$

(A)

(B)

(C)

17. Subtract the following.

17. دیے گئے کو تفریق کریں۔

5 km 6 m

— 2 km 3 m

2 km 3 m

(A)

3 km 2 m


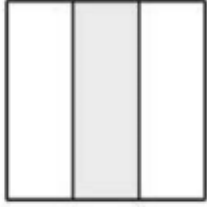

(B)

3 km 3 m

(C)

18. With the help of a line (—), match the figures with common fractions. 18. کلیر (—) کی مدد سے دی گئی اشکال کو کسر عام سے ملائیں۔

(03 Marks)

$\frac{1}{2}$	
$\frac{1}{4}$	
$\frac{1}{3}$	

19. A boy had Rs 460. He bought a football in Rs 280. How much money is left with him? Show steps.

19. ایک لڑکے کے پاس 460 روپے تھے۔ اس نے ایک فٹبال 280 روپے میں خریدی۔ بتائیے اس کے پاس کتنے روپے باقی بچے؟ مراحل دکھائیں۔

(03 Marks)



Ans. _____

20. The price of 8 erasers is Rs 96. What is the price of 1 eraser? Show steps.
20. 8 ربڑوں کی قیمت ہے 96 روپے۔ بتائیے 1 ربڑ کی قیمت کتنی ہوگی؟ مراحل دکھائیے۔

(03 Marks)




Ans. _____


21. Draw the hands of clocks to show the time.

21. گھڑیوں کی سوئیاں بنا کر دیئے گئے وقت کی نشاندہی کریں۔


(03 Marks)



4:25



5:40



9:05

Science

22. Water in a human body helps in the digestion of

22. انسانی جسم میں موجود پانی مدد کرتا ہے ہضم کرنے میں

enzymes.

(A)

خامروں کو۔

food.

(B)

غذا کو۔

acid.

(C)

تیزاب کو۔

23. The gradual change in the living things is called its

23. جانداروں میں وقت کے ساتھ جو تبدیلی ظاہر ہوتی ہے وہ کہلاتی ہے

appearance.

(A)

ظاہری شکل۔

stability.

(B)

استحکام۔

growth.

(C)

نشوونما۔

24. The part of a plant that absorbs water is

24. پودے کا وہ حصہ جو پانی جذب کرتا ہے وہ ہے

shoots.

(A)

ٹہنیاں۔

leaves.

(B)


پتے۔

roots.

(C)

جڑیں۔

25. Leaves need a green substance called پتوں کو ضرورت ہوتی ہے ہرے رنگ کے مادے کی جو کہلاتا ہے



fluoride.

(A)

فلورائیڈ۔

chlorophyll.

(B)

کلوروفل۔

chlorofluoro carbon.

(C)

کلوروفل کاربن۔

26. In cold environment, animals
protect themselves with the help of
their

26. سرد ماحول میں جانور اپنے آپ کو محفوظ رکھتے ہیں مدد سے اپنی

fur.

(A)

بالوں والی کھال کی۔

fins.

(B)

فنز کی۔

tail.

(C)

ڈم کی۔

27. Food that is rich in protein is known as food for

27. پروٹین سے بھرپور غذا کہلاتی ہے خوراک



life.

(A)

زندگی کے لئے۔

health.

(B)

صحت کے لئے۔

growth.

(C)

بڑھنے کے لئے۔

28. The system of the removal of waste material from the body of living thing is called

28. جاندار کے جسم سے فاضل مادے کے نکلنے کا نظام کہلاتا ہے

excretion.

(A)

اخراج۔

respiration.

(B)

تنفس۔

reproduction.

(C)

تولید۔

29. Incisors are sharp teeth that are used to

29. انسیرز وہ تیز دانت ہوتے ہیں جو استعمال ہوتے ہیں خوراک کو

bite food.

Ⓐ

کاٹنے کے لئے۔

grip food.

Ⓑ

پکڑنے کے لئے۔

chew food.

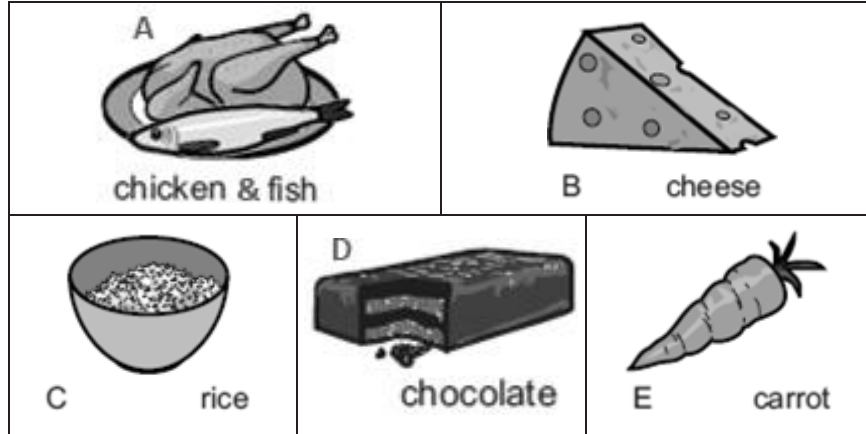
Ⓒ

چبانے کے لئے۔

30. a) The given pictures are of some food items.

30. دی گئی تصاویر کچھ مختلف کھانے کی چیزوں کی ہیں۔

(04 Marks)



b) Insert the alphabet in the correct box for each group of food. One has been done as an example.


دیئے گئے باکس میں اس گروپ سے متعلق کھانے کا حرف تہجی لکھیں۔ ایک آپ کے لیے مثال کے طور پر حل کر دیا گیا ہے۔

<div>Fruits and vegetables</div> <div>سبزیاں اور پھل</div> <div></div>	<div>Foods with a lot of carbohydrate</div> <div>کاربوہائیڈریٹ سے بھرپور غذا</div> <div></div>	
<div>Milk and dairy food</div> <div>دودھ اور ڈیری غذا</div> <div>B</div>	<div>Food with a lot of fat and sugar</div> <div>چکنائی اور چینی سے بھرپور غذا</div> <div></div>	<div>Meat and fish</div> <div>گوشت اور مچھلی</div> <div></div>

31. a) With the help of the picture given, enlist **any two** features which helps this animal to adapt itself with its environment.

31. دی گئی تصویر کی مدد سے اس جانور کی کوئی دو خصوصیات لکھیں جو اس کو ماحول سے مطابقت دینے میں مدد دیتی ہے۔

(02 Marks)



- 1) _____
- 2) _____

b) Write **any one** characteristic of each of the following parts of a plant.

دیئے گئے پودے کے حصوں کی کوئی ایک خاصیت لکھیں۔

(02 Marks)

Parts of plants پودے کے حصے	Characteristics خصوصیات
Flower پھول	
Fruit پھل	

32. a) Given table shows the state of matter of some materials.

32. دیا گیا جدول کچھ مواد کے مادے کی حالات دکھا رہا ہے۔

Identify the correct state of each material and place a tick (✓) on the correct answer.

دیئے گئے مادے کی صحیح حالتوں پر ٹک (✓) کا نشان لگائیں۔

One has been done as an example.

ایک مثال آپ کے لیے حل کر دی گئی ہے۔

(03 Marks)

Material مواد	Solid ٹھوس	Liquid مائع	Gas گیس
Rice چاول	✓		
Tea چائے			
Orange Juice کینو کا جوس			
Oxygen آکسیجن			

b) Write any one property of liquid.

مائع کی کوئی ایک خصوصیت لکھیں۔

(01 Mark)

English

33. My car is



broken.

Ⓐ

tall.

Ⓑ

gigantic.

Ⓒ

34. Choose the best article to fill in the blank.

_____elephant was sleeping in the forest.

The

Ⓐ

An

Ⓑ

A

Ⓒ

35. Which word should replace “her” in the sentence?

Her enjoys reading stories.

He (A)

She (B)

Them (C)

36. These books are



light. (A)

heavy. (B)

chunky. (C)

37. Choose the correct verb to fill in the blank.

Can you _____ to the park today?

come (A)

read (B)

sleep (C)

38. The singular of books is

book.

(A)



bookes.

(B)

bookies.

(C)

39. The feminine of the “Bull” is



cow.

(A)

duck.

(B)

buffalow.

(C)

40. Identify the uncountable noun from the following.

stars

(A)

bags

(B)

cups

(C)

41. Rewrite the following sentences and capitalize where required. (02 Marks)

a) my favourite city is hyderabad

b) my best friend is ella

42. Write the pronoun of the underline words. (02 Marks)

He, It, They

Sara and Fatima are watching TV.

Sarmad is sleeping.

_____ are watching TV.

_____ is sleeping.

43. Guess which animal I am. (02 Marks)

a) I am huge and strong.

I live in jungle.

I am called “king of the jungle”.

L _ _ _ n

b) I am small.

I am green in colour.

I eat green chillies.

P _ _ _ _ t

44. Add suitable preposition in the following sentence. (01 Mark)

Books are _____ the bag.

45. Choose the word from given box and write in the given space. (03 Marks)

helps, plays, lives

My friend's name is Ahmed. He _____ near to my home. He _____ me in my study. He always _____ with me.

46. Write opposites of the following words. (02 Marks)

Clean _____

Strong _____